

## Education Consultant India Ltd.

### Notations :

- Options shown in green color and with ✓ icon are correct.
- Options shown in red color and with ✗ icon are incorrect.

Question Paper Name:	Assistant Teacher Primary 11th November 2019 Shift 2
Subject Name:	ASSISTANT TEACHER PRIMARY
Creation Date:	2019-11-11 15:32:59
Duration:	120
Total Marks:	200
Display Marks:	Yes
Share Answer Key With Delivery Engine:	No
Actual Answer Key:	Yes
Calculator:	None
Magnifying Glass Required?:	No
Ruler Required?:	No
Eraser Required?:	No
Scratch Pad Required?:	No
Rough Sketch/Notepad Required?:	No
Protractor Required?:	No
Show Watermark on Console?:	Yes
Highlighter:	No
Auto Save on Console?:	No

### Mental Ability

Group Number :	1
Group Id :	9983671221
Group Maximum Duration :	0
Group Minimum Duration :	0
Revisit allowed for view? :	No
Revisit allowed for edit? :	No
Break time:	0
Group Marks:	20
Revisit allowed for group Instructions? :	Yes
Maximum Instruction Time:	0
Minimum Instruction Time:	0

### Mental Ability

Section Id :	9983671620
Section Number :	1
Section type :	Online
Mandatory or Optional:	Mandatory
Number of Questions:	20
Number of Questions to be attempted:	20
Section Marks:	20

Display Number Panel: Yes  
Group All Questions: No

Sub-Section Number: 1  
Sub-Section Id: 9983672016  
Question Shuffling Allowed : Yes

Question Number : 1 Question Id : 99836739425 Question Type : MCQ Option Shuffling : Yes Display Question Number : Yes  
Single Line Question Option : No Option Orientation : Vertical

Correct Marks : 1 Wrong Marks : 0.25

A series is given with one term missing. Select the correct alternative from the given ones that will complete the series.

T16, W12, Z8, ?, F0

Options :

1. ✖ C2

2. ✔ C4

3. ✖ D6

4. ✖ D4

Question Number : 1 Question Id : 99836739425 Question Type : MCQ Option Shuffling : Yes Display Question Number : Yes  
Single Line Question Option : No Option Orientation : Vertical

Correct Marks : 1 Wrong Marks : 0.25

एक अनुक्रम दिया गया है, जिसमें से एक पद लुप्त है। दिए गए विकल्पों में से वह सही विकल्प चुनिए, जो अनुक्रम को पूरा करे।

T16, W12, Z8, ?, F0

Options :

1. ✖ C2

2. ✔ C4

3. ✖ D6

4. ✖ D4

Question Number : 2 Question Id : 99836739426 Question Type : MCQ Option Shuffling : Yes Display Question Number : Yes  
Single Line Question Option : No Option Orientation : Vertical

Correct Marks : 1 Wrong Marks : 0.25

A series is given with one term wrong. Select that wrong term from the given alternatives.

FRL, JUH, NXD, RAY, VDV

Options :

1. ✖ NXD

2. ✖ JUH

3. ✔ RAY

4. ✖ VDV

Question Number : 2 Question Id : 99836739426 Question Type : MCQ Option Shuffling : Yes Display Question Number : Yes  
Single Line Question Option : No Option Orientation : Vertical

Correct Marks : 1 Wrong Marks : 0.25

एक अनुक्रम दिया गया है, जिसमें से एक पद गलत है। दिए गए विकल्पों में से उस गलत पद को चुनिए।

FRL, JUH, NXD, RAY, VDV

Options :

1. ✖ NXD
2. ✖ JUH
3. ✔ RAY
4. ✖ VDV

Question Number : 3 Question Id : 99836739427 Question Type : MCQ Option Shuffling : Yes Display Question Number : Yes  
Single Line Question Option : No Option Orientation : Vertical

Correct Marks : 1 Wrong Marks : 0.25

In the following question, select the odd word pair from the given alternatives.

Options :

1. ✔ Table - Furniture
2. ✖ Pen - Write
3. ✖ Rubber - Erase
4. ✖ Gun - Kill

Question Number : 3 Question Id : 99836739427 Question Type : MCQ Option Shuffling : Yes Display Question Number : Yes  
Single Line Question Option : No Option Orientation : Vertical

Correct Marks : 1 Wrong Marks : 0.25

निम्नलिखित प्रश्न में दिए गए विकल्पों में से विषम शब्द युग्म को चुनिए।

Options :

1. ✔ मेज - फर्नीचर
2. ✖ कलम - लिखना
3. ✖ रबड़ - मिटाना
4. ✖ बंदूक - मारना

Question Number : 4 Question Id : 99836739428 Question Type : MCQ Option Shuffling : Yes Display Question Number : Yes  
Single Line Question Option : No Option Orientation : Vertical

Correct Marks : 1 Wrong Marks : 0.25

In the following question, select the related letters from the given alternatives.

GL : BF :: RJ : ?

Options :

1. ✖ ME
2. ✖ NE
3. ✖ ND
4. ✔ MD

Question Number : 4 Question Id : 99836739428 Question Type : MCQ Option Shuffling : Yes Display Question Number : Yes  
Single Line Question Option : No Option Orientation : Vertical

Correct Marks : 1 Wrong Marks : 0.25

निम्नलिखित प्रश्न में दिए गए विकल्पों में से संबंधित अक्षरों को चुनिए।

GL : BF :: RJ : ?

Options :

1. ✖ ME
2. ✖ NE
3. ✖ ND
4. ✔ MD

Question Number : 5 Question Id : 99836739429 Question Type : MCQ Option Shuffling : Yes Display Question Number : Yes  
Single Line Question Option : No Option Orientation : Vertical

Correct Marks : 1 Wrong Marks : 0.25

In the following question, select the related word pair from the given alternatives.

Indoor : Chess :: ?

Options :

- ✗ Outdoor : Ludo
- ✗ Indoor : Cricket
- ✓ Indoor : Table Tennis
- ✗ Skating : Indoor

Question Number : 5 Question Id : 99836739429 Question Type : MCQ Option Shuffling : Yes Display Question Number : Yes  
Single Line Question Option : No Option Orientation : Vertical

Correct Marks : 1 Wrong Marks : 0.25

निम्नलिखित प्रश्न में दिए गए विकल्पों में से संबंधित शब्द युग्म को चुनिए

इन्दोर : शतरंज :: ?

Options :

- ✗ आउटडोर : लूडो
- ✗ इन्दोर : क्रिकेट
- ✓ इन्दोर : टेबल टेनिस
- ✗ स्केटिंग : इन्दोर

Question Number : 6 Question Id : 99836739430 Question Type : MCQ Option Shuffling : Yes Display Question Number : Yes  
Single Line Question Option : No Option Orientation : Vertical

Correct Marks : 1 Wrong Marks : 0.25

In a certain code language, 'GABLIER' is written as 'QDHKAZF'. What is the code for 'TOMPAL' in that code language?

Options :

- ✗ KYQLNS
- ✓ KZOLNS
- ✗ AZOLNS
- ✗ KZOLMS

Question Number : 6 Question Id : 99836739430 Question Type : MCQ Option Shuffling : Yes Display Question Number : Yes  
Single Line Question Option : No Option Orientation : Vertical

Correct Marks : 1 Wrong Marks : 0.25

एक विशिष्ट कोड भाषा में, 'GABLIER' को 'QDHKAZF' लिखा जाता है। इस कोड भाषा में 'TOMPAL' का कोड क्या है?

Options :

- ✗ KYQLNS
- ✓ KZOLNS
- ✗ AZOLNS
- ✗ KZOLMS

Question Number : 7 Question Id : 99836739431 Question Type : MCQ Option Shuffling : Yes Display Question Number : Yes  
Single Line Question Option : No Option Orientation : Vertical

Correct Marks : 1 Wrong Marks : 0.25

R is the son of H. T is the sister of L and R. K is the son of L. How is K related to H?

Options :

1. ✖ Son
2. ✖ Uncle
3. ✖ Husband
4. ✔ Grandson

Question Number : 7 Question Id : 99836739431 Question Type : MCQ Option Shuffling : Yes Display Question Number : Yes  
Single Line Question Option : No Option Orientation : Vertical

Correct Marks : 1 Wrong Marks : 0.25

R, H का पुत्र है T, L तथा R की बहन है K, L का पुत्र है K, H से किस प्रकार संबंधित है?

Options :

1. ✖ पुत्र
2. ✖ चाचा
3. ✖ पति
4. ✔ पोता

Question Number : 8 Question Id : 99836739432 Question Type : MCQ Option Shuffling : Yes Display Question Number : Yes  
Single Line Question Option : No Option Orientation : Vertical

Correct Marks : 1 Wrong Marks : 0.25

Six articles G, H, L, M, R and T are kept one above the other. There are three articles between H and M. L is not at the top. H is below M. M is not at the top. There are three articles between R and G. T is above G. Which of the following can be correct?

- I. G is at bottom
- II. L is third from top

Options :

1. ✖ Only I is correct
2. ✔ Only II is correct
3. ✖ Both I and II is correct
4. ✖ Neither I nor II is correct

Question Number : 8 Question Id : 99836739432 Question Type : MCQ Option Shuffling : Yes Display Question Number : Yes  
Single Line Question Option : No Option Orientation : Vertical

Correct Marks : 1 Wrong Marks : 0.25

छह वस्तुओं G, H, L, M, R तथा T को एक के ऊपर एक रखा गया है। H तथा M के मध्य तीन वस्तुएँ हैं। L सबसे ऊपर नहीं है। H, M के नीचे है। M सबसे ऊपर नहीं है। R तथा G के मध्य तीन वस्तुएँ हैं। T, G के ऊपर है। निम्नलिखित में से कौन सा सही हो सकता है?

- I. G सबसे नीचे है
- II. L ऊपर से तीसरा है

Options :

1. ✖ केवल I सही है
2. ✔ केवल II सही है
3. ✖ I तथा II दोनों सही हैं
4. ✖ न तो I न ही II सही है

Question Number : 9 Question Id : 99836739433 Question Type : MCQ Option Shuffling : Yes Display Question Number : Yes  
Single Line Question Option : No Option Orientation : Vertical

Correct Marks : 1 Wrong Marks : 0.25

Eight girls A, B, J, K, P, R, L and T are sitting around a circular table facing towards the centre (not necessarily in the same order). J is sitting opposite to P. Either A or B is the immediate neighbour of K. T and L are the immediate neighbours. J is second to the right of K. Either T or L is towards the immediate right of J. If A is to the immediate left of P and L is to the immediate left of A, then which of the following statement can be correct about R?

Options :

- ✗ R is between K and B
- ✓ J is to the immediate right of R
- ✗ K is second to the right of R
- ✗ R is opposite to L

Question Number : 9 Question Id : 99836739433 Question Type : MCQ Option Shuffling : Yes Display Question Number : Yes  
Single Line Question Option : No Option Orientation : Vertical

Correct Marks : 1 Wrong Marks : 0.25

आठ लड़कियाँ A, B, J, K, P, R, L तथा T केन्द्र की ओर मुख करके एक वृत्ताकार मेज के ईर्द - गिर्द बैठी हुई है (जरूरी नहीं की इसी क्रम में हो)। J, P के विपरीत बैठी हुई है। या तो A या तो B, K की निकटतम पड़ोसी है। T और L, निकटतम पड़ोसी हैं। J, K के दायीं ओर दूसरी है। या तो T या तो L, J के तुरंत दायीं ओर है। यदि A, P के तुरंत बायीं ओर है तथा L, A के तुरंत बायीं ओर है, तो R के बारे में निम्नलिखित में से कौन सा कथन सही हो सकता है?

Options :

- ✗ R, K तथा B के मध्य में है
- ✓ J, R के तुरंत दायीं ओर है
- ✗ K, R के दायीं ओर दूसरे स्थान पर है
- ✗ R, L के विपरीत है

Question Number : 10 Question Id : 99836739434 Question Type : MCQ Option Shuffling : Yes Display Question Number : Yes  
Single Line Question Option : No Option Orientation : Vertical

Correct Marks : 1 Wrong Marks : 0.25

In the following question below are given some statements followed by some conclusions based on those statements. Taking the given statements to be true even if they seem to be at variance from commonly known facts. Read all the conclusions and then decide which of the given conclusion logically follows the given statements.

Statements:

- No big is small.
- Some small are red.

Conclusions:

- No red is big.
- Some big are not small.

Options :

- ✗ Only conclusion I follows
- ✓ Only conclusion II follows
- ✗ Both conclusion I and II follows
- ✗ Neither conclusion follows

Question Number : 10 Question Id : 99836739434 Question Type : MCQ Option Shuffling : Yes Display Question Number : Yes  
Single Line Question Option : No Option Orientation : Vertical

Correct Marks : 1 Wrong Marks : 0.25

नीचे दिए गए प्रश्न में कुछ कथन और उनके बाद उन कथनों पर आधारित कुछ निष्कर्ष दिए गए हैं। दिए गए कथनों को सही माने, चाहे उनमें सामान्य ज्ञात तथ्यों से भिन्नता हो। सभी निष्कर्ष पढ़ें और फिर निर्धारित करें कि दिए गए कौन से निष्कर्ष, दिए गए कथनों के आधार पर युक्तिसंगत हैं।

कथन:

- I. कोई बड़ा, छोटा नहीं है।
- II. कुछ छोटे, लाल हैं।

निष्कर्ष:

- I. कोई लाल, बड़ा नहीं है।
- II. कुछ बड़ा, छोटा नहीं है।

Options :

- 1. ✖ केवल निष्कर्ष I अनुसरण करता है
- 2. ✔ केवल निष्कर्ष II अनुसरण करता है
- 3. ✖ दोनों निष्कर्ष I तथा II अनुसरण करते हैं
- 4. ✖ कोई भी निष्कर्ष अनुसरण नहीं करता है

Question Number : 11 Question Id : 99836739435 Question Type : MCQ Option Shuffling : Yes Display Question Number : Yes  
Single Line Question Option : No Option Orientation : Vertical

Correct Marks : 1 Wrong Marks : 0.25

In the following question below are given some statements followed by some conclusions based on those statements. Taking the given statements to be true even if they seem to be at variance from commonly known facts. Read all the conclusions and then decide which of the given conclusion logically follows the given statements.

Statements:

- I. No J is R.
- II. No R is W.
- III. All W are K.

Conclusions:

- I. No K is R.
- II. No R is J.
- III. Some W are not R.

Options :

- 1. ✖ Only conclusion II follows
- 2. ✖ Both conclusion I and II follows
- 3. ✔ Both conclusion II and III follows
- 4. ✖ Neither conclusion follows

Question Number : 11 Question Id : 99836739435 Question Type : MCQ Option Shuffling : Yes Display Question Number : Yes  
Single Line Question Option : No Option Orientation : Vertical

Correct Marks : 1 Wrong Marks : 0.25

नीचे दिए गए प्रश्न में कुछ कथन और उनके बाद उन कथनों पर आधारित कुछ निष्कर्ष दिए गए हैं। दिए गए कथनों को सही माने, चाहे उनमें सामान्य ज्ञात तथ्यों से भिन्नता हो। सभी निष्कर्ष पढ़ें और फिर निर्धारित करें कि दिए गए कौन से निष्कर्ष, दिए गए कथनों के आधार पर युक्तिसंगत हैं।

कथन:

- I. कोई J, R नहीं है।
- II. कोई R, W नहीं है।
- III. सभी W, K हैं।

निष्कर्ष:

- I. कोई K, R नहीं है।
- II. कोई R, J नहीं है।
- III. कुछ W, R नहीं है।

Options :

1. ✖ केवल निष्कर्ष II अनुसरण करता है
2. ✖ दोनों निष्कर्ष I तथा II अनुसरण करते हैं
3. ✔ दोनों निष्कर्ष II तथा III अनुसरण करते हैं
4. ✖ कोई भी निष्कर्ष अनुसरण नहीं करता है

Question Number : 12 Question Id : 99836739436 Question Type : MCQ Option Shuffling : Yes Display Question Number : Yes  
Single Line Question Option : No Option Orientation : Vertical

Correct Marks : 1 Wrong Marks : 0.25

In the following question, select the related number from the given alternatives.

46 : 22 :: 78 : ?

Options :

1. ✖ 36
2. ✔ 38
3. ✖ 34
4. ✖ 32

Question Number : 12 Question Id : 99836739436 Question Type : MCQ Option Shuffling : Yes Display Question Number : Yes  
Single Line Question Option : No Option Orientation : Vertical

Correct Marks : 1 Wrong Marks : 0.25

निम्नलिखित प्रश्न में दिए गए विकल्पों में से संबंधित संख्या को चुनिए।

46 : 22 :: 78 : ?

Options :

1. ✖ 36
2. ✔ 38
3. ✖ 34
4. ✖ 32

Question Number : 13 Question Id : 99836739437 Question Type : MCQ Option Shuffling : Yes Display Question Number : Yes  
Single Line Question Option : No Option Orientation : Vertical

Correct Marks : 1 Wrong Marks : 0.25

A series is given with one term wrong. Select that wrong term from the given alternatives.

14, 7, 8, 10.5, 21

Options :

1. ✖ 7
2. ✖ 10.5
3. ✔ 8
4. ✖ 14

Question Number : 13 Question Id : 99836739437 Question Type : MCQ Option Shuffling : Yes Display Question Number : Yes  
Single Line Question Option : No Option Orientation : Vertical

Correct Marks : 1 Wrong Marks : 0.25

एक अनुक्रम दिया गया है, जिसमें से एक पद गलत है। दिए गए विकल्पों में से उस गलत पद को चुनिए।

14, 7, 8, 10.5, 21

Options :

1. ✖ 7
2. ✖ 10.5



3. ✓ 8

4. ✗ 14

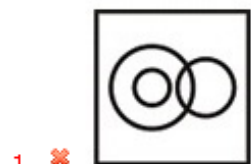
Question Number : 14 Question Id : 99836739438 Question Type : MCQ Option Shuffling : Yes Display Question Number : Yes  
Single Line Question Option : No Option Orientation : Vertical

Correct Marks : 1 Wrong Marks : 0.25

Identify the diagram that best represents the relationship among the given classes.

Female, Mother, Uncle

Options :



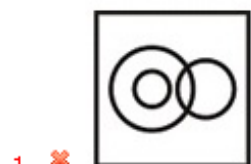
Question Number : 14 Question Id : 99836739438 Question Type : MCQ Option Shuffling : Yes Display Question Number : Yes  
Single Line Question Option : No Option Orientation : Vertical

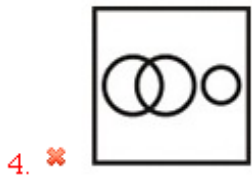
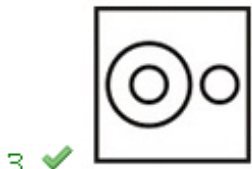
Correct Marks : 1 Wrong Marks : 0.25

वह आरेख चुनिए जो नीचे दिए गए वर्गों के बीच के संबंध का सही निरूपण करता है।

महिला, माता, चाचा

Options :

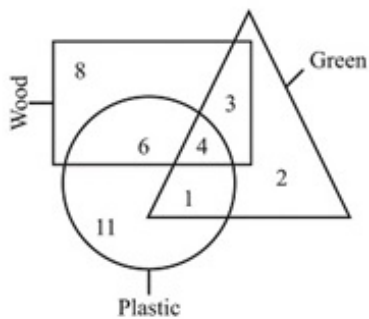




Question Number : 15 Question Id : 99836739439 Question Type : MCQ Option Shuffling : Yes Display Question Number : Yes  
Single Line Question Option : No Option Orientation : Vertical

Correct Marks : 1 Wrong Marks : 0.25

From the following diagram how many plastic are green?



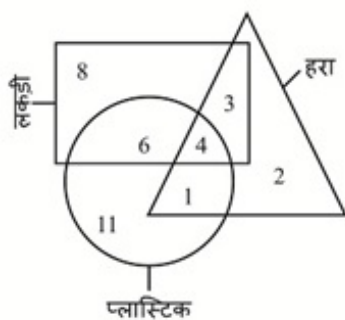
Options :

1. ✗ 11
2. ✗ 8
3. ✗ 7
4. ✓ 5

Question Number : 15 Question Id : 99836739439 Question Type : MCQ Option Shuffling : Yes Display Question Number : Yes  
Single Line Question Option : No Option Orientation : Vertical

Correct Marks : 1 Wrong Marks : 0.25

निम्नलिखित आरेख में से कितनी प्लास्टिक हरी हैं?



Options :

1. ✗ 11
2. ✗ 8
3. ✗ 7
4. ✓ 5

Question Number : 16 Question Id : 99836739440 Question Type : MCQ Option Shuffling : Yes Display Question Number : Yes  
Single Line Question Option : No Option Orientation : Vertical

Correct Marks : 1 Wrong Marks : 0.25

Suman travels 10 km towards west. She turns right and walk 13 km. She again turns right and walks 10 km. She finally turns right and walks 23 km. In which direction is starting point from the finishing point?

Options :

1. ✖ South
2. ✖ West
3. ✖ East
4. ✔ North

Question Number : 16 Question Id : 99836739440 Question Type : MCQ Option Shuffling : Yes Display Question Number : Yes  
Single Line Question Option : No Option Orientation : Vertical

Correct Marks : 1 Wrong Marks : 0.25

सुमन 10 कि.मी. पश्चिम की ओर जाती है वह दायीं ओर मुड़ती है तथा 13 कि.मी. चलती है वह फिर दायीं ओर मुड़ती है तथा 10 कि.मी. चलती है अंत में वह दायीं ओर मुड़ती है तथा 23 कि.मी. चलती है आरंभिक बिंदु, अंतिम बिंदु से किस दिशा में है?

Options :

1. ✖ दक्षिण
2. ✖ पश्चिम
3. ✖ पूर्व
4. ✔ उत्तर

Question Number : 17 Question Id : 99836739441 Question Type : MCQ Option Shuffling : Yes Display Question Number : Yes  
Single Line Question Option : No Option Orientation : Vertical

Correct Marks : 1 Wrong Marks : 0.25

A bus travels 100 metres towards south. It turns right and travels 300 metres. It again turns right and travels 100 metres to reach shop G. Now, bus travels 500 metres in north direction. It finally turns left and travels 1200 metre and reach hospital M. In which direction and how far is hospital M from shop G?

Options :

1. ✖ 1300 metres, North east
2. ✖ 1350 metres, West
3. ✖ 1250 metres, East
4. ✔ 1300 metres, North west

Question Number : 17 Question Id : 99836739441 Question Type : MCQ Option Shuffling : Yes Display Question Number : Yes  
Single Line Question Option : No Option Orientation : Vertical

Correct Marks : 1 Wrong Marks : 0.25

एक बस दक्षिण की ओर 100 मीटर यात्रा करती है वह दायीं ओर मुड़ती है तथा 300 मीटर यात्रा करती है वह पुनः दायीं ओर मुड़ती है तथा 100 मीटर यात्रा करके दुकान G पर पहुँच जाती है अब बस उत्तर दिशा में 500 मीटर यात्रा करती है वह अंततः बायीं ओर मुड़ती है तथा 1200 मीटर यात्रा करके अस्पताल M पर पहुँच जाती है अस्पताल M दुकान G से किस दिशा में तथा कितनी दूरी पर है?

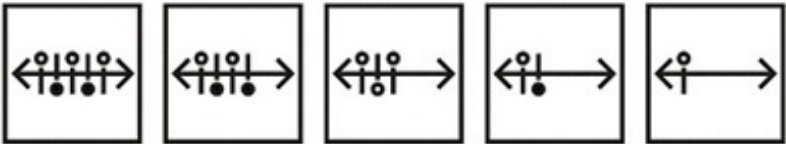
Options :

1. ✖ 1300 मीटर, उत्तर पूर्व
2. ✖ 1350 मीटर, पश्चिम
3. ✖ 1250 मीटर, पूर्व
4. ✔ 1300 मीटर, उत्तर पश्चिम

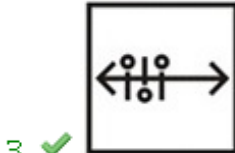
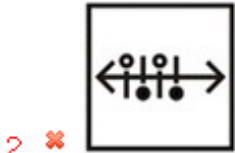
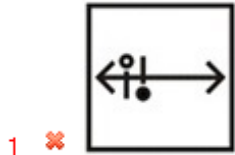
Question Number : 18 Question Id : 99836739442 Question Type : MCQ Option Shuffling : Yes Display Question Number : Yes  
Single Line Question Option : No Option Orientation : Vertical

Correct Marks : 1 Wrong Marks : 0.25

In the following question, select the wrong figure from the given series.



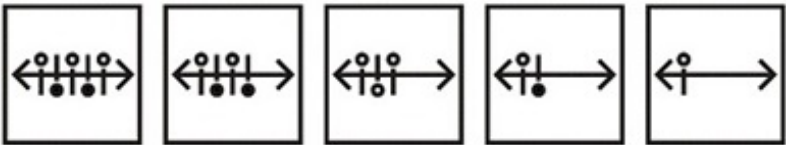
Options :



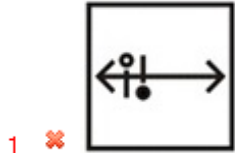
Question Number : 18 Question Id : 99836739442 Question Type : MCQ Option Shuffling : Yes Display Question Number : Yes  
Single Line Question Option : No Option Orientation : Vertical

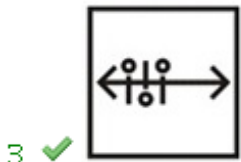
Correct Marks : 1 Wrong Marks : 0.25

निम्नलिखित प्रश्न में, दी गयी श्रृंखला में से गलत आकृति को चुनिए



Options :

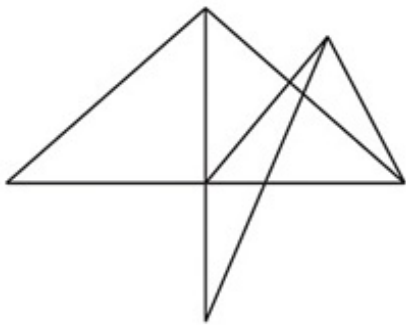








Question Number : 19 Question Id : 99836739443 Question Type : MCQ Option Shuffling : Yes Display Question Number : Yes  
Single Line Question Option : No Option Orientation : Vertical

Correct Marks : 1 Wrong Marks : 0.25

How many triangles are there in the given figure?



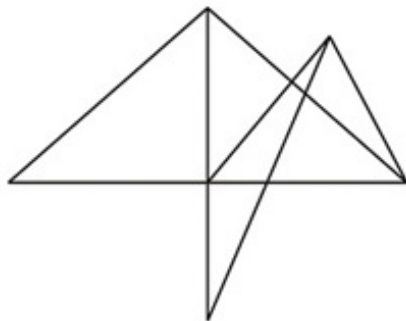
Options :

1.  16
2.  18
3.  17
4.  15





Question Number : 19 Question Id : 99836739443 Question Type : MCQ Option Shuffling : Yes Display Question Number : Yes  
Single Line Question Option : No Option Orientation : Vertical

Correct Marks : 1 Wrong Marks : 0.25

दी गई आकृति में कितने त्रिभुज हैं?



Options :

1.  16
2.  18
3.  17
4.  15

Question Number : 20 Question Id : 99836739444 Question Type : MCQ Option Shuffling : Yes Display Question Number : Yes  
Single Line Question Option : No Option Orientation : Vertical

Correct Marks : 1 Wrong Marks : 0.25

If a mirror is placed on the line AB, then which of the answer figures is the right image of the given figure?



Options :



Question Number : 20 Question Id : 99836739444 Question Type : MCQ Option Shuffling : Yes Display Question Number : Yes  
Single Line Question Option : No Option Orientation : Vertical

Correct Marks : 1 Wrong Marks : 0.25

यदि एक दर्पण को AB रेखा पर रखा जाए, तो दी गई उत्तर आकृतियों में से कौन सी आकृति प्रश्न आकृति की सही प्रतिबिंब होगी?



Options :



## General Awareness

Group Number :	2
Group Id :	9983671222
Group Maximum Duration :	0
Group Minimum Duration :	0
Revisit allowed for view? :	No
Revisit allowed for edit? :	No
Break time:	0
Group Marks:	20
Revisit allowed for group Instructions? :	Yes
Maximum Instruction Time:	0
Minimum Instruction Time:	0

## General Awareness

Section Id :	9983671621
Section Number :	1
Section type :	Online
Mandatory or Optional:	Mandatory
Number of Questions:	20
Number of Questions to be attempted:	20
Section Marks:	20
Display Number Panel:	Yes
Group All Questions:	No

Sub-Section Id:

9983672017

Question Shuffling Allowed :

Yes

Question Number : 21 Question Id : 99836739445 Question Type : MCQ Option Shuffling : Yes Display Question Number : Yes  
Single Line Question Option : No Option Orientation : Vertical

Correct Marks : 1 Wrong Marks : 0.25

Which of the following classical dance form was introduced in the 15th century A.D by Mahapurusha Sankaradeva as a powerful medium for propagation of the Vaishnava faith?

Options :

1. ✖ Bharatnatyam
2. ✔ Sattriya
3. ✖ Mohiniyattam
4. ✖ Manipuri

Question Number : 21 Question Id : 99836739445 Question Type : MCQ Option Shuffling : Yes Display Question Number : Yes  
Single Line Question Option : No Option Orientation : Vertical

Correct Marks : 1 Wrong Marks : 0.25

निम्नलिखित में से कौन सी शास्त्रीय नृत्य शैली 15 वीं शताब्दी में महापुरुष शंकरदेव द्वारा वैष्णव विश्वास के प्रचार के लिए एक शक्तिशाली माध्यम के रूप में पेश की गयी थी?

Options :

1. ✖ भरतनाट्यम
2. ✔ सत्रिया
3. ✖ मोहिनीअट्टम
4. ✖ मणिपुरी

Question Number : 22 Question Id : 99836739446 Question Type : MCQ Option Shuffling : Yes Display Question Number : Yes  
Single Line Question Option : No Option Orientation : Vertical

Correct Marks : 1 Wrong Marks : 0.25

'Bathukamma' is a colourful and vibrant festival of flowers and stands as a symbol of cultural identity. It is celebrated in which of the following Indian states?

Options :

1. ✖ Punjab
2. ✖ Maharashtra
3. ✖ Gujarat
4. ✔ Telangana

Question Number : 22 Question Id : 99836739446 Question Type : MCQ Option Shuffling : Yes Display Question Number : Yes  
Single Line Question Option : No Option Orientation : Vertical

Correct Marks : 1 Wrong Marks : 0.25

'बथुकम्मा' फूलों का एक रंगीन तथा जीवंत त्योहार है तथा यह सांस्कृतिक पहचान के प्रतीक के रूप में है। यह निम्नलिखित में से किस भारतीय राज्य में मनाया जाता है?

Options :

1. ✖ पंजाब
2. ✖ महाराष्ट्र
3. ✖ गुजरात
4. ✔ तेलंगाना

Question Number : 23 Question Id : 99836739447 Question Type : MCQ Option Shuffling : Yes Display Question Number : Yes  
Single Line Question Option : No Option Orientation : Vertical

Correct Marks : 1 Wrong Marks : 0.25



The maximum maturity period of Treasury bill (T-Bill) is \_\_\_\_\_.

Options :

1. ✖ 104 weeks
2. ✖ 18 weeks
3. ✔ 52 weeks
4. ✖ 26 weeks

Question Number : 23 Question Id : 99836739447 Question Type : MCQ Option Shuffling : Yes Display Question Number : Yes  
Single Line Question Option : No Option Orientation : Vertical

Correct Marks : 1 Wrong Marks : 0.25

ट्रेजरी बिल (टी-बिल) की अधिकतम परिपक्वता अवधि \_\_\_\_\_ है।

Options :

1. ✖ 104 सप्ताह
2. ✖ 18 सप्ताह
3. ✔ 52 सप्ताह
4. ✖ 26 सप्ताह

Question Number : 24 Question Id : 99836739448 Question Type : MCQ Option Shuffling : Yes Display Question Number : Yes  
Single Line Question Option : No Option Orientation : Vertical

Correct Marks : 1 Wrong Marks : 0.25

Which of the following institutions manages the public debt of the Central and the state governments in India?

Options :

1. ✔ RBI
2. ✖ NABARD
3. ✖ SBI
4. ✖ Ministry of Finance

Question Number : 24 Question Id : 99836739448 Question Type : MCQ Option Shuffling : Yes Display Question Number : Yes  
Single Line Question Option : No Option Orientation : Vertical

Correct Marks : 1 Wrong Marks : 0.25

निम्नलिखित में से कौन सी संस्था, भारत में केंद्र तथा राज्य सरकारों के सार्वजनिक ऋण का प्रबंधन करती है?

Options :

1. ✔ आर.बी.आई
2. ✖ नाबार्ड
3. ✖ एस.बी.आई
4. ✖ वित्त मंत्रालय

Question Number : 25 Question Id : 99836739449 Question Type : MCQ Option Shuffling : Yes Display Question Number : Yes  
Single Line Question Option : No Option Orientation : Vertical

Correct Marks : 1 Wrong Marks : 0.25

Which of the following chemical compound is also known as Dry ice?

Options :

1. ✖ Solid nitrogen oxide
2. ✔ Solid carbon dioxide
3. ✖ Solid ammonia
4. ✖ Solid hydrogen oxide

Question Number : 25 Question Id : 99836739449 Question Type : MCQ Option Shuffling : Yes Display Question Number : Yes  
Single Line Question Option : No Option Orientation : Vertical

Correct Marks : 1 Wrong Marks : 0.25

निम्नलिखित में से किस रासायनिक यौगिक को शुष्क बर्फ के रूप में भी जाना जाता है?

Options :

- ✗ ठोस नाइट्रोजन ऑक्साइड
- ✓ ठोस कार्बन डाइऑक्साइड
- ✗ ठोस अमोनिया
- ✗ ठोस हाइड्रोजन ऑक्साइड

Question Number : 26 Question Id : 99836739450 Question Type : MCQ Option Shuffling : Yes Display Question Number : Yes  
Single Line Question Option : No Option Orientation : Vertical

Correct Marks : 1 Wrong Marks : 0.25

Which of the following device is based upon Archimede's principle?

Options :

- ✓ Hydrometer
- ✗ Ohmmeter
- ✗ Galvanometer
- ✗ Voltmeter

Question Number : 26 Question Id : 99836739450 Question Type : MCQ Option Shuffling : Yes Display Question Number : Yes  
Single Line Question Option : No Option Orientation : Vertical

Correct Marks : 1 Wrong Marks : 0.25

निम्नलिखित में से कौन सा उपकरण आर्किमिडिज सिद्धांत पर आधारित है?

Options :

- ✓ हाइड्रोमीटर
- ✗ ओममीटर
- ✗ गैल्वेनोमीटर
- ✗ वाल्टमीटर

Question Number : 27 Question Id : 99836739451 Question Type : MCQ Option Shuffling : Yes Display Question Number : Yes  
Single Line Question Option : No Option Orientation : Vertical

Correct Marks : 1 Wrong Marks : 0.25

Which of the following statements regarding cell organelle mitochondria is incorrect?

Options :

- ✗ They have their own DNA and ribosomes and are able to make some of their own protein.
- ✗ The energy require for various chemical activities needed for life is released by mitochondria in the form of ATP molecules.
- ✓ Mitochondria's outer membrane is deeply folded while the inner membrane is very porous.
- ✗ The body uses energy sored in ATP produced by mitochondria for making new chemical compounds and for mechanical work.

Question Number : 27 Question Id : 99836739451 Question Type : MCQ Option Shuffling : Yes Display Question Number : Yes  
Single Line Question Option : No Option Orientation : Vertical

Correct Marks : 1 Wrong Marks : 0.25

निम्नलिखित में से कौन सा कथन कोशिकांग सूत्रकणिका के लिए सही नहीं है?

Options :

- ✗ उनका का अपना DNA तथा राइबोसोम होता है तथा वह अपना कुछ प्रोटीन स्वयं बनाते हैं।
- ✗ जीवन के लिए आवश्यक विभिन्न रासायनिक क्रियाओं को करने के लिए सूत्रकणिका ATP के रूप में ऊर्जा प्रदान करते हैं।
- ✓ सूत्रकणिका की बाहरी झिल्ली बहुत अधिक वलित होती है। भीतरी झिल्ली छिद्रित होती है।
- ✗ शरीर नए रासायनिक यौगिकों को बनाने तथा यांत्रिक कार्य के लिए सूत्रकणिका द्वारा निर्मित ATP में संचित ऊर्जा का उपयोग करता है।

Question Number : 28 Question Id : 99836739452 Question Type : MCQ Option Shuffling : Yes Display Question Number : Yes  
Single Line Question Option : No Option Orientation : Vertical

Correct Marks : 1 Wrong Marks : 0.25

Which of the following rivers is not a west flowing river in India?

Options :

1. ✖ Sabarmati
2. ✔ Rushikulya
3. ✖ Bharathapuzha
4. ✖ Periyar

Question Number : 28 Question Id : 99836739452 Question Type : MCQ Option Shuffling : Yes Display Question Number : Yes  
Single Line Question Option : No Option Orientation : Vertical

Correct Marks : 1 Wrong Marks : 0.25

निम्नलिखित में से कौन सी नदी भारत में पश्चिम की ओर बहने वाली नदी नहीं है?

Options :

1. ✖ साबरमती
2. ✔ ऋषिकुल्या
3. ✖ भरतपुजा
4. ✖ पेरियार

Question Number : 29 Question Id : 99836739453 Question Type : MCQ Option Shuffling : Yes Display Question Number : Yes  
Single Line Question Option : No Option Orientation : Vertical

Correct Marks : 1 Wrong Marks : 0.25

The Standard Meridian of India ( $82^{\circ}30'E$ ) passes through \_\_\_\_\_.

Options :

1. ✖ Bhopal (in Madhya Pradesh)
2. ✔ Mirzapur (in Uttar Pradesh)
3. ✖ Nagpur (in Maharashtra)
4. ✖ Bangalore (in Karnataka)

Question Number : 29 Question Id : 99836739453 Question Type : MCQ Option Shuffling : Yes Display Question Number : Yes  
Single Line Question Option : No Option Orientation : Vertical

Correct Marks : 1 Wrong Marks : 0.25

भारत का मानक मेरिडियन ( $82^{\circ}30'E$ ) \_\_\_\_\_ से होकर गुजरता है।

Options :

1. ✖ भोपाल (मध्य प्रदेश में)
2. ✔ मिर्ज़ापुर (उत्तर प्रदेश में)
3. ✖ नागपुर (महाराष्ट्र में)
4. ✖ बैंगलोर (कर्नाटक में)

Question Number : 30 Question Id : 99836739454 Question Type : MCQ Option Shuffling : Yes Display Question Number : Yes  
Single Line Question Option : No Option Orientation : Vertical

Correct Marks : 1 Wrong Marks : 0.25

Which of the following neighbouring country of India shares its borders with four Indian states only?

Note: For this question, discrepancy is found in question/answer. So, this question is ignored for all candidates.

Options :

1. Bhutan

2. Nepal
3. Bangladesh
4. China

Question Number : 30 Question Id : 99836739454 Question Type : MCQ Option Shuffling : Yes Display Question Number : Yes  
Single Line Question Option : No Option Orientation : Vertical

Correct Marks : 1 Wrong Marks : 0.25

निम्नलिखित में से भारत का कौन सा पड़ोसी देश अपनी सीमाओं को केवल चार भारतीय राज्यों के साथ साझा करता है?

Note: For this question, discrepancy is found in question/answer. So, this question is ignored for all candidates.

Options :

1. भूटान
2. नेपाल
3. बांग्लादेश
4. चीन

Question Number : 31 Question Id : 99836739455 Question Type : MCQ Option Shuffling : Yes Display Question Number : Yes  
Single Line Question Option : No Option Orientation : Vertical

Correct Marks : 1 Wrong Marks : 0.25

Who was the first ruler of the Gupta dynasty to adopt the grand title of Maharaj-adhiraja?

Options :

1. ✖ Samudragupta
2. ✔ Chandragupta
3. ✖ Chandragupta II
4. ✖ Harshavardhana

Question Number : 31 Question Id : 99836739455 Question Type : MCQ Option Shuffling : Yes Display Question Number : Yes  
Single Line Question Option : No Option Orientation : Vertical

Correct Marks : 1 Wrong Marks : 0.25

गुप्तवंश का पहला शासक कौन था जिसने महाराजाधिराज की बड़ी उपाधि धारण की थी?

Options :

1. ✖ समुद्रगुप्त
2. ✔ चन्द्रगुप्त
3. ✖ चन्द्रगुप्त II
4. ✖ हर्षवर्धन

Question Number : 32 Question Id : 99836739456 Question Type : MCQ Option Shuffling : Yes Display Question Number : Yes  
Single Line Question Option : No Option Orientation : Vertical

Correct Marks : 1 Wrong Marks : 0.25

Which of the following social reform organization - founder pair is incorrectly matched?

Options :

1. ✖ Brahmo Samaj - Raja Rammohan Roy
2. ✖ Arya Samaj - Swami Dayanand saraswati
3. ✖ Young Bengal - Henry Derozio
4. ✔ Prarthana Samaj - Jyotirao Phule

Question Number : 32 Question Id : 99836739456 Question Type : MCQ Option Shuffling : Yes Display Question Number : Yes  
Single Line Question Option : No Option Orientation : Vertical

Correct Marks : 1 Wrong Marks : 0.25

निम्नलिखित में से कौन सा सामाजिक सुधार संगठन - संस्थापक जोड़ी गलत तरीके से मेल खाता है?

Options :

- ✘ ब्रह्मों समाज - राजा राममोहन रॉय
- ✘ आर्य समाज - स्वामी दयानंद सरस्वती
- ✘ यंग बंगाल - हेनरी डेरोज़ियो
- ✔ प्रर्थना समाज - ज्योतिराव फुले

Question Number : 33 Question Id : 99836739457 Question Type : MCQ Option Shuffling : Yes Display Question Number : Yes  
Single Line Question Option : No Option Orientation : Vertical

Correct Marks : 1 Wrong Marks : 0.25

Which one of the following was the first ruler who tried to take his message to the people through inscriptions in Prakrit?

Options :

- ✔ Ashoka
- ✘ Bindusara
- ✘ Chandragupta
- ✘ Rajaraja Chola

Question Number : 33 Question Id : 99836739457 Question Type : MCQ Option Shuffling : Yes Display Question Number : Yes  
Single Line Question Option : No Option Orientation : Vertical

Correct Marks : 1 Wrong Marks : 0.25

निम्नलिखित में से कौन सा पहला शासक था जिसने अपने संदेश को प्राकृत में शिलालेखों के माध्यम से लोगों तक ले जाने की कोशिश की थी?

Options :

- ✔ अशोक
- ✘ बिन्दुसार
- ✘ चंद्रगुप्त
- ✘ राजराजा चोल

Question Number : 34 Question Id : 99836739458 Question Type : MCQ Option Shuffling : Yes Display Question Number : Yes  
Single Line Question Option : No Option Orientation : Vertical

Correct Marks : 1 Wrong Marks : 0.25

Which of the following is the chairman of the committee that has been established by the Government of India to study issues related to non-personal data and suggest the ways to regulate non-personal data?

Options :

- ✘ Madhav Gadgil
- ✔ Kris Gopalakrishnan
- ✘ Nandan Nilekani
- ✘ M. Narasimhan

Question Number : 34 Question Id : 99836739458 Question Type : MCQ Option Shuffling : Yes Display Question Number : Yes  
Single Line Question Option : No Option Orientation : Vertical

Correct Marks : 1 Wrong Marks : 0.25

गैर-व्यक्तिगत डेटा से संबंधित मुद्दों का अध्ययन करने तथा गैर-व्यक्तिगत डेटा को विनियमित करने के तरीकों का सुझाव देने के लिए भारत सरकार द्वारा स्थापित समिति के अध्यक्ष निम्नलिखित में से कौन हैं?

Options :

- ✘ माधव गाडगिल
- ✔ क्रिस गोपालकृष्णन
- ✘ नंदन नीलेकणी
- ✘ एम. नरसिम्हन

Question Number : 35 Question Id : 99836739459 Question Type : MCQ Option Shuffling : Yes Display Question Number : Yes  
Single Line Question Option : No Option Orientation : Vertical

Correct Marks : 1 Wrong Marks : 0.25

Digital Economy Report 2019 was released by \_\_\_\_\_.

Options :

1. ✖ World Bank
2. ✖ World Economic Forum
3. ✖ World Trade Organisation
4. ✔ United Nations Conference on Trade and Development

Question Number : 35 Question Id : 99836739459 Question Type : MCQ Option Shuffling : Yes Display Question Number : Yes  
Single Line Question Option : No Option Orientation : Vertical

Correct Marks : 1 Wrong Marks : 0.25

डिजिटल अर्थव्यवस्था रिपोर्ट 2019 \_\_\_\_\_ द्वारा जारी की गई थी।

Options :

1. ✖ विश्व बैंक
2. ✖ विश्व आर्थिक मंच
3. ✖ विश्व व्यापार संगठन
4. ✔ व्यापार एवं विकास पर संयुक्त राष्ट्र सम्मलेन

Question Number : 36 Question Id : 99836739460 Question Type : MCQ Option Shuffling : Yes Display Question Number : Yes  
Single Line Question Option : No Option Orientation : Vertical

Correct Marks : 1 Wrong Marks : 0.25

Arcadia Education Project of which country has been awarded the prestigious Aga Khan Architecture Award 2019?

Options :

1. ✔ Bangladesh
2. ✖ Iran
3. ✖ India
4. ✖ Sri Lanka

Question Number : 36 Question Id : 99836739460 Question Type : MCQ Option Shuffling : Yes Display Question Number : Yes  
Single Line Question Option : No Option Orientation : Vertical

Correct Marks : 1 Wrong Marks : 0.25

किस देश के अर्काडिया एजुकेशन प्रोजेक्ट को प्रतिष्ठित आगा खान आर्किटेक्चर अवार्ड 2019 से सम्मानित किया गया है?

Options :

1. ✔ बांग्लादेश
2. ✖ ईरान
3. ✖ भारत
4. ✖ श्रीलंका

Question Number : 37 Question Id : 99836739461 Question Type : MCQ Option Shuffling : Yes Display Question Number : Yes  
Single Line Question Option : No Option Orientation : Vertical

Correct Marks : 1 Wrong Marks : 0.25

According to sixth schedule of Indian Constitution, which of the following can be done by the Governor of the state for Tribal Areas in Assam, Meghalaya, Tripura and Mizoram?

- I. Create a new autonomous district.
- II. Increase the area of any autonomous district.

Options :

1. ✖ Only I
2. ✖ Only II
3. ✔ Both I and II
4. ✖ neither I nor II

Question Number : 37 Question Id : 99836739461 Question Type : MCQ Option Shuffling : Yes Display Question Number : Yes  
Single Line Question Option : No Option Orientation : Vertical

Correct Marks : 1 Wrong Marks : 0.25

भारतीय संविधान की छठी अनुसूची के आधार पर, असम, मेघालय, त्रिपुरा तथा मिज़ोरम के जनजाति क्षेत्रों के संदर्भ में राज्य का राज्यपाल निम्नलिखित में से क्या कर सकता है?

- I. नया स्वशासी जिला बना सकेगा
- II. किसी स्वशासी जिले का क्षेत्र बढ़ा सकेगा

Options :

1. ✖ केवल I
2. ✖ केवल II
3. ✔ I तथा II दोनों
4. ✖ ना ही I ना ही II

Question Number : 38 Question Id : 99836739462 Question Type : MCQ Option Shuffling : Yes Display Question Number : Yes  
Single Line Question Option : No Option Orientation : Vertical

Correct Marks : 1 Wrong Marks : 0.25

The procedure for impeachment of the President in India is mentioned under which Article of the Indian Constitution?

Options :

1. ✖ Article 66
2. ✔ Article 61
3. ✖ Article 63
4. ✖ Article 59

Question Number : 38 Question Id : 99836739462 Question Type : MCQ Option Shuffling : Yes Display Question Number : Yes  
Single Line Question Option : No Option Orientation : Vertical

Correct Marks : 1 Wrong Marks : 0.25

भारत में राष्ट्रपति पर महाभियोग चलाने की प्रक्रिया का उल्लेख भारतीय संविधान के किस अनुच्छेद के तहत किया गया है?

Options :

1. ✖ अनुच्छेद 66
2. ✔ अनुच्छेद 61
3. ✖ अनुच्छेद 63
4. ✖ अनुच्छेद 59

Question Number : 39 Question Id : 99836739463 Question Type : MCQ Option Shuffling : Yes Display Question Number : Yes  
Single Line Question Option : No Option Orientation : Vertical

Correct Marks : 1 Wrong Marks : 0.25

The 2019 FIBA Basketball World Cup was hosted by \_\_\_\_\_.

Options :

1. ✔ China
2. ✖ USA
3. ✖ France
4. ✖ Canada

Question Number : 39 Question Id : 99836739463 Question Type : MCQ Option Shuffling : Yes Display Question Number : Yes  
Single Line Question Option : No Option Orientation : Vertical

Correct Marks : 1 Wrong Marks : 0.25

2019 फीबा बास्केटबॉल विश्व कप की मेजबानी \_\_\_\_\_ द्वारा की गई थी।

Options :

1. ✓ चीन
2. ✗ यू.एस.ए
3. ✗ फ्रांस
4. ✗ कनाडा

Question Number : 40 Question Id : 99836739464 Question Type : MCQ Option Shuffling : Yes Display Question Number : Yes  
Single Line Question Option : No Option Orientation : Vertical

Correct Marks : 1 Wrong Marks : 0.25

Who has become the first Indian woman para-athlete to be conferred Rajiv Gandhi Khel Ratna award?

Options :

1. ✗ Mariyappan Thangavelu
2. ✓ Deepa Malik
3. ✗ Varun Singh Bhati
4. ✗ Karamjyoti Dalal

Question Number : 40 Question Id : 99836739464 Question Type : MCQ Option Shuffling : Yes Display Question Number : Yes  
Single Line Question Option : No Option Orientation : Vertical

Correct Marks : 1 Wrong Marks : 0.25

राजीव गांधी खेल रत्न पुरस्कार से सम्मानित होने वाली पहली भारतीय महिला पैरा-एथलीट कौन बनीं?

Options :

1. ✗ मरियप्पन थंगावेलु
2. ✓ दीपा मलिक
3. ✗ वरुण सिंह भाटी
4. ✗ करमज्योति दलाल

#### Arithmetic Ability

Group Number :	3
Group Id :	9983671223
Group Maximum Duration :	0
Group Minimum Duration :	0
Revisit allowed for view? :	No
Revisit allowed for edit? :	No
Break time:	0
Group Marks:	20
Revisit allowed for group Instructions? :	Yes
Maximum Instruction Time:	0
Minimum Instruction Time:	0

#### Arithmetic Ability

Section Id :	9983671622
Section Number :	1



Section type :	Online
Mandatory or Optional:	Mandatory
Number of Questions:	20
Number of Questions to be attempted:	20
Section Marks:	20
Display Number Panel:	Yes
Group All Questions:	No

Sub-Section Number:	1
Sub-Section Id:	9983672018
Question Shuffling Allowed :	Yes

Question Number : 41 Question Id : 99836739465 Question Type : MCQ Option Shuffling : Yes Display Question Number : Yes  
 Single Line Question Option : No Option Orientation : Vertical  
 Correct Marks : 1 Wrong Marks : 0.25

What is the value of:  $(1024)^{0.8} \div (1024)^{0.4}$

Options :

1. ✖ 4
2. ✔ 16
3. ✖ 8
4. ✖ 32

Question Number : 41 Question Id : 99836739465 Question Type : MCQ Option Shuffling : Yes Display Question Number : Yes  
 Single Line Question Option : No Option Orientation : Vertical  
 Correct Marks : 1 Wrong Marks : 0.25

$(1024)^{0.8} \div (1024)^{0.4}$  का मान क्या है?

Options :

1. ✖ 4
2. ✔ 16
3. ✖ 8
4. ✖ 32

Question Number : 42 Question Id : 99836739466 Question Type : MCQ Option Shuffling : Yes Display Question Number : Yes  
 Single Line Question Option : No Option Orientation : Vertical  
 Correct Marks : 1 Wrong Marks : 0.25

What is the value of:  $\frac{5 + 7 \times 3 - 2.5 \times 8 + 5 + 8 \div 2}{2 + 3 - 8 + 2 \times 2 + 4}$

Options :

1. ✔ 3
2. ✖ 5
3. ✖ 2
4. ✖ 4

Question Number : 42 Question Id : 99836739466 Question Type : MCQ Option Shuffling : Yes Display Question Number : Yes  
 Single Line Question Option : No Option Orientation : Vertical

Correct Marks : 1 Wrong Marks : 0.25

$$\frac{5 + 7 \times 3 - 2.5 \times 8 + 5 + 8 \div 2}{2 + 3 - 8 + 2 \times 2 + 4}$$
 का मान क्या है?

Options :

1. ✓ 3
2. ✗ 5
3. ✗ 2
4. ✗ 4

Question Number : 43 Question Id : 99836739467 Question Type : MCQ Option Shuffling : Yes Display Question Number : Yes  
Single Line Question Option : No Option Orientation : Vertical

Correct Marks : 1 Wrong Marks : 0.25

If 548B is divisible by 6, then what is the value of B?

Options :

1. ✓ 4
2. ✗ 6
3. ✗ 2
4. ✗ 0

Question Number : 43 Question Id : 99836739467 Question Type : MCQ Option Shuffling : Yes Display Question Number : Yes  
Single Line Question Option : No Option Orientation : Vertical

Correct Marks : 1 Wrong Marks : 0.25

यदि 548B, 6 से विभाज्य है, तो B का मान क्या है?

Options :

1. ✓ 4
2. ✗ 6
3. ✗ 2
4. ✗ 0

Question Number : 44 Question Id : 99836739468 Question Type : MCQ Option Shuffling : Yes Display Question Number : Yes  
Single Line Question Option : No Option Orientation : Vertical

Correct Marks : 1 Wrong Marks : 0.25

If  $A = \sqrt[8]{3\sqrt{(81^2)^3}}$  and  $B = \sqrt[6]{3\sqrt{(3^4)^3}} \times \sqrt[6]{6\sqrt{(3^2)^6}}$  then what is the value of  $A + B$ ?

Options :

1. ✗ 9
2. ✗ 3
3. ✓ 6
4. ✗ 4

Question Number : 44 Question Id : 99836739468 Question Type : MCQ Option Shuffling : Yes Display Question Number : Yes  
Single Line Question Option : No Option Orientation : Vertical

Correct Marks : 1 Wrong Marks : 0.25

यदि  $A = \sqrt[8]{3\sqrt{(81^2)^3}}$  तथा  $B = \sqrt[6]{3\sqrt{(3^4)^3}} \times \sqrt[6]{6\sqrt{(3^2)^6}}$  तो  $A + B$  का मान क्या है?

Options :

1. ✖ 9
2. ✖ 3
3. ✔ 6
4. ✖ 4

Question Number : 45 Question Id : 99836739469 Question Type : MCQ Option Shuffling : Yes Display Question Number : Yes  
Single Line Question Option : No Option Orientation : Vertical

Correct Marks : 1 Wrong Marks : 0.25

Which shows the correct descending order of the given values?

Options :

1. ✖  $\sqrt[6]{10}, \sqrt[12]{25}, \sqrt[4]{3}$
2. ✖  $\sqrt[12]{25}, \sqrt[6]{10}, \sqrt[4]{3}$
3. ✖  $\sqrt[4]{3}, \sqrt[12]{25}, \sqrt[6]{10}$
4. ✔  $\sqrt[6]{10}, \sqrt[4]{3}, \sqrt[12]{25}$

Question Number : 45 Question Id : 99836739469 Question Type : MCQ Option Shuffling : Yes Display Question Number : Yes  
Single Line Question Option : No Option Orientation : Vertical

Correct Marks : 1 Wrong Marks : 0.25

कौन सा दिए गए मानों को घटते हुए क्रम में सही दर्शाता है?

Options :

1. ✖  $\sqrt[6]{10}, \sqrt[12]{25}, \sqrt[4]{3}$
2. ✖  $\sqrt[12]{25}, \sqrt[6]{10}, \sqrt[4]{3}$
3. ✖  $\sqrt[4]{3}, \sqrt[12]{25}, \sqrt[6]{10}$
4. ✔  $\sqrt[6]{10}, \sqrt[4]{3}, \sqrt[12]{25}$

Question Number : 46 Question Id : 99836739470 Question Type : MCQ Option Shuffling : Yes Display Question Number : Yes  
Single Line Question Option : No Option Orientation : Vertical

Correct Marks : 1 Wrong Marks : 0.25

If the discount offered on article is 16%, then what is the ratio of marked price of this article to the selling price of this article?

Options :

1. ✖ 21 : 25
2. ✖ 7 : 3
3. ✖ 3 : 7
4. ✔ 25 : 21

Question Number : 46 Question Id : 99836739470 Question Type : MCQ Option Shuffling : Yes Display Question Number : Yes  
Single Line Question Option : No Option Orientation : Vertical

Correct Marks : 1 Wrong Marks : 0.25

यदि एक वस्तु पर दी गयी छूट 16% है, तो इस वस्तु के अंकित मूल्य का इस वस्तु के विक्रय मूल्य से क्या अनुपात होगा?

Options :

1. ✖ 21 : 25
2. ✖ 7 : 3
3. ✖ 3 : 7
4. ✔ 25 : 21

Question Number : 47 Question Id : 99836739471 Question Type : MCQ Option Shuffling : Yes Display Question Number : Yes  
Single Line Question Option : No Option Orientation : Vertical

Correct Marks : 1 Wrong Marks : 0.25

With the increase of 25% in the price of rice, a household also increased her expenditure by 5%. By how much percentage her consumption is reduced?

Options :

1. ✔ 16 percent
2. ✖ 20 percent
3. ✖ 12.5 percent
4. ✖ 25 percent

Question Number : 47 Question Id : 99836739471 Question Type : MCQ Option Shuffling : Yes Display Question Number : Yes  
Single Line Question Option : No Option Orientation : Vertical

Correct Marks : 1 Wrong Marks : 0.25

चावल के मूल्य में 25% की वृद्धि के साथ, एक गृहणी अपने खर्च को भी 5% से बढ़ा दिया है। उसकी खपत कितने प्रतिशत से कम हो गयी है?

Options :

1. ✔ 16 प्रतिशत
2. ✖ 20 प्रतिशत
3. ✖ 12.5 प्रतिशत
4. ✖ 25 प्रतिशत

Question Number : 48 Question Id : 99836739472 Question Type : MCQ Option Shuffling : Yes Display Question Number : Yes  
Single Line Question Option : No Option Orientation : Vertical

Correct Marks : 1 Wrong Marks : 0.25

Two candidates contested a election. One of them obtained 60% votes of total votes. Winner got how much percentage votes more than the other candidate?

Options :

1. ✖ 75 percent
2. ✖ 33.33 percent
3. ✖ 45 percent
4. ✔ 50 percent

Question Number : 48 Question Id : 99836739472 Question Type : MCQ Option Shuffling : Yes Display Question Number : Yes  
Single Line Question Option : No Option Orientation : Vertical

Correct Marks : 1 Wrong Marks : 0.25

दो उम्मीदवारों ने एक चुनाव लड़ा। उनमें से एक को कुल मतों के 60% मत प्राप्त हुए। विजेता को दूसरे उम्मीदवार से कितने प्रतिशत अधिक मत प्राप्त हुए?

Options :

1. ✖ 75 प्रतिशत
2. ✖ 33.33 प्रतिशत
3. ✖ 45 प्रतिशत
4. ✔ 50 प्रतिशत

Question Number : 49 Question Id : 99836739473 Question Type : MCQ Option Shuffling : Yes Display Question Number : Yes  
Single Line Question Option : No Option Orientation : Vertical

Correct Marks : 1 Wrong Marks : 0.25

Selling price of two articles R and G is same. Profit earned on article R is 60% and loss incurred on article G is 20%. If a trader wants to earn a profit of 90% on R and cost price of G is Rs. 460, then what will be the new selling price of R?

Options :

1. ✖ Rs. 429
2. ✖ Rs. 414
3. ✖ Rs. 467
4. ✔ Rs. 437

Question Number : 49 Question Id : 99836739473 Question Type : MCQ Option Shuffling : Yes Display Question Number : Yes  
Single Line Question Option : No Option Orientation : Vertical

Correct Marks : 1 Wrong Marks : 0.25

दो वस्तुओं R तथा G का विक्रय मूल्य समान है। वस्तु R पर कमाया गया लाभ 60% है तथा वस्तु G पर हुई हानि 20% है। यदि एक विक्रेता R पर 90% का लाभ कमाना चाहता है तथा G का क्रय मूल्य 460 रुपये है, तो R का नया विक्रय मूल्य क्या होगा?

Options :

1. ✖ 429 रुपये
2. ✖ 414 रुपये
3. ✖ 467 रुपये
4. ✔ 437 रुपये

Question Number : 50 Question Id : 99836739474 Question Type : MCQ Option Shuffling : Yes Display Question Number : Yes  
Single Line Question Option : No Option Orientation : Vertical

Correct Marks : 1 Wrong Marks : 0.25

P, Q and R are partners and invest in a business. P invests  $\frac{1}{6}$ th of total and Q invests  $\frac{2}{5}$ th of the total. What is the ratio of profit of P, Q and R respectively?

Options :

1. ✖ 12 : 5 : 13
2. ✖ 10 : 3 : 4
3. ✖ 5 : 3 : 2
4. ✔ 5 : 12 : 13

Question Number : 50 Question Id : 99836739474 Question Type : MCQ Option Shuffling : Yes Display Question Number : Yes  
Single Line Question Option : No Option Orientation : Vertical

Correct Marks : 1 Wrong Marks : 0.25

P, Q तथा R साझेदार हैं तथा एक व्यापार में निवेश करते हैं। P कुल निवेश का  $\frac{1}{6}$  भाग तथा Q कुल निवेश का  $\frac{2}{5}$  भाग निवेश करता है। क्रमशः P, Q तथा R के लाभ का अनुपात क्या है?

Options :

1. ✖ 12 : 5 : 13
2. ✖ 10 : 3 : 4

3. ✖ 5 : 3 : 2
4. ✔ 5 : 12 : 13

Question Number : 51 Question Id : 99836739475 Question Type : MCQ Option Shuffling : Yes Display Question Number : Yes  
Single Line Question Option : No Option Orientation : Vertical

Correct Marks : 1 Wrong Marks : 0.25

The income of A, B and C are in the ratio 1 : 2 : 3 respectively and their expenses are in the ratio 2 : 3 : 4 respectively. If A saves Rs. 8000 out of an income of Rs. 20000, then what will be the saving of B?

Options :

1. ✖ Rs. 40000
2. ✔ Rs. 22000
3. ✖ Rs. 24000
4. ✖ Rs. 30000

Question Number : 51 Question Id : 99836739475 Question Type : MCQ Option Shuffling : Yes Display Question Number : Yes  
Single Line Question Option : No Option Orientation : Vertical

Correct Marks : 1 Wrong Marks : 0.25

A, B तथा C की आय क्रमशः 1 : 2 : 3 के अनुपात में हैं तथा उनका व्यय क्रमशः 2 : 3 : 4 के अनुपात में है। यदि A, 20000 रुपये की आय में से 8000 रुपये बचाता है, तो B की बचत क्या होगी?

Options :

1. ✖ 40000 रुपये
2. ✔ 22000 रुपये
3. ✖ 24000 रुपये
4. ✖ 30000 रुपये

Question Number : 52 Question Id : 99836739476 Question Type : MCQ Option Shuffling : Yes Display Question Number : Yes  
Single Line Question Option : No Option Orientation : Vertical

Correct Marks : 1 Wrong Marks : 0.25

A sum of Rs. 3200 is invested at compound interest (compounding annually) at the rate of 20% per annum for two years. How much interest will be received after two years?

Options :

1. ✖ Rs. 1304
2. ✖ Rs. 1468
3. ✖ Rs. 1324
4. ✔ Rs. 1408

Question Number : 52 Question Id : 99836739476 Question Type : MCQ Option Shuffling : Yes Display Question Number : Yes  
Single Line Question Option : No Option Orientation : Vertical

Correct Marks : 1 Wrong Marks : 0.25

3200 रुपये की एक राशि का चक्रवृद्धि ब्याज (वार्षिक संयोजन पर) पर 20% प्रतिवर्ष की दर से दो वर्षों के लिए निवेश किया गया है। दो वर्ष पश्चात कितना ब्याज प्राप्त होगा?

Options :

1. ✖ 1304 रुपये
2. ✖ 1468 रुपये
3. ✖ 1324 रुपये
4. ✔ 1408 रुपये

Question Number : 53 Question Id : 99836739477 Question Type : MCQ Option Shuffling : Yes Display Question Number : Yes  
Single Line Question Option : No Option Orientation : Vertical

Correct Marks : 1 Wrong Marks : 0.25

A train leaves Delhi at 7 a.m. and reaches Jaipur at 1 p.m. on same day. Another train leaves Jaipur at 9:00 a.m. and reaches Delhi at 2 p.m. on same day. What is the time of day (approximately) when the two trains will meet?

Options :

1. ✓ 10:49 am
2. ✗ 10:00 am
3. ✗ 10:06 am
4. ✗ 11:06 am

Question Number : 53 Question Id : 99836739477 Question Type : MCQ Option Shuffling : Yes Display Question Number : Yes  
Single Line Question Option : No Option Orientation : Vertical

Correct Marks : 1 Wrong Marks : 0.25

एक रेलगाड़ी दिल्ली से 7 पूर्वाह्न (ए. एम.) पर चलती है तथा उसी दिन 1 अपराह्न (पी. एम.) पर जयपुर पहुँचती है। दूसरी रेलगाड़ी जयपुर से 9:00 पूर्वाह्न (ए. एम.) पर चलती है तथा उसी दिन 2 अपराह्न (पी. एम.) पर दिल्ली पहुँचती है। दिन में किस समय (अनुमानित) पर दोनों रेलगाड़ियाँ मिलेंगी?

Options :

1. ✓ 10:49 पूर्वाह्न
2. ✗ 10:00 पूर्वाह्न
3. ✗ 10:06 पूर्वाह्न
4. ✗ 11:06 पूर्वाह्न

Question Number : 54 Question Id : 99836739478 Question Type : MCQ Option Shuffling : Yes Display Question Number : Yes  
Single Line Question Option : No Option Orientation : Vertical

Correct Marks : 1 Wrong Marks : 0.25

A truck left 2 hours early than the scheduled time and in order to reach its destination 192 km away on time, it had to decrease its the usual speed by 8 km/hr. What is the usual speed of the truck?

Options :

1. ✓ 32 km/hr
2. ✗ 30 km/hr
3. ✗ 40 km/hr
4. ✗ 28 km/hr

Question Number : 54 Question Id : 99836739478 Question Type : MCQ Option Shuffling : Yes Display Question Number : Yes  
Single Line Question Option : No Option Orientation : Vertical

Correct Marks : 1 Wrong Marks : 0.25

एक ट्रक अपने निर्धारित समय से 2 घंटे पहले निकलता है तथा 192 कि.मी. दूर अपने गंतव्य स्थान पर समय से पहुँचने के लिए उसे अपनी सामान्य गति में 8 कि.मी. प्रति घंटा की कमी करनी पड़ेगी। ट्रक की सामान्य गति क्या है?

Options :

1. ✓ 32 कि.मी./घंटा
2. ✗ 30 कि.मी./घंटा
3. ✗ 40 कि.मी./घंटा
4. ✗ 28 कि.मी./घंटा

Question Number : 55 Question Id : 99836739479 Question Type : MCQ Option Shuffling : Yes Display Question Number : Yes  
Single Line Question Option : No Option Orientation : Vertical

Correct Marks : 1 Wrong Marks : 0.25

A alone can complete  $(2/3)$  of a work in 40 days. B alone can complete  $(3/4)$  of the same work in 60 days. In how many days A and B together can complete  $(7/8)$  of the same work?

Options :

1. ✗ 24 days
2. ✓ 30 days

3. ✖ 32 days  
4. ✖ 36 days

Question Number : 55 Question Id : 99836739479 Question Type : MCQ Option Shuffling : Yes Display Question Number : Yes  
Single Line Question Option : No Option Orientation : Vertical

Correct Marks : 1 Wrong Marks : 0.25

A अकेले एक कार्य का  $(2/3)$  40 दिन में पूरा कर सकता है, B अकेला समान कार्य का  $(3/4)$  60 दिन में पूरा कर सकता है। A तथा B दोनों मिलकर समान कार्य का  $(7/8)$  कितने दिन में पूरा कर सकते हैं?

Options :

1. ✖ 24 दिन  
2. ✔ 30 दिन  
3. ✖ 32 दिन  
4. ✖ 36 दिन

Question Number : 56 Question Id : 99836739480 Question Type : MCQ Option Shuffling : Yes Display Question Number : Yes  
Single Line Question Option : No Option Orientation : Vertical

Correct Marks : 1 Wrong Marks : 0.25

Radius of wheel of a motorcycle is 14 cm. If its wheel is rotating at the speed of 800 round per minute, then what will be the speed of motorcycle?

Options :

1. ✖ 48.18 km/hr  
2. ✖ 45.04 km/hr  
3. ✔ 42.24 km/hr  
4. ✖ 25.62 km/hr

Question Number : 56 Question Id : 99836739480 Question Type : MCQ Option Shuffling : Yes Display Question Number : Yes  
Single Line Question Option : No Option Orientation : Vertical

Correct Marks : 1 Wrong Marks : 0.25

एक मोटरसाइकिल के पहिये की त्रिज्या 14 से.मी. है। यदि उसका पहिया 800 चक्कर प्रति मिनट की गति से घूमता है, तो मोटरसाइकिल की गति क्या होगी?

Options :

1. ✖ 48.18 कि.मी./घंटा  
2. ✖ 45.04 कि.मी./घंटा  
3. ✔ 42.24 कि.मी./घंटा  
4. ✖ 25.62 कि.मी./घंटा

Question Number : 57 Question Id : 99836739481 Question Type : MCQ Option Shuffling : Yes Display Question Number : Yes  
Single Line Question Option : No Option Orientation : Vertical

Correct Marks : 1 Wrong Marks : 0.25

A cylindrical vessel of radius 8 cm is partly filled with water. A sphere of radius 6 cm is completely submerged into the water. What will be the increment in the height of water?

Options :

1. ✖ 4.8 cm  
2. ✖ 3.5 cm  
3. ✖ 3.8 cm  
4. ✔ 4.5 cm

Question Number : 57 Question Id : 99836739481 Question Type : MCQ Option Shuffling : Yes Display Question Number : Yes  
Single Line Question Option : No Option Orientation : Vertical

Correct Marks : 1 Wrong Marks : 0.25



8 से.मी. त्रिज्या वाले बेलनाकार बर्तन के कुछ हिस्से में पानी भरा हुआ है। एक 6 से.मी. त्रिज्या वाले गोले को पूरी तरह पानी में डूबाया जाता है। पानी की ऊँचाई में कितनी बढ़ोतरी होगी?

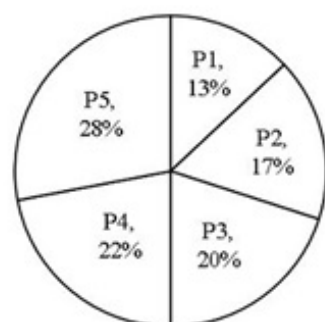
Options :

1. ✖ 4.8 से.मी.
2. ✖ 3.5 से.मी.
3. ✖ 3.8 से.मी.
4. ✔ 4.5 से.मी.

Question Number : 58 Question Id : 99836739482 Question Type : MCQ Option Shuffling : Yes Display Question Number : Yes  
Single Line Question Option : No Option Orientation : Vertical

Correct Marks : 1 Wrong Marks : 0.25

The pie chart given below shows the number of cars parked in five different parking areas of a city. Number of cars parked in a particular parking area is shown as a percentage of total number of cars parked in all parking area together.



What is the difference in central angle subtend by sectors for parking area P4 and P1?

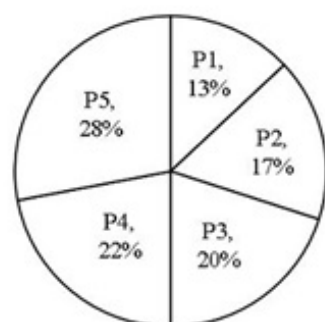
Options :

1. ✖  $22.4^\circ$
2. ✖  $26.4^\circ$
3. ✖  $21.4^\circ$
4. ✔  $32.4^\circ$

Question Number : 58 Question Id : 99836739482 Question Type : MCQ Option Shuffling : Yes Display Question Number : Yes  
Single Line Question Option : No Option Orientation : Vertical

Correct Marks : 1 Wrong Marks : 0.25

नीचे दिए गए वृत्त चित्र में एक शहर के पाँच विभिन्न क्षेत्र में खड़ी कारों की संख्या को दर्शाया गया है। किसी विशिष्ट पार्किंग क्षेत्र में खड़ी कारों की संख्या को सभी पार्किंग क्षेत्र में खड़ी कुल कारों की संख्या को प्रतिशत रूप में दर्शाया गया है।



पार्किंग क्षेत्र P4 तथा P1 के लिए खण्ड द्वारा बनाए गए केंद्रीय कोण के बीच का अंतर क्या है?

Options :

1. ✖  $22.4^\circ$
2. ✖  $26.4^\circ$

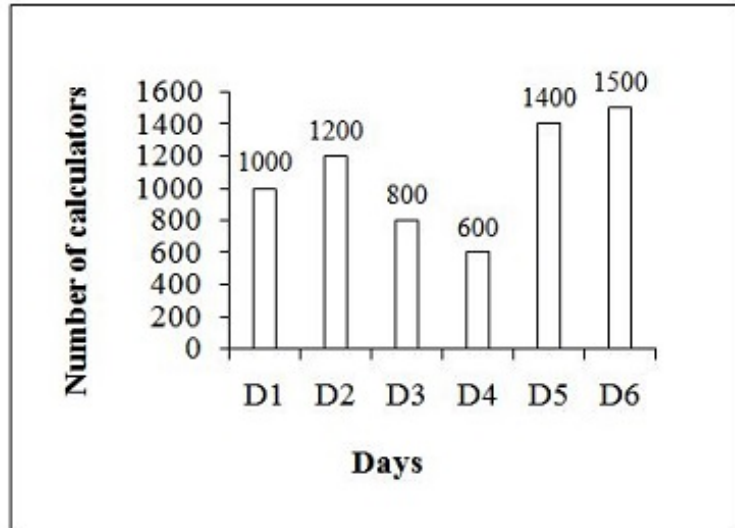
3. ✖ 21.4°

4. ✔ 32.4°

Question Number : 59 Question Id : 99836739483 Question Type : MCQ Option Shuffling : Yes Display Question Number : Yes Single Line Question Option : No Option Orientation : Vertical

Correct Marks : 1 Wrong Marks : 0.25

The bar graph given below shows the number of calculators sold by shopkeepers on different days of a week.



The number of calculators sold on day D2 is what percentage of total number of calculators sold on D4 and D5?

Options :

1. ✖ 10 percent

2. ✖ 15 percent

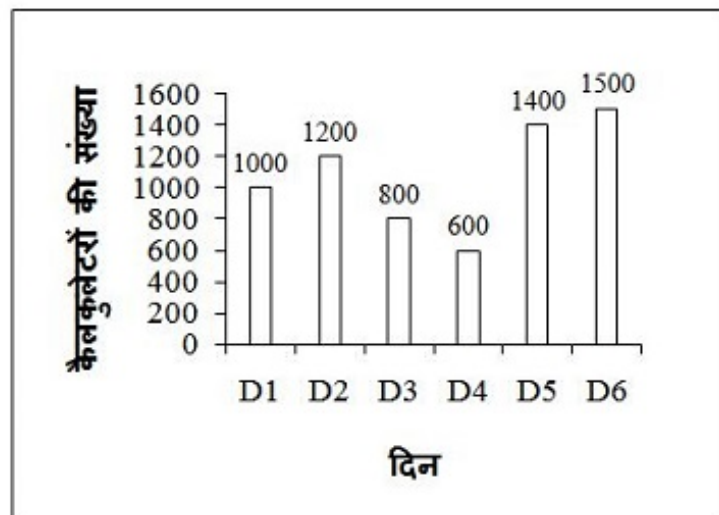
3. ✖ 35 percent

4. ✔ 60 percent

Question Number : 59 Question Id : 99836739483 Question Type : MCQ Option Shuffling : Yes Display Question Number : Yes Single Line Question Option : No Option Orientation : Vertical

Correct Marks : 1 Wrong Marks : 0.25

नीचे दिया गया दण्ड चित्र एक दुकानदार द्वारा एक सप्ताह के विभिन्न दिनों पर बेचे गए कैलकुलेटर की संख्या को दर्शाता है।



D2 दिन में बेचे गए कैलकुलेटर की संख्या, D4 दिन तथा D5 दिन में बेचे गए कुल कैलकुलेटर की संख्या का कितना प्रतिशत है?

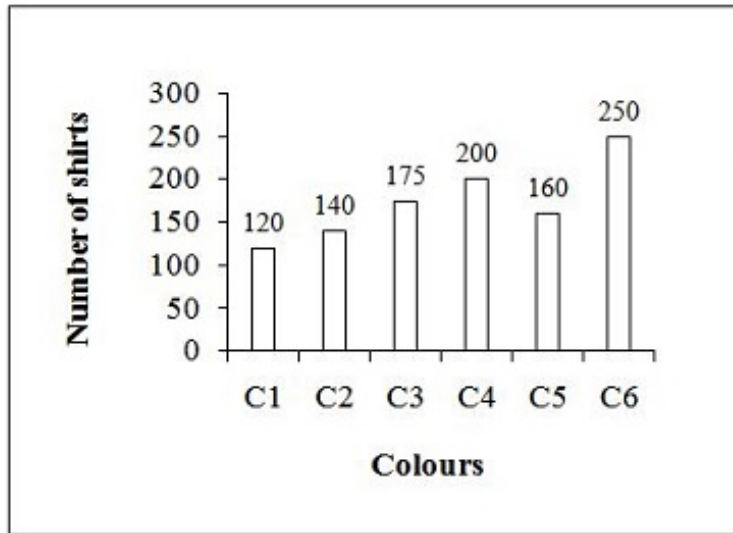
Options :

1. ✖ 10 प्रतिशत
2. ✖ 15 प्रतिशत
3. ✖ 35 प्रतिशत
4. ✔ 60 प्रतिशत

Question Number : 60 Question Id : 99836739484 Question Type : MCQ Option Shuffling : Yes Display Question Number : Yes  
Single Line Question Option : No Option Orientation : Vertical

Correct Marks : 1 Wrong Marks : 0.25

The bar graph given below shows the number of shirts of different colour in a shop.



What is the ratio of number of shirts of any colour C6 to the number of shirts of colour C4?

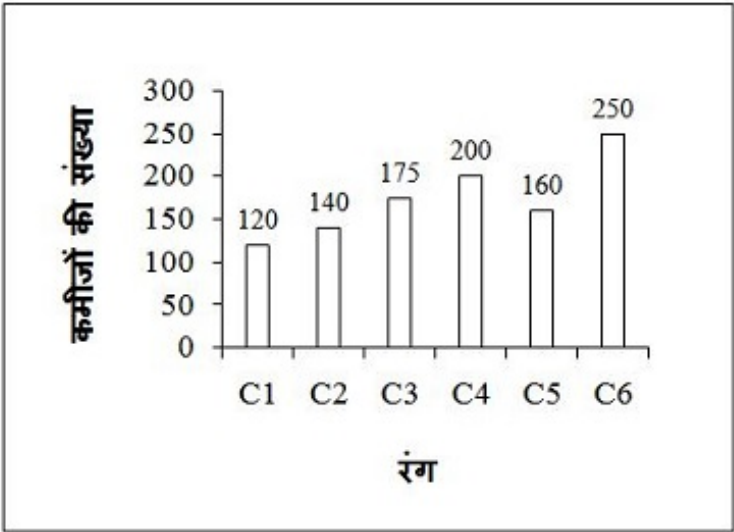
Options :

1. ✔ 5 : 4
2. ✖ 4 : 5
3. ✖ 6 : 2
4. ✖ 6 : 7

Question Number : 60 Question Id : 99836739484 Question Type : MCQ Option Shuffling : Yes Display Question Number : Yes  
Single Line Question Option : No Option Orientation : Vertical

Correct Marks : 1 Wrong Marks : 0.25

नीचे दिया गया दण् चित्र एक दुकान में बेची गई विभिन्न प्रकार की कमीजों की संख्या को दर्शाता है।



C6 रंग की कमीजों की संख्या का C4 रंग की कमीजों की संख्या से क्या अनुपात है?

Options :

- 1. ✓ 5 : 4
- 2. ✗ 4 : 5
- 3. ✗ 6 : 2
- 4. ✗ 6 : 7

General English

Group Number :	4
Group Id :	9983671224
Group Maximum Duration :	0
Group Minimum Duration :	0
Revisit allowed for view? :	No
Revisit allowed for edit? :	No
Break time:	0
Group Marks:	20
Revisit allowed for group Instructions? :	Yes
Maximum Instruction Time:	0
Minimum Instruction Time:	0

General English

Section Id :	9983671623
Section Number :	1
Section type :	Online
Mandatory or Optional:	Mandatory
Number of Questions:	16
Number of Questions to be attempted:	16
Section Marks:	20
Display Number Panel:	Yes
Group All Questions:	No

Sub-Section Number: 1  
Sub-Section Id: 9983672019  
Question Shuffling Allowed : Yes

Question Number : 61 Question Id : 99836739485 Question Type : MCQ Option Shuffling : Yes Display Question Number : Yes  
Single Line Question Option : No Option Orientation : Vertical

Correct Marks : 1 Wrong Marks : 0.25

Find the part of the given sentence that has an error in it. If there is no error, choose 'No error'.

She will finish (1)/ the work in (2)/ along a week (3)/ No error (4)

Options :

- 1. ✖ 1
- 2. ✖ 2
- 3. ✔ 3
- 4. ✖ 4

Question Number : 61 Question Id : 99836739485 Question Type : MCQ Option Shuffling : Yes Display Question Number : Yes  
Single Line Question Option : No Option Orientation : Vertical

Correct Marks : 1 Wrong Marks : 0.25

Find the part of the given sentence that has an error in it. If there is no error, choose 'No error'.

She will finish (1)/ the work in (2)/ along a week (3)/ No error (4)

Options :

- 1. ✖ 1
- 2. ✖ 2
- 3. ✔ 3
- 4. ✖ 4

Question Number : 62 Question Id : 99836739486 Question Type : MCQ Option Shuffling : Yes Display Question Number : Yes  
Single Line Question Option : No Option Orientation : Vertical

Correct Marks : 1 Wrong Marks : 0.25

Find the part of the given sentence that has an error in it. If there is no error, choose 'No error'.

A poor blind (1)/ beggar was knock (2)/ down by a bus (3)/ No error (4)

Options :

- 1. ✖ 1
- 2. ✔ 2
- 3. ✖ 3
- 4. ✖ 4

Question Number : 62 Question Id : 99836739486 Question Type : MCQ Option Shuffling : Yes Display Question Number : Yes  
Single Line Question Option : No Option Orientation : Vertical

Correct Marks : 1 Wrong Marks : 0.25

Find the part of the given sentence that has an error in it. If there is no error, choose 'No error'.

A poor blind (1)/ beggar was knock (2)/ down by a bus (3)/ No error (4)

Options :

- 1. ✖ 1
- 2. ✔ 2
- 3. ✖ 3
- 4. ✖ 4

Question Number : 63 Question Id : 99836739487 Question Type : MCQ Option Shuffling : Yes Display Question Number : Yes  
Single Line Question Option : No Option Orientation : Vertical

Correct Marks : 1 Wrong Marks : 0.25

Improve the bracketed part of the sentence.

She visited her aunt just (before a week).

Options :

1. ✖ a week before
2. ✔ a week ago
3. ✖ a week earlier
4. ✖ No improvement

Question Number : 63 Question Id : 99836739487 Question Type : MCQ Option Shuffling : Yes Display Question Number : Yes  
Single Line Question Option : No Option Orientation : Vertical

Correct Marks : 1 Wrong Marks : 0.25

Improve the bracketed part of the sentence.

She visited her aunt just (before a week).

Options :

1. ✖ a week before
2. ✔ a week ago
3. ✖ a week earlier
4. ✖ No improvement

Question Number : 64 Question Id : 99836739488 Question Type : MCQ Option Shuffling : Yes Display Question Number : Yes  
Single Line Question Option : No Option Orientation : Vertical

Correct Marks : 1 Wrong Marks : 0.25

Improve the bracketed part of the sentence.

I have not finished (to paint) the door.

Options :

1. ✖ the painting
2. ✔ painting
3. ✖ the paint of
4. ✖ No improvement

Question Number : 64 Question Id : 99836739488 Question Type : MCQ Option Shuffling : Yes Display Question Number : Yes  
Single Line Question Option : No Option Orientation : Vertical

Correct Marks : 1 Wrong Marks : 0.25

Improve the bracketed part of the sentence.

I have not finished (to paint) the door.

Options :

1. ✖ the painting
2. ✔ painting
3. ✖ the paint of
4. ✖ No improvement

Question Number : 65 Question Id : 99836739489 Question Type : MCQ Option Shuffling : Yes Display Question Number : Yes  
Single Line Question Option : No Option Orientation : Vertical

**Correct Marks : 1 Wrong Marks : 0.25**

A sentence has been given with a blank to be filled with an appropriate word. Choose the correct alternative.

He has decided to \_\_\_\_\_ for the conservative party.

**Options :**

1. ☒ canvass
2. ☐ canvas
3. ☐ advertise
4. ☐ canvassing

**Question Number : 65 Question Id : 99836739489 Question Type : MCQ Option Shuffling : Yes Display Question Number : Yes Single Line Question Option : No Option Orientation : Vertical**

**Correct Marks : 1 Wrong Marks : 0.25**

A sentence has been given with a blank to be filled with an appropriate word. Choose the correct alternative.

He has decided to \_\_\_\_\_ for the conservative party.

**Options :**

1. ☒ canvass
2. ☐ canvas
3. ☐ advertise
4. ☐ canvassing

**Question Number : 66 Question Id : 99836739490 Question Type : MCQ Option Shuffling : Yes Display Question Number : Yes Single Line Question Option : No Option Orientation : Vertical**

**Correct Marks : 1 Wrong Marks : 0.25**

A sentence has been given with a blank to be filled with an appropriate word. Choose the correct alternative.

Our salaries have \_\_\_\_\_ over the years.

**Options :**

1. ☐ adored
2. ☐ progressed
3. ☒ increased
4. ☐ developed

**Question Number : 66 Question Id : 99836739490 Question Type : MCQ Option Shuffling : Yes Display Question Number : Yes Single Line Question Option : No Option Orientation : Vertical**

**Correct Marks : 1 Wrong Marks : 0.25**

A sentence has been given with a blank to be filled with an appropriate word. Choose the correct alternative.

Our salaries have \_\_\_\_\_ over the years.

**Options :**

1. ☐ adored
2. ☐ progressed
3. ☒ increased
4. ☐ developed

**Question Number : 67 Question Id : 99836739491 Question Type : MCQ Option Shuffling : Yes Display Question Number : Yes Single Line Question Option : No Option Orientation : Vertical**

**Correct Marks : 1 Wrong Marks : 0.25**

Rearrange the parts of the sentence in correct order.

P: him when his  
Q: I was told  
R: you looked after  
S: end was near

Options :

1. ✖ PQRS
2. ✖ SRQP
3. ✔ QRPS
4. ✖ QRSP

Question Number : 67 Question Id : 99836739491 Question Type : MCQ Option Shuffling : Yes Display Question Number : Yes  
Single Line Question Option : No Option Orientation : Vertical

Correct Marks : 1 Wrong Marks : 0.25

Rearrange the parts of the sentence in correct order.

P: him when his  
Q: I was told  
R: you looked after  
S: end was near

Options :

1. ✖ PQRS
2. ✖ SRQP
3. ✔ QRPS
4. ✖ QRSP

Question Number : 68 Question Id : 99836739492 Question Type : MCQ Option Shuffling : Yes Display Question Number : Yes  
Single Line Question Option : No Option Orientation : Vertical

Correct Marks : 1 Wrong Marks : 0.25

Rearrange the parts of the sentence in correct order.

P: for all scenes  
Q: He knew  
R: rehearsals were  
S: not important

Options :

1. ✖ PRQS
2. ✖ SRQP
3. ✔ QRSP
4. ✖ SPQR

Question Number : 68 Question Id : 99836739492 Question Type : MCQ Option Shuffling : Yes Display Question Number : Yes  
Single Line Question Option : No Option Orientation : Vertical

Correct Marks : 1 Wrong Marks : 0.25

Rearrange the parts of the sentence in correct order.

P: for all scenes  
Q: He knew  
R: rehearsals were  
S: not important

Options :



1. ✖ PRQS
2. ✖ SRQP
3. ✔ QRSP
4. ✖ SPQR

Question Number : 69 Question Id : 99836739493 Question Type : MCQ Option Shuffling : Yes Display Question Number : Yes  
Single Line Question Option : No Option Orientation : Vertical

Correct Marks : 1 Wrong Marks : 0.25

Choose the word that is opposite in meaning to the given word.

Similar

Options :

1. ✖ Kind
2. ✔ Dissimilar
3. ✖ Oppose
4. ✖ Contain

Question Number : 69 Question Id : 99836739493 Question Type : MCQ Option Shuffling : Yes Display Question Number : Yes  
Single Line Question Option : No Option Orientation : Vertical

Correct Marks : 1 Wrong Marks : 0.25

Choose the word that is opposite in meaning to the given word.

Similar

Options :

1. ✖ Kind
2. ✔ Dissimilar
3. ✖ Oppose
4. ✖ Contain

Question Number : 70 Question Id : 99836739494 Question Type : MCQ Option Shuffling : Yes Display Question Number : Yes  
Single Line Question Option : No Option Orientation : Vertical

Correct Marks : 1 Wrong Marks : 0.25

Choose the word that means the same as the given word.

Concede

Options :

1. ✖ Reject
2. ✖ Start
3. ✖ Weaken
4. ✔ Affirm

Question Number : 70 Question Id : 99836739494 Question Type : MCQ Option Shuffling : Yes Display Question Number : Yes  
Single Line Question Option : No Option Orientation : Vertical

Correct Marks : 1 Wrong Marks : 0.25

Choose the word that means the same as the given word.

Concede

Options :

1. ✖ Reject
2. ✖ Start

3. ✖ Weaken
4. ✔ Affirm

Question Number : 71 Question Id : 99836739495 Question Type : MCQ Option Shuffling : Yes Display Question Number : Yes  
Single Line Question Option : No Option Orientation : Vertical

Correct Marks : 1 Wrong Marks : 0.25

In the given question, four words are given out of which one word is correctly spelt. Choose the correctly spelt word.

Options :

1. ✖ Correspondence
2. ✖ Correspondance
3. ✔ Correspondence
4. ✖ Corresspondence

Question Number : 71 Question Id : 99836739495 Question Type : MCQ Option Shuffling : Yes Display Question Number : Yes  
Single Line Question Option : No Option Orientation : Vertical

Correct Marks : 1 Wrong Marks : 0.25

In the given question, four words are given out of which one word is correctly spelt. Choose the correctly spelt word.

Options :

1. ✖ Correspondence
2. ✖ Correspondance
3. ✔ Correspondence
4. ✖ Corresspondence

Question Number : 72 Question Id : 99836739496 Question Type : MCQ Option Shuffling : Yes Display Question Number : Yes  
Single Line Question Option : No Option Orientation : Vertical

Correct Marks : 1 Wrong Marks : 0.25

In the given question, four words are given out of which one word is incorrectly spelt. Choose the incorrectly spelt word.

Options :

1. ✖ Hierarchy
2. ✔ Ignorence
3. ✖ Inoculate
4. ✖ Gauge

Question Number : 72 Question Id : 99836739496 Question Type : MCQ Option Shuffling : Yes Display Question Number : Yes  
Single Line Question Option : No Option Orientation : Vertical

Correct Marks : 1 Wrong Marks : 0.25

In the given question, four words are given out of which one word is incorrectly spelt. Choose the incorrectly spelt word.

Options :

1. ✖ Hierarchy
2. ✔ Ignorence
3. ✖ Inoculate
4. ✖ Gauge

Question Number : 73 Question Id : 99836739497 Question Type : MCQ Option Shuffling : Yes Display Question Number : Yes  
Single Line Question Option : No Option Orientation : Vertical

Correct Marks : 1 Wrong Marks : 0.25

In the following question, out of the given four alternatives, select the alternative which best expresses the meaning of the Idiom/Phrase.

Bring home the bacon

Options :

1. ✖ Subject matter of the fight
2. ✖ To praise one
3. ✔ To earn money to live
4. ✖ To keep quite

Question Number : 73 Question Id : 99836739497 Question Type : MCQ Option Shuffling : Yes Display Question Number : Yes  
Single Line Question Option : No Option Orientation : Vertical

Correct Marks : 1 Wrong Marks : 0.25

In the following question, out of the given four alternatives, select the alternative which best expresses the meaning of the Idiom/Phrase.

Bring home the bacon

Options :

1. ✖ Subject matter of the fight
2. ✖ To praise one
3. ✔ To earn money to live
4. ✖ To keep quite

Question Number : 74 Question Id : 99836739498 Question Type : MCQ Option Shuffling : Yes Display Question Number : Yes  
Single Line Question Option : No Option Orientation : Vertical

Correct Marks : 1 Wrong Marks : 0.25

In the following question, out of the given four alternatives, select the alternative which best expresses the meaning of the Idiom/Phrase.

Heart missed a beat

Options :

1. ✖ Be guiltless
2. ✔ Very excited
3. ✖ Good natured
4. ✖ A serious mistake

Question Number : 74 Question Id : 99836739498 Question Type : MCQ Option Shuffling : Yes Display Question Number : Yes  
Single Line Question Option : No Option Orientation : Vertical

Correct Marks : 1 Wrong Marks : 0.25

In the following question, out of the given four alternatives, select the alternative which best expresses the meaning of the Idiom/Phrase.

Heart missed a beat

Options :

1. ✖ Be guiltless
2. ✔ Very excited
3. ✖ Good natured
4. ✖ A serious mistake

Question Number : 75 Question Id : 99836739499 Question Type : MCQ Option Shuffling : Yes Display Question Number : Yes  
Single Line Question Option : No Option Orientation : Vertical

**Correct Marks : 1 Wrong Marks : 0.25**

Choose the word that can substitute the given sentence.

A place where bodies are kept for identification.

**Options :**

1. ✓ Morgue
2. ✗ Orchard
3. ✗ Lair
4. ✗ Hutch

**Question Number : 75 Question Id : 99836739499 Question Type : MCQ Option Shuffling : Yes Display Question Number : Yes**  
**Single Line Question Option : No Option Orientation : Vertical**

**Correct Marks : 1 Wrong Marks : 0.25**

Choose the word that can substitute the given sentence.

A place where bodies are kept for identification.

**Options :**

1. ✓ Morgue
2. ✗ Orchard
3. ✗ Lair
4. ✗ Hutch

<b>Sub-Section Number:</b>	2
<b>Sub-Section Id:</b>	9983672020
<b>Question Shuffling Allowed :</b>	Yes

**Question Id : 99836739500 Question Type : COMPREHENSION Sub Question Shuffling Allowed : Yes Group Comprehension Questions : No**

**Question Numbers : (76 to 80)**

**Question Label : Comprehension**

Read the following information carefully and answer the given questions.

Young people are living in a world of immense and increasing complexities. At every turn the landscape through, which they are moving is changing faster than at any time in history. This is true economically, socially and culturally. For all National Governments there are two related priorities in planning for the future. The first is to find ways of realising the creative resources of all young people to enable them to participate in these changes positively and constructively. The second is to engage with cultural diversity, while maintaining cultural identity and social cohesion. These concern underpin the work of the Council of Europe's project " Culture, Creativity and the Young".

This policy note summarises some of the issues and proposals, which have begun to emerge from the activities of the project to date. It draws from a survey of Arts Education in Europe published in the exploratory phase of the project from international colloquies organised by the project's international series of thematic studies commissioned by the project's international advisory group. The note argues that it is essential for National Government to frame coherent policies and programmes to support the creative and cultural development of all young people and it identifies the central questions and issues, which will define these policies and the principles on which they might be based.

**Sub questions**

**Question Number : 76 Question Id : 99836739501 Question Type : MCQ Option Shuffling : Yes Display Question Number : Yes**  
**Single Line Question Option : No Option Orientation : Vertical**

**Correct Marks : 1 Wrong Marks : 0.25**

Which of the following statements is correct?

**Options :**

1. ✖ Young people are very complex in nature.
2. ✖ Governments are realising the creative resources of young people.
3. ✔ It is the duty of the National Government to frame creative and cultural development of all young people.
4. ✖ Governments are realising the creative resources of young people and it is the duty of the National Government to frame creative and cultural development of all people.

Question Number : 77 Question Id : 99836739502 Question Type : MCQ Option Shuffling : Yes Display Question Number : Yes  
Single Line Question Option : No Option Orientation : Vertical

Correct Marks : 1 Wrong Marks : 0.25

Why there is a need to frame a policy for younger people?

Options :

1. ✖ Young people prefer to live in a dilemma condition.
2. ✔ To support the creative and cultural development of all young people.
3. ✖ Young people prefer to live in a dilemma condition and to support the creative and cultural development of all young people.
4. ✖ Young people are very confident.

Question Number : 78 Question Id : 99836739503 Question Type : MCQ Option Shuffling : Yes Display Question Number : Yes  
Single Line Question Option : No Option Orientation : Vertical

Correct Marks : 1 Wrong Marks : 0.25

Which word means the same as colloquies?

Options :

1. ✖ Silence
2. ✖ Quiet
3. ✖ Introvert
4. ✔ Converse

Question Number : 79 Question Id : 99836739504 Question Type : MCQ Option Shuffling : Yes Display Question Number : Yes  
Single Line Question Option : No Option Orientation : Vertical

Correct Marks : 1 Wrong Marks : 0.25

Which word does not mean the same as cohesion?

Options :

1. ✖ Union
2. ✖ Coherence
3. ✖ Adherence
4. ✔ Policies

Question Number : 80 Question Id : 99836739505 Question Type : MCQ Option Shuffling : Yes Display Question Number : Yes  
Single Line Question Option : No Option Orientation : Vertical

Correct Marks : 1 Wrong Marks : 0.25

Which word means the same as exploratory?

Options :

1. ✖ Additional
2. ✖ Closing
3. ✔ Preliminary
4. ✖ Secondary

Question Id : 99836739500 Question Type : COMPREHENSION Sub Question Shuffling Allowed : Yes Group Comprehension  
Questions : No

**Question Numbers : (76 to 80)**

**Question Label : Comprehension**

Read the following information carefully and answer the given questions.

Young people are living in a world of immense and increasing complexities. At every turn the landscape through, which they are moving is changing faster than at any time in history. This is true economically, socially and culturally. For all National Governments there are two related priorities in planning for the future. The first is to find ways of realising the creative resources of all young people to enable them to participate in these changes positively and constructively. The second is to engage with cultural diversity, while maintaining cultural identity and social cohesion. These concern underpin the work of the Council of Europe's project " Culture, Creativity and the Young".

This policy note summarises some of the issues and proposals, which have begun to emerge from the activities of the project to date. It draws from a survey of Arts Education in Europe published in the exploratory phase of the project from international colloquies organised by the project's international series of thematic studies commissioned by the project's international advisory group. The note argues that it is essential for National Government to frame coherent policies and programmes to support the creative and cultural development of all young people and it identifies the central questions and issues, which will define these policies and the principles on which they might be based.

**Sub questions**

**Question Number : 76 Question Id : 99836739501 Question Type : MCQ Option Shuffling : Yes Display Question Number : Yes Single Line Question Option : No Option Orientation : Vertical**

**Correct Marks : 1 Wrong Marks : 0.25**

Which of the following statements is correct?

**Options :**

1. ✖ Young people are very complex in nature.
2. ✖ Governments are realising the creative resources of young people.
3. ✔ It is the duty of the National Government to frame creative and cultural development of all young people.
4. ✖ Governments are realising the creative resources of young people and it is the duty of the National Government to frame creative and cultural development of all people.

**Question Number : 77 Question Id : 99836739502 Question Type : MCQ Option Shuffling : Yes Display Question Number : Yes Single Line Question Option : No Option Orientation : Vertical**

**Correct Marks : 1 Wrong Marks : 0.25**

Why there is a need to frame a policy for younger people?

**Options :**

1. ✖ Young people prefer to live in a dilemma condition.
2. ✔ To support the creative and cultural development of all young people.
3. ✖ Young people prefer to live in a dilemma condition and to support the creative and cultural development of all young people.
4. ✖ Young people are very confident.

**Question Number : 78 Question Id : 99836739503 Question Type : MCQ Option Shuffling : Yes Display Question Number : Yes Single Line Question Option : No Option Orientation : Vertical**

**Correct Marks : 1 Wrong Marks : 0.25**

Which word means the same as colloquies?

**Options :**

1. ✖ Silence
2. ✖ Quiet
3. ✖ Introvert
4. ✔ Converse

Question Number : 79 Question Id : 99836739504 Question Type : MCQ Option Shuffling : Yes Display Question Number : Yes  
Single Line Question Option : No Option Orientation : Vertical

Correct Marks : 1 Wrong Marks : 0.25

Which word does not mean the same as cohesion?

Options :

1. ✖ Union
2. ✖ Coherence
3. ✖ Adherence
4. ✔ Policies

Question Number : 80 Question Id : 99836739505 Question Type : MCQ Option Shuffling : Yes Display Question Number : Yes  
Single Line Question Option : No Option Orientation : Vertical

Correct Marks : 1 Wrong Marks : 0.25

Which word means the same as exploratory?

Options :

1. ✖ Additional
2. ✖ Closing
3. ✔ Preliminary
4. ✖ Secondary

#### General Hindi

Group Number :	5
Group Id :	9983671225
Group Maximum Duration :	0
Group Minimum Duration :	0
Revisit allowed for view? :	No
Revisit allowed for edit? :	No
Break time:	0
Group Marks:	20
Revisit allowed for group Instructions? :	Yes
Maximum Instruction Time:	0
Minimum Instruction Time:	0

#### General Hindi

Section Id :	9983671624
Section Number :	1
Section type :	Online
Mandatory or Optional:	Mandatory
Number of Questions:	16
Number of Questions to be attempted:	16
Section Marks:	20
Display Number Panel:	Yes
Group All Questions:	No

Sub-Section Number:	1
Sub-Section Id:	9983672021
Question Shuffling Allowed :	Yes

Question Number : 81 Question Id : 99836739506 Question Type : MCQ Option Shuffling : Yes Display Question Number : Yes  
Single Line Question Option : No Option Orientation : Vertical

Correct Marks : 1 Wrong Marks : 0.25

दिए गए शब्द का समास ज्ञात कीजिए।

घुड़दौड़

Options :

1. ☒ तत्पुरुष समास
2. ☐ द्वंद्व समास
3. ☐ कर्मधारय समास
4. ☐ बहुव्रीहि समास

Question Number : 81 Question Id : 99836739506 Question Type : MCQ Option Shuffling : Yes Display Question Number : Yes  
Single Line Question Option : No Option Orientation : Vertical

Correct Marks : 1 Wrong Marks : 0.25

दिए गए शब्द का समास ज्ञात कीजिए।

घुड़दौड़

Options :

1. ☒ तत्पुरुष समास
2. ☐ द्वंद्व समास
3. ☐ कर्मधारय समास
4. ☐ बहुव्रीहि समास

Question Number : 82 Question Id : 99836739507 Question Type : MCQ Option Shuffling : Yes Display Question Number : Yes  
Single Line Question Option : No Option Orientation : Vertical

Correct Marks : 1 Wrong Marks : 0.25

दिए गए शब्दों की संधि ज्ञात कीजिए।

अधि + आय

Options :

1. ☐ अधिआय
2. ☒ अध्याय
3. ☐ अधीयाय
4. ☐ अधीःआय

Question Number : 82 Question Id : 99836739507 Question Type : MCQ Option Shuffling : Yes Display Question Number : Yes  
Single Line Question Option : No Option Orientation : Vertical

Correct Marks : 1 Wrong Marks : 0.25

दिए गए शब्दों की संधि ज्ञात कीजिए।

अधि + आय

Options :

1. ☐ अधिआय
2. ☒ अध्याय
3. ☐ अधीयाय
4. ☐ अधीःआय

Question Number : 83 Question Id : 99836739508 Question Type : MCQ Option Shuffling : Yes Display Question Number : Yes  
Single Line Question Option : No Option Orientation : Vertical



Correct Marks : 1 Wrong Marks : 0.25

निम्नलिखित में से सही तत्सम - तद्भव शब्द युग्म ज्ञात कीजिए

Options :

1. ✖ नख-नृत्य
2. ✖ नेम-नृम
3. ✖ नस-नव
4. ✔ ध्वनि-धुनि

Question Number : 83 Question Id : 99836739508 Question Type : MCQ Option Shuffling : Yes Display Question Number : Yes  
Single Line Question Option : No Option Orientation : Vertical

Correct Marks : 1 Wrong Marks : 0.25

निम्नलिखित में से सही तत्सम - तद्भव शब्द युग्म ज्ञात कीजिए

Options :

1. ✖ नख-नृत्य
2. ✖ नेम-नृम
3. ✖ नस-नव
4. ✔ ध्वनि-धुनि

Question Number : 84 Question Id : 99836739509 Question Type : MCQ Option Shuffling : Yes Display Question Number : Yes  
Single Line Question Option : No Option Orientation : Vertical

Correct Marks : 1 Wrong Marks : 0.25

दिए गए शब्द युग्म का सही शब्द युग्म ज्ञात कीजिए

अरि:अरी

Options :

1. ✔ शत्रु: सम्बोधन (स्त्री के लिए)
2. ✖ असमर्थ:विरक्त
3. ✖ शक्तिहीन:दुर्लभ
4. ✖ बादल:वर्ष

Question Number : 84 Question Id : 99836739509 Question Type : MCQ Option Shuffling : Yes Display Question Number : Yes  
Single Line Question Option : No Option Orientation : Vertical

Correct Marks : 1 Wrong Marks : 0.25

दिए गए शब्द युग्म का सही शब्द युग्म ज्ञात कीजिए

अरि:अरी

Options :

1. ✔ शत्रु: सम्बोधन (स्त्री के लिए)
2. ✖ असमर्थ:विरक्त
3. ✖ शक्तिहीन:दुर्लभ
4. ✖ बादल:वर्ष

Question Number : 85 Question Id : 99836739510 Question Type : MCQ Option Shuffling : Yes Display Question Number : Yes  
Single Line Question Option : No Option Orientation : Vertical

Correct Marks : 1 Wrong Marks : 0.25

दिए गए रिक्तस्थान में उपयुक्त पर्यायवाची शब्द का चयन कीजिए

मेरे \_\_\_\_\_ के सामने पीपल का \_\_\_\_\_ है।

Options :

1. ✖ भू तम

2. ✓ गृह, विरप
3. ✗ आवास, पुष्प
4. ✗ धाम, तम

Question Number : 85 Question Id : 99836739510 Question Type : MCQ Option Shuffling : Yes Display Question Number : Yes  
Single Line Question Option : No Option Orientation : Vertical

Correct Marks : 1 Wrong Marks : 0.25

दिए गए रिक्तस्थान में उपयुक्त पर्यायवाची शब्द का चयन कीजिए।

मेरे \_\_\_\_\_ के सामने पीपल का \_\_\_\_\_ है।

Options :

1. ✗ भू, तम
2. ✓ गृह, विरप
3. ✗ आवास, पुष्प
4. ✗ धाम, तम

Question Number : 86 Question Id : 99836739511 Question Type : MCQ Option Shuffling : Yes Display Question Number : Yes  
Single Line Question Option : No Option Orientation : Vertical

Correct Marks : 1 Wrong Marks : 0.25

निम्नलिखित शब्दों में से शुद्ध वर्तनी शब्द का चयन कीजिए।

Options :

1. ✗ कनिष्ट
2. ✓ कनिष्ठ
3. ✗ कनीष्ठ
4. ✗ कनीष्ट

Question Number : 86 Question Id : 99836739511 Question Type : MCQ Option Shuffling : Yes Display Question Number : Yes  
Single Line Question Option : No Option Orientation : Vertical

Correct Marks : 1 Wrong Marks : 0.25

निम्नलिखित शब्दों में से शुद्ध वर्तनी शब्द का चयन कीजिए।

Options :

1. ✗ कनिष्ट
2. ✓ कनिष्ठ
3. ✗ कनीष्ठ
4. ✗ कनीष्ट

Question Number : 87 Question Id : 99836739512 Question Type : MCQ Option Shuffling : Yes Display Question Number : Yes  
Single Line Question Option : No Option Orientation : Vertical

Correct Marks : 1 Wrong Marks : 0.25

दिए गए वाक्यांश के लिए उचित शब्द का चयन कीजिए।

जिसका वर्णन न हो सके।

Options :

1. ✓ अवर्णनीय
2. ✗ वर्णनीय
3. ✗ अनुरक्त
4. ✗ अपेक्षित

Question Number : 87 Question Id : 99836739512 Question Type : MCQ Option Shuffling : Yes Display Question Number : Yes  
Single Line Question Option : No Option Orientation : Vertical

Correct Marks : 1 Wrong Marks : 0.25

दिए गए वाक्यांश के लिए उचित शब्द का चयन कीजिए।

जिसका वर्णन न हो सके।

Options :

1. ☒ अवर्णनीय
2. ☐ वर्णनीय
3. ☐ अनुरक्त
4. ☐ अपेक्षित

Question Number : 88 Question Id : 99836739513 Question Type : MCQ Option Shuffling : Yes Display Question Number : Yes  
Single Line Question Option : No Option Orientation : Vertical

Correct Marks : 1 Wrong Marks : 0.25

दिए गए शब्दों में से स्त्रीलिंग शब्द ज्ञात कीजिए।

Options :

1. ☐ मच्छर
2. ☐ रविवार
3. ☐ मोतिया
4. ☒ रावी

Question Number : 88 Question Id : 99836739513 Question Type : MCQ Option Shuffling : Yes Display Question Number : Yes  
Single Line Question Option : No Option Orientation : Vertical

Correct Marks : 1 Wrong Marks : 0.25

दिए गए शब्दों में से स्त्रीलिंग शब्द ज्ञात कीजिए।

Options :

1. ☐ मच्छर
2. ☐ रविवार
3. ☐ मोतिया
4. ☒ रावी

Question Number : 89 Question Id : 99836739514 Question Type : MCQ Option Shuffling : Yes Display Question Number : Yes  
Single Line Question Option : No Option Orientation : Vertical

Correct Marks : 1 Wrong Marks : 0.25

दिए गए वाक्य का काल ज्ञात कीजिए।

शायद चोर पकड़ा जाए।

Options :

1. ☐ अपूर्ण भूतकाल
2. ☒ सम्भाव्य भविष्यत काल
3. ☐ संदिग्ध भूतकाल
4. ☐ सामान्य भूतकाल

Question Number : 89 Question Id : 99836739514 Question Type : MCQ Option Shuffling : Yes Display Question Number : Yes  
Single Line Question Option : No Option Orientation : Vertical

Correct Marks : 1 Wrong Marks : 0.25

दिए गए वाक्य का काल ज्ञात कीजिए।

शायद चोर पकड़ा जाए।

Options :

1. ✖ अपूर्ण भूतकाल
2. ✔ सम्भाव्य भविष्यत काल
3. ✖ संदिग्ध भूतकाल
4. ✖ सामान्य भूतकाल

Question Number : 90 Question Id : 99836739515 Question Type : MCQ Option Shuffling : Yes Display Question Number : Yes  
Single Line Question Option : No Option Orientation : Vertical

Correct Marks : 1 Wrong Marks : 0.25

दिए गए शब्द का वचन ज्ञात कीजिए।

हड्डी

Options :

1. ✔ एकवचन
2. ✖ बहुवचन
3. ✖ एकवचन व बहुवचन दोनों
4. ✖ सदा एक वचन

Question Number : 90 Question Id : 99836739515 Question Type : MCQ Option Shuffling : Yes Display Question Number : Yes  
Single Line Question Option : No Option Orientation : Vertical

Correct Marks : 1 Wrong Marks : 0.25

दिए गए शब्द का वचन ज्ञात कीजिए।

हड्डी

Options :

1. ✔ एकवचन
2. ✖ बहुवचन
3. ✖ एकवचन व बहुवचन दोनों
4. ✖ सदा एक वचन

Question Number : 91 Question Id : 99836739516 Question Type : MCQ Option Shuffling : Yes Display Question Number : Yes  
Single Line Question Option : No Option Orientation : Vertical

Correct Marks : 1 Wrong Marks : 0.25

दिए गए वाक्यों में से सरल वाक्य ज्ञात कीजिए।

Options :

1. ✔ अभिमन्यु बाणों की वर्षा कर रहा था।
2. ✖ अभिमन्यु बाणों के द्वारा वर्षा कर रहा था।
3. ✖ अभिमन्यु ने जो धनुष लिया था उससे बाणों की वर्षा हो रही थी।
4. ✖ अभिमन्यु ने देखा तो उसके धनुष से बाणों की वर्षा हो रही थी।

Question Number : 91 Question Id : 99836739516 Question Type : MCQ Option Shuffling : Yes Display Question Number : Yes  
Single Line Question Option : No Option Orientation : Vertical

Correct Marks : 1 Wrong Marks : 0.25

दिए गए वाक्यों में से सरल वाक्य ज्ञात कीजिए।

Options :

1. ✔ अभिमन्यु बाणों की वर्षा कर रहा था।
2. ✖ अभिमन्यु बाणों के द्वारा वर्षा कर रहा था।
3. ✖ अभिमन्यु ने जो धनुष लिया था उससे बाणों की वर्षा हो रही थी।
4. ✖ अभिमन्यु ने देखा तो उसके धनुष से बाणों की वर्षा हो रही थी।

Question Number : 92 Question Id : 99836739517 Question Type : MCQ Option Shuffling : Yes Display Question Number : Yes  
Single Line Question Option : No Option Orientation : Vertical

Correct Marks : 1 Wrong Marks : 0.25

रिक्त स्थान में दिए गए चार विकल्पों में उस विकल्प का चयन करें जो दिए गए मुहावरे के अर्थ को सर्वश्रेष्ठ रूप से व्यक्त करता है।

बेटी की विदाई पर माँ की \_\_\_\_\_ ।

Options :

1. ✓ आँखें भर आयी
2. ✗ आँखों में बस गई
3. ✗ आँख का तारा
4. ✗ आँख खुलना

Question Number : 92 Question Id : 99836739517 Question Type : MCQ Option Shuffling : Yes Display Question Number : Yes  
Single Line Question Option : No Option Orientation : Vertical

Correct Marks : 1 Wrong Marks : 0.25

रिक्त स्थान में दिए गए चार विकल्पों में उस विकल्प का चयन करें जो दिए गए मुहावरे के अर्थ को सर्वश्रेष्ठ रूप से व्यक्त करता है।

बेटी की विदाई पर माँ की \_\_\_\_\_ ।

Options :

1. ✓ आँखें भर आयी
2. ✗ आँखों में बस गई
3. ✗ आँख का तारा
4. ✗ आँख खुलना

Question Number : 93 Question Id : 99836739518 Question Type : MCQ Option Shuffling : Yes Display Question Number : Yes  
Single Line Question Option : No Option Orientation : Vertical

Correct Marks : 1 Wrong Marks : 0.25

दिए गए वाक्य में उपयुक्त विराम चिह्न का चयन करें।

तुम सब कहाँ जा रहे हो

Options :

1. ✓ ?
2. ✗ ,
3. ✗ ( )
4. ✗ -

Question Number : 93 Question Id : 99836739518 Question Type : MCQ Option Shuffling : Yes Display Question Number : Yes  
Single Line Question Option : No Option Orientation : Vertical

Correct Marks : 1 Wrong Marks : 0.25

दिए गए वाक्य में उपयुक्त विराम चिह्न का चयन करें।

तुम सब कहाँ जा रहे हो

Options :

1. ✓ ?
2. ✗ ,
3. ✗ ( )
4. ✗ -

Question Number : 94 Question Id : 99836739519 Question Type : MCQ Option Shuffling : Yes Display Question Number : Yes  
Single Line Question Option : No Option Orientation : Vertical

Correct Marks : 1 Wrong Marks : 0.25

दिए गए वाक्य में किस विराम चिह्न का उपयोग किया जाएगा उसकी पहचान कीजिए

हमारा विद्यालय प्रात आठ बजे खुलता है।

Options :

1. ✖ ,
2. ✖ ;
3. ✔ :
4. ✖ -

Question Number : 94 Question Id : 99836739519 Question Type : MCQ Option Shuffling : Yes Display Question Number : Yes  
Single Line Question Option : No Option Orientation : Vertical

Correct Marks : 1 Wrong Marks : 0.25

दिए गए वाक्य में किस विराम चिह्न का उपयोग किया जाएगा उसकी पहचान कीजिए

हमारा विद्यालय प्रात आठ बजे खुलता है।

Options :

1. ✖ ,
2. ✖ ;
3. ✔ :
4. ✖ -

Question Number : 95 Question Id : 99836739520 Question Type : MCQ Option Shuffling : Yes Display Question Number : Yes  
Single Line Question Option : No Option Orientation : Vertical

Correct Marks : 1 Wrong Marks : 0.25

दिए गए मुहावरे के अर्थ का सर्वश्रेष्ठ रूप ज्ञात कीजिए

कटंक बनना

Options :

1. ✔ बाधक होना
2. ✖ तैयार होना
3. ✖ मूर्ख होना
4. ✖ घबराना

Question Number : 95 Question Id : 99836739520 Question Type : MCQ Option Shuffling : Yes Display Question Number : Yes  
Single Line Question Option : No Option Orientation : Vertical

Correct Marks : 1 Wrong Marks : 0.25

दिए गए मुहावरे के अर्थ का सर्वश्रेष्ठ रूप ज्ञात कीजिए

कटंक बनना

Options :

1. ✔ बाधक होना
2. ✖ तैयार होना
3. ✖ मूर्ख होना
4. ✖ घबराना

Sub-Section Number:

2

Sub-Section Id:

9983672022

Question Shuffling Allowed :

Yes

Question Id : 99836739521 Question Type : COMPREHENSION Sub Question Shuffling Allowed : Yes Group Comprehension Questions : No

Question Numbers : (96 to 100)

Question Label : Comprehension

गद्यांश को ध्यानपूर्वक पढ़ें तथा प्रत्येक प्रश्न के चार विकल्पों में से सही विकल्प चुनें

भारतीय हिंदू समाज में जितने पर्व और उत्सव मनाए जाते हैं, उनमें नवरात्र का विशिष्ट स्थान है। नवरात्र शक्ति की उपासना का पर्व है। शक्ति ही विश्व का सृजन करती है, शक्ति ही उसका संचालन करती है, शक्ति ही उसका संहार करती है। नवरात्रि त्योहार के आखिरी दिन विजयादशमी या दशहरे का उत्सव मनाया जाता है। रामायण के अनुसार इसी दिन भगवान श्रीराम ने रावण का वध किया था। गुजरात के बड़ोदरा में नवरात्रि उत्सव का सबसे भव्य और सुन्दर रूप देखने को मिलता है। इसमें त्योहार के दौरान प्रतिदिन 4-5 लाख लोग गरबा खेलने/नृत्य के लिए एक ही स्थान पर इकट्ठा होते हैं। गरबा सिर्फ नृत्य के रूप में नहीं इस दिन प्रतियोगिता के रूप में भी किया जाता है। उसी प्रकार भारत के पूर्वी राज्यों जैसे पश्चिम बंगाल में जगहु-जगहु, दुर्गा माँ के पंडाल बनाए जाते हैं जहाँ भक्त दर्शन के लिए पहुंचते हैं। वहाँ पर माता दुर्गा की पूजा करते हैं और उनसे सुख शांति की कामना करते हैं। कई जगहों पर पारंपरिक नृत्य और गीत के कार्यक्रम भी आयोजित किए जाते हैं, जहाँ हजारों की तादाद में लोग पहुंचते हैं। दसवें दिन पश्चिम बंगाल के लोग माँ दुर्गा की मिट्टी की मूर्तियों को पानी में विसर्जित कर देते हैं। भारत के पश्चिमी राज्यों में नवरात्रि का एक अलग ही रंग दिखता है, जहाँ शाम के समय लोग डांडिया खेलते हैं। अगर हम आसान शब्दों में नवरात्रि के महान पर्व का उल्लेख करें तो यह एक ऐसा मुख्य त्योहार है, जो भारत के हर कोने में मनाया जाता है।

Sub questions

Question Number : 96 Question Id : 99836739522 Question Type : MCQ Option Shuffling : Yes Display Question Number : Yes Single Line Question Option : No Option Orientation : Vertical

Correct Marks : 1 Wrong Marks : 0.25

नवरात्रि को कौन-सा पर्व माना जाता है?

Options :

1. ☒ शक्ति की उपासना का पर्व
2. ☐ व्रत रखने का पर्व
3. ☐ कार्यक्रम के लिए
4. ☐ पंडाल को सजाने का पर्व

Question Number : 97 Question Id : 99836739523 Question Type : MCQ Option Shuffling : Yes Display Question Number : Yes Single Line Question Option : No Option Orientation : Vertical

Correct Marks : 1 Wrong Marks : 0.25

नवरात्रों में कौन से नृत्य की प्रतियोगिता भी की जाती है?

Options :

1. ☐ भांगड़ा
2. ☒ गरबा
3. ☐ कथकली
4. ☐ पंथी नृत्य

Question Number : 98 Question Id : 99836739524 Question Type : MCQ Option Shuffling : Yes Display Question Number : Yes Single Line Question Option : No Option Orientation : Vertical

Correct Marks : 1 Wrong Marks : 0.25

नवरात्रि के आखिरी दिन कौन-सा उत्सव मनाया जाता है?

Options :

1. ☐ गांधी जयंती
2. ☐ दिवाली
3. ☐ होली
4. ☒ विजयादशमी

Question Number : 99 Question Id : 99836739525 Question Type : MCQ Option Shuffling : Yes Display Question Number : Yes Single Line Question Option : No Option Orientation : Vertical

Correct Marks : 1 Wrong Marks : 0.25

किन राज्यों में दुर्गा माँ की पूजा के लिए पंडाल भी बनाए जाते हैं?

Options :

- ❌ बिहार
- ❌ हिमाचल प्रदेश
- ✅ पश्चिम बंगाल
- ❌ छत्तीसगढ़

Question Number : 100 Question Id : 99836739526 Question Type : MCQ Option Shuffling : Yes Display Question Number : Yes  
Single Line Question Option : No Option Orientation : Vertical

Correct Marks : 1 Wrong Marks : 0.25

उपर्युक्त गद्यांश का उपयुक्त शीर्षक क्या होगा?

Options :

- ❌ नृत्य पर्व
- ✅ नवरात्रि पर्व
- ❌ दशहरा पर्व
- ❌ प्रतियोगिता कार्यक्रम पर्व

Question Id : 99836739521 Question Type : COMPREHENSION Sub Question Shuffling Allowed : Yes Group Comprehension  
Questions : No

Question Numbers : (96 to 100)

Question Label : Comprehension

एक गद्यांश दिया गया है। गद्यांश को ध्यानपूर्वक पढ़ें तथा प्रत्येक प्रश्न के चार विकल्पों में से सही विकल्प चुनें।

भारतीय हिंदू समाज में जितने पर्व और उत्सव मनाए जाते हैं, उनमें नवरात्र का विशिष्ट स्थान है। नवरात्र शक्ति की उपासना का पर्व है। शक्ति ही विश्व का सृजन करती है, शक्ति ही उसका संचालन करती है, शक्ति ही उसका संहार करती है। नवरात्रि त्योहार के आखिरी दिन विजयादशमी या दशहरे का उत्सव मनाया जाता है। रामायण के अनुसार इसी दिन भगवान श्रीराम ने रावण का वध किया था। गुजरात के बड़ोदरा में नवरात्रि उत्सव का सबसे भव्य और सुन्दर रूप देखने को मिलता है। इसमें त्योहार के दौरान प्रतिदिन 4-5 लाख लोग गरबा खेलने/नृत्य के लिए एक ही स्थान पर इकट्ठा होते हैं। गरबा सिर्फ नृत्य के रूप में नहीं इस दिन प्रतियोगिता के रूप में भी किया जाता है। उसी प्रकार भारत के पूर्वी राज्यों जैसे पश्चिम बंगाल में जगह-जगह, दुर्गा मां के पंडाल बनाए जाते हैं जहां भक्त दर्शन के लिए पहुंचते हैं। वहां पर माता दुर्गा की पूजा करते हैं और उनसे सुख शांति की कामना करते हैं। कई जगहों पर पारंपरिक नृत्य और गीत के कार्यक्रम भी आयोजित किए जाते हैं, जहां हजारों की तादाद में लोग पहुंचते हैं। दसवें दिन पश्चिम बंगाल के लोग मां दुर्गा की मिट्टी की मूर्तियों को पानी में विसर्जित कर देते हैं। भारत के पश्चिमी राज्यों में नवरात्रि का एक अलग ही रंग दिखता है, जहां शाम के समय लोग डांडिया खेलते हैं। अगर हम आसान शब्दों में नवरात्रि के महान पर्व का उल्लेख करें तो यह एक ऐसा मुख्य त्योहार है, जो भारत के हर कोने में मनाया जाता है।

Sub questions

Question Number : 96 Question Id : 99836739522 Question Type : MCQ Option Shuffling : Yes Display Question Number : Yes  
Single Line Question Option : No Option Orientation : Vertical

Correct Marks : 1 Wrong Marks : 0.25

नवरात्रि को कौन-सा पर्व माना जाता है?

Options :

- ✅ शक्ति की उपासना का पर्व
- ❌ व्रत रखने का पर्व
- ❌ कार्यक्रम के लिए
- ❌ पंडाल को सजाने का पर्व

Question Number : 97 Question Id : 99836739523 Question Type : MCQ Option Shuffling : Yes Display Question Number : Yes  
Single Line Question Option : No Option Orientation : Vertical

Correct Marks : 1 Wrong Marks : 0.25

नवरात्रों में कौन से नृत्य की प्रतियोगिता भी की जाती है?

Options :

- ❌ भांगड़ा
- ✅ गरबा
- ❌ कथकली



4. ✖ पंथी नृत्य

Question Number : 98 Question Id : 99836739524 Question Type : MCQ Option Shuffling : Yes Display Question Number : Yes  
Single Line Question Option : No Option Orientation : Vertical

Correct Marks : 1 Wrong Marks : 0.25

नवरात्रि के आखिरी दिन कौन-सा उत्सव मनाया जाता है?

Options :

1. ✖ गांधी जयंती
2. ✖ दिवाली
3. ✖ होली
4. ✔ विजयादशमी

Question Number : 99 Question Id : 99836739525 Question Type : MCQ Option Shuffling : Yes Display Question Number : Yes  
Single Line Question Option : No Option Orientation : Vertical

Correct Marks : 1 Wrong Marks : 0.25

किन राज्यों में दुर्गा माँ की पूजा के लिए पंडाल भी बनाए जाते हैं?

Options :

1. ✖ बिहार
2. ✖ हिमाचल प्रदेश
3. ✔ पश्चिम बंगाल
4. ✖ छत्तीसगढ़

Question Number : 100 Question Id : 99836739526 Question Type : MCQ Option Shuffling : Yes Display Question Number : Yes  
Single Line Question Option : No Option Orientation : Vertical

Correct Marks : 1 Wrong Marks : 0.25

उपर्युक्त गद्यांश का उपयुक्त शीर्षक क्या होगा?

Options :

1. ✖ नृत्य पर्व
2. ✔ नवरात्रि पर्व
3. ✖ दशहरा पर्व
4. ✖ प्रतियोगिता कार्यक्रम पर्व

Discipline1

Group Number :	6
Group Id :	9983671226
Group Maximum Duration :	0
Group Minimum Duration :	0
Revisit allowed for view? :	No
Revisit allowed for edit? :	No
Break time:	0
Group Marks:	20
Revisit allowed for group Instructions? :	Yes
Maximum Instruction Time:	0
Minimum Instruction Time:	0

Discipline1

Section Id : 9983671625

Section Number :	1
Section type :	Online
Mandatory or Optional:	Mandatory
Number of Questions:	20
Number of Questions to be attempted:	20
Section Marks:	20
Display Number Panel:	Yes
Group All Questions:	No

Sub-Section Number:	1
Sub-Section Id:	9983672023
Question Shuffling Allowed :	Yes

Question Number : 101 Question Id : 99836739527 Question Type : MCQ Option Shuffling : Yes Display Question Number : Yes  
Single Line Question Option : No Option Orientation : Vertical

Correct Marks : 1 Wrong Marks : 0.25

Which of the following is NOT a general characteristic of an extrovert according to Carl Jung?

Options :

- ✓ Inclined to worry
- ✗ Interested in athletics
- ✗ Flexible and adaptable
- ✗ Likes to work with others

Question Number : 101 Question Id : 99836739527 Question Type : MCQ Option Shuffling : Yes Display Question Number : Yes  
Single Line Question Option : No Option Orientation : Vertical

Correct Marks : 1 Wrong Marks : 0.25

कार्ल जंग के अनुसार निम्नलिखित में से कौन सी एक बहिर्मुखी की सामान्य विशेषता नहीं है?

Options :

- ✓ चिंता की ओर झुकाव
- ✗ एथलेटिक्स में रुचि
- ✗ लचीला और अनुकूलनीय
- ✗ दूसरों के साथ काम करना पसंद करना

Question Number : 102 Question Id : 99836739528 Question Type : MCQ Option Shuffling : Yes Display Question Number : Yes  
Single Line Question Option : No Option Orientation : Vertical

Correct Marks : 1 Wrong Marks : 0.25

Which of the following can be defined as the ability to raise many questions out of curiosity?

Options :

- ✗ Originality
- ✗ Critical thinking
- ✓ Inquisitiveness
- ✗ Elaboration

Question Number : 102 Question Id : 99836739528 Question Type : MCQ Option Shuffling : Yes Display Question Number : Yes  
Single Line Question Option : No Option Orientation : Vertical

Correct Marks : 1 Wrong Marks : 0.25

निम्नलिखित में से किसे जिज्ञासा से कई प्रश्न उठाने की क्षमता के रूप में परिभाषित किया जा सकता है?

Options :

- ✗ मौलिकता

2. ✖ आलोचनात्मक चिंतन
3. ✔ अन्वेषणशीलता
4. ✖ विवर्धन

Question Number : 103 Question Id : 99836739529 Question Type : MCQ Option Shuffling : Yes Display Question Number : Yes  
Single Line Question Option : No Option Orientation : Vertical

Correct Marks : 1 Wrong Marks : 0.25

Which of the following is NOT a sub-test of 'Passi test of creativity' under testing techniques in assessment of creativity?

Options :

1. ✔ Flexibility test
2. ✖ Unusual uses test
3. ✖ Elaboration test
4. ✖ Consequences test

Question Number : 103 Question Id : 99836739529 Question Type : MCQ Option Shuffling : Yes Display Question Number : Yes  
Single Line Question Option : No Option Orientation : Vertical

Correct Marks : 1 Wrong Marks : 0.25

निम्नलिखित में से कौन रचनात्मकता के मूल्यांकन में परीक्षण तकनीकों के तहत 'रचनात्मकता के परस्सी टेस्ट (परस्सी टेस्ट ऑफ़ क्रिएटिविटी)' की उप-परीक्षा नहीं है?

Options :

1. ✔ फ्लेक्सिबिलिटी टेस्ट
2. ✖ अन्युसुअल यूसेस टेस्ट
3. ✖ इलेबोरेशन टेस्ट
4. ✖ कॉन्सेक्वेंस एन्सेस टेस्ट

Question Number : 104 Question Id : 99836739530 Question Type : MCQ Option Shuffling : Yes Display Question Number : Yes  
Single Line Question Option : No Option Orientation : Vertical

Correct Marks : 1 Wrong Marks : 0.25

Which of the following is NOT a non - standardised test or subjective method of assessing personality?

Options :

1. ✖ Score Card
2. ✔ Graphology
3. ✖ Sociometry
4. ✖ Anecdotal Records

Question Number : 104 Question Id : 99836739530 Question Type : MCQ Option Shuffling : Yes Display Question Number : Yes  
Single Line Question Option : No Option Orientation : Vertical

Correct Marks : 1 Wrong Marks : 0.25

निम्नलिखित में से कौन सा व्यक्तित्व का मूल्यांकन करने के लिए एक गैर-मानकीकृत परीक्षण या व्यक्तिपरक विधि नहीं है?

Options :

1. ✖ स्कोर कार्ड
2. ✔ ग्राफोलॉजी
3. ✖ सोशियोमेट्री
4. ✖ अनेकडोटल रिकार्ड्स

Question Number : 105 Question Id : 99836739531 Question Type : MCQ Option Shuffling : Yes Display Question Number : Yes  
Single Line Question Option : No Option Orientation : Vertical

Correct Marks : 1 Wrong Marks : 0.25

Which of the following is NOT one of the twelve basic traits according to the 'trait theory'?

Options :

1. ✖ Surgency
2. ✖ Parancis
3. ✖ Boorishness
4. ✔ Insensitivity

Question Number : 105 Question Id : 99836739531 Question Type : MCQ Option Shuffling : Yes Display Question Number : Yes  
Single Line Question Option : No Option Orientation : Vertical

Correct Marks : 1 Wrong Marks : 0.25

निम्नलिखित में से कौन सा 'गुण सिद्धांत' के अनुसार बारह मूल गुण में से एक नहीं है?

Options :

1. ✖ उद्वेलन
2. ✖ सर्विभ्रम; पागलपन
3. ✖ अशिष्टता
4. ✔ असंवेदनशीलता

Question Number : 106 Question Id : 99836739532 Question Type : MCQ Option Shuffling : Yes Display Question Number : Yes  
Single Line Question Option : No Option Orientation : Vertical

Correct Marks : 1 Wrong Marks : 0.25

Which of the following is NOT one of the four principles of 'Ideation stage' according to Brainstorming technique?

Options :

1. ✖ Free wheeling is emphasised
2. ✖ Criticism is avoided
3. ✖ Hitchhiking is allowed
4. ✔ Creative situations are developed

Question Number : 106 Question Id : 99836739532 Question Type : MCQ Option Shuffling : Yes Display Question Number : Yes  
Single Line Question Option : No Option Orientation : Vertical

Correct Marks : 1 Wrong Marks : 0.25

ब्रेनस्टोर्मिंग तकनीक के अनुसार निम्नलिखित में से कौन सा 'प्रत्ययन अवस्था' के चार सिद्धांतों में से एक नहीं है?

Options :

1. ✖ मुक्त रूप से विह्वल होने पर बल
2. ✖ आलोचना से बचा जाता है
3. ✖ लिफ्ट लेने (हिचहाइकिंग) की अनुमति है
4. ✔ रचनात्मक स्थितियों का विकास होता है

Question Number : 107 Question Id : 99836739533 Question Type : MCQ Option Shuffling : Yes Display Question Number : Yes  
Single Line Question Option : No Option Orientation : Vertical

Correct Marks : 1 Wrong Marks : 0.25

Which of the following elements given by Carl Jung can be described as primitive in nature and is the reservoir from which all other systems emerge?

Options :

1. ✖ The conscious ego
2. ✖ The personal unconscious
3. ✔ The collective unconscious
4. ✖ The unconscious ego

Question Number : 107 Question Id : 99836739533 Question Type : MCQ Option Shuffling : Yes Display Question Number : Yes  
Single Line Question Option : No Option Orientation : Vertical

Correct Marks : 1 Wrong Marks : 0.25

कार्ल जंग द्वारा दिए गए निम्नलिखित तत्वों में से कौन सा प्रकृति में आदिम के रूप में वर्णित किया जा सकता है और वह स्तोत्र है जिसमें से अन्य सभी प्रणालियाँ निकलती हैं?

Options :

1. ✖ चेतन अहंकार
2. ✖ व्यक्तिगत अचेतन
3. ✔ सामूहिक अचेतन
4. ✖ अचेतन अहंकार

Question Number : 108 Question Id : 99836739534 Question Type : MCQ Option Shuffling : Yes Display Question Number : Yes  
Single Line Question Option : No Option Orientation : Vertical

Correct Marks : 1 Wrong Marks : 0.25

Which of the following statements is/are associated with environment of the child in the womb of the mother?

- I. The quality and quantity of nutrition received by the embryo within the womb of the mother
- II. Any damage or accident to the baby in the womb
- III. Single child or multiple children getting nourished in the womb

Options :

1. ✖ Both I and II
2. ✖ Both II and III
3. ✖ Both I and III
4. ✔ I, II and III

Question Number : 108 Question Id : 99836739534 Question Type : MCQ Option Shuffling : Yes Display Question Number : Yes  
Single Line Question Option : No Option Orientation : Vertical

Correct Marks : 1 Wrong Marks : 0.25

निम्नलिखित में से कौन सा/से कथन माँ के गर्भ में बच्चे के पर्यावरण से जुड़ा हुआ/जुड़े हुए है/हैं?

- I. माँ के गर्भ के भीतर भ्रूण को प्राप्त पोषण की गुणवत्ता और मात्रा
- II. गर्भ में बच्चे को कोई क्षति या दुर्घटना
- III. एकल बच्चा या कई बच्चे गर्भ में पाले जा रहे हों

Options :

1. ✖ I तथा II दोनों
2. ✖ II तथा III दोनों
3. ✖ I तथा III दोनों
4. ✔ I, II तथा III

Question Number : 109 Question Id : 99836739535 Question Type : MCQ Option Shuffling : Yes Display Question Number : Yes  
Single Line Question Option : No Option Orientation : Vertical

Correct Marks : 1 Wrong Marks : 0.25

Cumulative Record Card can be categorized under which of the following types of methods of assessing personality?

Options :

1. ✔ Non-standardised tests or subjective method
2. ✖ Standardised tests or objective method
3. ✖ Projective techniques
4. ✖ Directive techniques

Question Number : 109 Question Id : 99836739535 Question Type : MCQ Option Shuffling : Yes Display Question Number : Yes  
Single Line Question Option : No Option Orientation : Vertical

Correct Marks : 1 Wrong Marks : 0.25

संचयी रिकॉर्ड कार्ड को व्यक्तित्व के मूल्यांकन के निम्नलिखित प्रकारों में से किसके अंतर्गत वर्गीकृत किया जा सकता है?

Options :

1. ✓ गैर-मानकीकृत परीक्षण या व्यक्तिपरक विधि
2. ✗ मानकीकृत परीक्षण या उद्देश्य विधि
3. ✗ प्रक्षेपीय तकनीक
4. ✗ निर्देशात्मक तकनीक

Question Number : 110 Question Id : 99836739536 Question Type : MCQ Option Shuffling : Yes Display Question Number : Yes  
Single Line Question Option : No Option Orientation : Vertical

Correct Marks : 1 Wrong Marks : 0.25

In Indian education system, which of the following types of children are at risk for exclusion?

I. Children with disabilities

II. Girl child

Options :

1. ✗ Only I
2. ✗ Only II
3. ✓ Both I and II
4. ✗ Neither I nor II

Question Number : 110 Question Id : 99836739536 Question Type : MCQ Option Shuffling : Yes Display Question Number : Yes  
Single Line Question Option : No Option Orientation : Vertical

Correct Marks : 1 Wrong Marks : 0.25

भारतीय शिक्षा प्रणाली में बहिष्कार के लिए निम्नलिखित में से किस प्रकार के बच्चे जोखिम में हैं?

I. विकलांग बच्चे

II. बालिका

Options :

1. ✗ केवल I
2. ✗ केवल II
3. ✓ I तथा II दोनों
4. ✗ ना ही I ना ही II

Question Number : 111 Question Id : 99836739537 Question Type : MCQ Option Shuffling : Yes Display Question Number : Yes  
Single Line Question Option : No Option Orientation : Vertical

Correct Marks : 1 Wrong Marks : 0.25

\_\_\_\_\_ is a set of actions of an individual.

Options :

1. ✗ Values
2. ✓ Role
3. ✗ Status
4. ✗ Norms

Question Number : 111 Question Id : 99836739537 Question Type : MCQ Option Shuffling : Yes Display Question Number : Yes  
Single Line Question Option : No Option Orientation : Vertical

Correct Marks : 1 Wrong Marks : 0.25

\_\_\_\_\_ एक व्यक्ति की क्रियाओं का एक समुच्चय है।

Options :

1. ✖ मूल्य
2. ✔ भूमिका
3. ✖ स्थिति
4. ✖ मानदण्ड

Question Number : 112 Question Id : 99836739538 Question Type : MCQ Option Shuffling : Yes Display Question Number : Yes  
Single Line Question Option : No Option Orientation : Vertical

Correct Marks : 1 Wrong Marks : 0.25

Which of the following are the major socializing agencies?

I. Community II. Family III. Peer group IV. Formal educational institution

Options :

1. ✖ I, II and III
2. ✖ II, III and IV
3. ✖ I, III and IV
4. ✔ I, II, III and IV

Question Number : 112 Question Id : 99836739538 Question Type : MCQ Option Shuffling : Yes Display Question Number : Yes  
Single Line Question Option : No Option Orientation : Vertical

Correct Marks : 1 Wrong Marks : 0.25

निम्नलिखित में से कौन सी प्रमुख समाजीकरण एजेंसियां हैं?

I. समुदाय II. परिवार III. समान समूह IV. औपचारिक शैक्षणिक संस्थान

Options :

1. ✖ I, II तथा III
2. ✖ II, III तथा IV
3. ✖ I, III तथा IV
4. ✔ I, II, III तथा IV

Question Number : 113 Question Id : 99836739539 Question Type : MCQ Option Shuffling : Yes Display Question Number : Yes  
Single Line Question Option : No Option Orientation : Vertical

Correct Marks : 1 Wrong Marks : 0.25

In the process of education and socialization, which of the following are transmitted to the students?

I. Social hierarchy  
II. Inherent inequality  
III. Social stratification

Options :

1. ✖ I and II
2. ✖ II and III
3. ✖ I and III
4. ✔ I, II and III

Question Number : 113 Question Id : 99836739539 Question Type : MCQ Option Shuffling : Yes Display Question Number : Yes  
Single Line Question Option : No Option Orientation : Vertical

Correct Marks : 1 Wrong Marks : 0.25

शिक्षा तथा समाजीकरण की प्रक्रिया में, निम्नलिखित में से क्या विद्यार्थियों को प्रेषित किया जाता है?

- I. सामाजिक पदानुक्रम
- II. अन्तर्निहित असमानता
- III. सामाजिक स्तरीकरण

Options :

- 1. ✖ I तथा II
- 2. ✖ II तथा III
- 3. ✖ I तथा III
- 4. ✔ I, II तथा III

Question Number : 114 Question Id : 99836739540 Question Type : MCQ Option Shuffling : Yes Display Question Number : Yes  
Single Line Question Option : No Option Orientation : Vertical

Correct Marks : 1 Wrong Marks : 0.25

Which characteristics of community influence education?

- I. Demographics
- II. Occupational patterns
- III. Customs and traditions

Options :

- 1. ✖ I and II
- 2. ✖ II and III
- 3. ✖ I and III
- 4. ✔ I, II and III

Question Number : 114 Question Id : 99836739540 Question Type : MCQ Option Shuffling : Yes Display Question Number : Yes  
Single Line Question Option : No Option Orientation : Vertical

Correct Marks : 1 Wrong Marks : 0.25

समुदाय की कौन सी विशेषताएँ शिक्षा को प्रभावित करती हैं?

- I. जनांकिक
- II. व्यावसायिक प्रतिरूप
- III. रीति रिवाज

Options :

- 1. ✖ I तथा II
- 2. ✖ II तथा III
- 3. ✖ I तथा III
- 4. ✔ I, II तथा III

Question Number : 115 Question Id : 99836739541 Question Type : MCQ Option Shuffling : Yes Display Question Number : Yes  
Single Line Question Option : No Option Orientation : Vertical

Correct Marks : 1 Wrong Marks : 0.25

Which of the following is correct according to Right of Education act 2009?

- I. Schools can charge capitation fees
- II. Schools can use screening procedure for admission

Options :

- 1. ✖ Only I
- 2. ✖ Only II
- 3. ✖ Both I and II
- 4. ✔ Neither I nor II



Question Number : 115 Question Id : 99836739541 Question Type : MCQ Option Shuffling : Yes Display Question Number : Yes  
Single Line Question Option : No Option Orientation : Vertical

Correct Marks : 1 Wrong Marks : 0.25

शिक्षा का अधिकार अधिनियम 2009 के अनुसार निम्नलिखित में से कौन सा सही है?

- I. स्कूल कैपिटेशन फीस लगा सकते हैं
- II. स्कूल प्रवेश के लिए स्क्रीनिंग प्रक्रिया का उपयोग कर सकते हैं

Options :

- 1. ✖ केवल I
- 2. ✖ केवल II
- 3. ✖ I तथा II दोनों
- 4. ✔ ना ही I ना ही II

Question Number : 116 Question Id : 99836739542 Question Type : MCQ Option Shuffling : Yes Display Question Number : Yes  
Single Line Question Option : No Option Orientation : Vertical

Correct Marks : 1 Wrong Marks : 0.25

Which article of Indian Constitution states about taking care of educational interest of scheduled castes and scheduled tribes?

Options :

- 1. ✖ 58
- 2. ✖ 12
- 3. ✖ 23
- 4. ✔ 46

Question Number : 116 Question Id : 99836739542 Question Type : MCQ Option Shuffling : Yes Display Question Number : Yes  
Single Line Question Option : No Option Orientation : Vertical

Correct Marks : 1 Wrong Marks : 0.25

भारतीय संविधान के किस अनुच्छेद में अनुसूचित जातियों और अनुसूचित जनजातियों के शैक्षिक हित का ख्याल रखा गया है?

Options :

- 1. ✖ 58
- 2. ✖ 12
- 3. ✖ 23
- 4. ✔ 46

Question Number : 117 Question Id : 99836739543 Question Type : MCQ Option Shuffling : Yes Display Question Number : Yes  
Single Line Question Option : No Option Orientation : Vertical

Correct Marks : 1 Wrong Marks : 0.25

Which of the following statement is/are correct?

- I. Negative analytic propositions are self contradictory
- II. Negative synthetic propositions are not self contradictory

Options :

- 1. ✖ Only I
- 2. ✖ Only II
- 3. ✔ Both I and II
- 4. ✖ Neither I nor II

Question Number : 117 Question Id : 99836739543 Question Type : MCQ Option Shuffling : Yes Display Question Number : Yes  
Single Line Question Option : No Option Orientation : Vertical

Correct Marks : 1 Wrong Marks : 0.25

निम्नलिखित में से कौन सा/से कथन सही है/हैं?

- I. नकारात्मक विश्लेषणात्मक प्रस्ताव विरोधाभासी होते हैं
- II. नकारात्मक संश्लेषी प्रस्ताव स्वविरोधाभासी नहीं होते हैं

Options :

- 1. ✖ केवल I
- 2. ✖ केवल II
- 3. ✔ I तथा II दोनों
- 4. ✖ ना ही I ना ही II

Question Number : 118 Question Id : 99836739544 Question Type : MCQ Option Shuffling : Yes Display Question Number : Yes  
Single Line Question Option : No Option Orientation : Vertical

Correct Marks : 1 Wrong Marks : 0.25

Which of the following is/are type(s) of curriculum?

- I. Subject Oriented
- II. Competence based

Options :

- 1. ✖ Only I
- 2. ✖ Only II
- 3. ✔ Both I and II
- 4. ✖ Neither I nor II

Question Number : 118 Question Id : 99836739544 Question Type : MCQ Option Shuffling : Yes Display Question Number : Yes  
Single Line Question Option : No Option Orientation : Vertical

Correct Marks : 1 Wrong Marks : 0.25

निम्नलिखित में से कौन सा/से पाठ्यक्रम का/के प्रकार है/हैं?

- I. विषय उन्मुख
- II. क्षमता आधारित

Options :

- 1. ✖ केवल I
- 2. ✖ केवल II
- 3. ✔ I तथा II दोनों
- 4. ✖ ना ही I ना ही II

Question Number : 119 Question Id : 99836739545 Question Type : MCQ Option Shuffling : Yes Display Question Number : Yes  
Single Line Question Option : No Option Orientation : Vertical

Correct Marks : 1 Wrong Marks : 0.25

Which of the following is correct about convictions of Rabindranath Tagore about education?

- I. Medium of instruction must be English
- II. Nature is richest source of knowledge
- III. Creative activities must play a central role in education

Options :

- 1. ✖ I and II
- 2. ✔ II and III
- 3. ✖ I and III
- 4. ✖ Only I

Question Number : 119 Question Id : 99836739545 Question Type : MCQ Option Shuffling : Yes Display Question Number : Yes  
Single Line Question Option : No Option Orientation : Vertical

Correct Marks : 1 Wrong Marks : 0.25

निम्नलिखित में से कौन सा शिक्षा के बारे में रवींद्रनाथ टैगोर के विश्वासों के बारे में सही है?

- I. निर्देश का माध्यम अंग्रेजी होना चाहिए
- II. प्रकृति ज्ञान का सबसे समृद्ध स्रोत है
- III. रचनात्मक गतिविधियों को शिक्षा में एक केंद्रीय भूमिका निभानी चाहिए

Options :

- 1. ✖ I तथा II
- 2. ✔ II तथा III
- 3. ✖ I तथा III
- 4. ✖ केवल I

Question Number : 120 Question Id : 99836739546 Question Type : MCQ Option Shuffling : Yes Display Question Number : Yes  
Single Line Question Option : No Option Orientation : Vertical

Correct Marks : 1 Wrong Marks : 0.25

Which of the following is true about education?

- I. It should encourage individual to conform to society.
- II. It encourages individual to be negatively harmonious with society.

Options :

- 1. ✖ Only I
- 2. ✖ Only II
- 3. ✖ Both I and II
- 4. ✔ Neither I nor II

Question Number : 120 Question Id : 99836739546 Question Type : MCQ Option Shuffling : Yes Display Question Number : Yes  
Single Line Question Option : No Option Orientation : Vertical

Correct Marks : 1 Wrong Marks : 0.25

शिक्षा के संदर्भ में निम्नलिखित में से कौन सा/से कथन सत्य है/हैं?

- I. इसे समाज के अनुरूप व्यक्ति को प्रोत्साहित करना चाहिए।
- II. यह व्यक्ति को समाज के साथ नकारात्मक रूप से सामंजस्य के साथ रहने के लिए प्रोत्साहित करती है।

Options :

- 1. ✖ केवल I
- 2. ✖ केवल II
- 3. ✖ I तथा II दोनों
- 4. ✔ न तो I तथा न ही II

Discipline2

Group Number :	7
Group Id :	9983671227
Group Maximum Duration :	0
Group Minimum Duration :	0
Revisit allowed for view? :	No
Revisit allowed for edit? :	No
Break time:	0
Group Marks:	20
Revisit allowed for group Instructions? :	Yes

Maximum Instruction Time: 0  
Minimum Instruction Time: 0

Discipline2

Section Id : 9983671626  
Section Number : 1  
Section type : Online  
Mandatory or Optional: Mandatory  
Number of Questions: 20  
Number of Questions to be attempted: 20  
Section Marks: 20  
Display Number Panel: Yes  
Group All Questions: No

Sub-Section Number: 1  
Sub-Section Id: 9983672024  
Question Shuffling Allowed : Yes

Question Number : 121 Question Id : 99836739547 Question Type : MCQ Option Shuffling : Yes Display Question Number : Yes  
Single Line Question Option : No Option Orientation : Vertical

Correct Marks : 1 Wrong Marks : 0.25

To study a child we have to \_\_\_\_\_.

- I. watch him play.  
II. study him in his different modes.

Options :

1. ✖ Only I  
2. ✖ Only II  
3. ✔ Both I and II  
4. ✖ Neither I nor II

Question Number : 121 Question Id : 99836739547 Question Type : MCQ Option Shuffling : Yes Display Question Number : Yes  
Single Line Question Option : No Option Orientation : Vertical

Correct Marks : 1 Wrong Marks : 0.25

एक बच्चे का अध्ययन करने के लिए हमें \_\_\_\_\_ होगा।

- I. उसे खेलते हुए देखना।  
II. उसे अलग-अलग ढंग से पढ़ाना।

Options :

1. ✖ केवल I  
2. ✖ केवल II  
3. ✔ I तथा II दोनों  
4. ✖ ना ही I ना ही II

Question Number : 122 Question Id : 99836739548 Question Type : MCQ Option Shuffling : Yes Display Question Number : Yes  
Single Line Question Option : No Option Orientation : Vertical

Correct Marks : 1 Wrong Marks : 0.25

The process of learning can be considered as \_\_\_\_\_.

- I. relatively permanent modification of behaviour
- II. relatively permanent change in personality
- III. acquisition of habits, knowledge and attitude necessary to meet the demands of life

Options :

- 1. ✖ I and II
- 2. ✖ II and III
- 3. ✖ I and III
- 4. ✔ I, II and III

Question Number : 122 Question Id : 99836739548 Question Type : MCQ Option Shuffling : Yes Display Question Number : Yes  
Single Line Question Option : No Option Orientation : Vertical

Correct Marks : 1 Wrong Marks : 0.25

अधिगम की प्रक्रिया को \_\_\_\_\_ माना जा सकता है।

- I. व्यवहार का पूर्णतया स्थायी रूपांतरण
- II. व्यक्तित्व में पूर्णतया स्थायी परिवर्तन
- III. जीवन की माँगों को पूरा करने के लिए आवश्यक आदतें, ज्ञान तथा अभिवृत्ति को ग्रहण करना

Options :

- 1. ✖ I तथा II
- 2. ✖ II तथा III
- 3. ✖ I तथा III
- 4. ✔ I, II तथा III

Question Number : 123 Question Id : 99836739549 Question Type : MCQ Option Shuffling : Yes Display Question Number : Yes  
Single Line Question Option : No Option Orientation : Vertical

Correct Marks : 1 Wrong Marks : 0.25

Which imitative behaviour is concerned with suppression of deviant behaviour of the model usually as a result of seeing the model punished for engaging in the same behaviour?

Options :

- 1. ✖ Modelling effect
- 2. ✔ Inhibitory effect
- 3. ✖ Eliciting effect
- 4. ✖ Dis-inhibitory effect

Question Number : 123 Question Id : 99836739549 Question Type : MCQ Option Shuffling : Yes Display Question Number : Yes  
Single Line Question Option : No Option Orientation : Vertical

Correct Marks : 1 Wrong Marks : 0.25

कौन सा अनुकरणीय व्यवहार, आमतौर पर समान व्यवहार में व्यस्त किसी आदर्श को दण्डित होते हुए देखने के परिणामस्वरूप आदर्श के पथ भ्रष्ट व्यवहार के प्रतिबन्ध से संबंधित है?

Options :

- 1. ✖ आदर्शीय प्रभाव
- 2. ✔ दमनात्मक प्रभाव
- 3. ✖ प्रकटीकरण प्रभाव
- 4. ✖ अदमनात्मक प्रभाव

Question Number : 124 Question Id : 99836739550 Question Type : MCQ Option Shuffling : Yes Display Question Number : Yes  
Single Line Question Option : No Option Orientation : Vertical

Correct Marks : 1 Wrong Marks : 0.25

What is the ultimate goal of learning process?

Options :

1. ✖ Self-learning
2. ✖ Self-assessment
3. ✖ To be rich and successful
4. ✔ Both self-learning and self-assessment

Question Number : 124 Question Id : 99836739550 Question Type : MCQ Option Shuffling : Yes Display Question Number : Yes  
Single Line Question Option : No Option Orientation : Vertical

Correct Marks : 1 Wrong Marks : 0.25

अधिगम प्रक्रिया का अंतिम लक्ष्य क्या है?

Options :

1. ✖ स्व-अधिगम
2. ✖ स्व-मूल्यांकन
3. ✖ अमीर तथा सफल होना
4. ✔ स्व-अधिगम तथा स्व-मूल्यांकन दोनों

Question Number : 125 Question Id : 99836739551 Question Type : MCQ Option Shuffling : Yes Display Question Number : Yes  
Single Line Question Option : No Option Orientation : Vertical

Correct Marks : 1 Wrong Marks : 0.25

What type of questions asked by a teacher are convergent questions?

Options :

1. ✖ Single correct answer question
2. ✖ Multiple correct answer question
3. ✖ Fixed correct answer question
4. ✔ Both single and fixed correct answer question

Question Number : 125 Question Id : 99836739551 Question Type : MCQ Option Shuffling : Yes Display Question Number : Yes  
Single Line Question Option : No Option Orientation : Vertical

Correct Marks : 1 Wrong Marks : 0.25

अध्यापक द्वारा पूछे गए किस प्रकार के प्रश्न अभिसारी प्रश्न हैं?

Options :

1. ✖ एक सही उत्तर वाले प्रश्न
2. ✖ अनेक सही उत्तर वाले प्रश्न
3. ✖ निश्चित उत्तर वाले प्रश्न
4. ✔ एक सही उत्तर तथा निश्चित उत्तर वाले प्रश्न दोनों

Question Number : 126 Question Id : 99836739552 Question Type : MCQ Option Shuffling : Yes Display Question Number : Yes  
Single Line Question Option : No Option Orientation : Vertical

Correct Marks : 1 Wrong Marks : 0.25

The process of habituating the child to repeat and modify elicited and emitted behaviour is called \_\_\_\_\_.

Options :

1. ✖ nurturing
2. ✔ conditioning
3. ✖ stimulism
4. ✖ learning

Question Number : 126 Question Id : 99836739552 Question Type : MCQ Option Shuffling : Yes Display Question Number : Yes  
Single Line Question Option : No Option Orientation : Vertical

Correct Marks : 1 Wrong Marks : 0.25

बच्चे के प्राप्त किए गए तथा उत्सर्जित व्यवहार को दोहराने तथा सुधारने की आदत डालने की प्रक्रिया को \_\_\_\_\_ कहा जाता है।

Options :

1. ✖ पोषण
2. ✔ अनुकूलन
3. ✖ उद्दीपन
4. ✖ अधिगम

Question Number : 127 Question Id : 99836739553 Question Type : MCQ Option Shuffling : Yes Display Question Number : Yes  
Single Line Question Option : No Option Orientation : Vertical

Correct Marks : 1 Wrong Marks : 0.25

Which of the following assumption forms the basis of constructivist learning?

- I. Knowledge is actively constructed by the student, not passively received from the environment
- II. Coming to know is a process of adaptation based on and constantly modified by student's experience of the world

Options :

1. ✖ Only I
2. ✖ Only II
3. ✔ Both I and II
4. ✖ Neither I nor II

Question Number : 127 Question Id : 99836739553 Question Type : MCQ Option Shuffling : Yes Display Question Number : Yes  
Single Line Question Option : No Option Orientation : Vertical

Correct Marks : 1 Wrong Marks : 0.25

निम्नलिखित में से कौन सा पूर्वानुमान संरचनात्मक अधिगम का आधार बनाता है?

- I. ज्ञान छात्र द्वारा सक्रिय रूप से निर्मित किया जाता है, न की पर्यावरण से निष्क्रिय रूप से प्राप्त किया जाता है
- II. जानने के लिए आना छात्र के दुनिया के अनुभव पर आधारित तथा उसके द्वारा लगातार रूपांतरित होने वाली अनुकूलन की एक प्रक्रिया है

Options :

1. ✖ केवल I
2. ✖ केवल II
3. ✔ I तथा II दोनों
4. ✖ ना ही I ना ही II

Question Number : 128 Question Id : 99836739554 Question Type : MCQ Option Shuffling : Yes Display Question Number : Yes  
Single Line Question Option : No Option Orientation : Vertical

Correct Marks : 1 Wrong Marks : 0.25

If a teacher decides to adopt competency based approach, then what must she take care of?

- I. Should use texts, media, other sources and real life materials geared to targeted competencies
- II. Allow the students to progress through the instructional program at their own pace by demonstrating the attainment of the specified competencies

Options :

1. ✖ Only I
2. ✖ Only II
3. ✔ Both I and II

4. ✖ Neither I nor II

Question Number : 128 Question Id : 99836739554 Question Type : MCQ Option Shuffling : Yes Display Question Number : Yes  
Single Line Question Option : No Option Orientation : Vertical

Correct Marks : 1 Wrong Marks : 0.25

यदि एक अध्यापक दक्षता आधारित उपागम अपनाने का फैसला करती है, तो उसे किस बात का ध्यान रखना चाहिए?

- I. लक्षित दक्षताओं के लिए ग्रंथों, मीडिया, अन्य स्रोतों तथा वास्तविक जीवन की सामग्री का उपयोग करना चाहिए
- II. निर्दिष्ट दक्षताओं की उपलब्धि के प्रदर्शन के ज़रिये अनुदेशात्मक कार्यक्रम के माध्यम से विद्यार्थियों को उनकी अपनी गति से प्रगति करने का अवसर दें

Options :

- 1. ✖ केवल I
- 2. ✖ केवल II
- 3. ✔ I तथा II दोनों
- 4. ✖ ना ही I ना ही II

Question Number : 129 Question Id : 99836739555 Question Type : MCQ Option Shuffling : Yes Display Question Number : Yes  
Single Line Question Option : No Option Orientation : Vertical

Correct Marks : 1 Wrong Marks : 0.25

Which of the following is/are the characteristic(s) of lecture method?

- I. The teacher instructs or gives lecture on a topic in the whole period
- II. Content is presented as a whole and the students learn through listening and memorization

Options :

- 1. ✖ Only I
- 2. ✖ Only II
- 3. ✔ Both I and II
- 4. ✖ Neither I nor II

Question Number : 129 Question Id : 99836739555 Question Type : MCQ Option Shuffling : Yes Display Question Number : Yes  
Single Line Question Option : No Option Orientation : Vertical

Correct Marks : 1 Wrong Marks : 0.25

निम्नलिखित में से क्या व्याख्यान विधि की विशेषता/ए है/हैं?

- I. अध्यापक संपूर्ण पीरियड में एक विषय वस्तु पर व्याख्यान या निर्देश देते हैं
- II. पाठ्यवस्तु को सम्पूर्ण रूप से प्रस्तुत किया जाता है तथा विद्यार्थी सुनकर तथा याद रखने के माध्यम से सीखते हैं

Options :

- 1. ✖ केवल I
- 2. ✖ केवल II
- 3. ✔ I तथा II दोनों
- 4. ✖ ना ही I ना ही II

Question Number : 130 Question Id : 99836739556 Question Type : MCQ Option Shuffling : Yes Display Question Number : Yes  
Single Line Question Option : No Option Orientation : Vertical

Correct Marks : 1 Wrong Marks : 0.25

What is/are the advantages of project method of teaching?

- I. Interest and motivation for the project activities are spontaneously created and no external persuasion or force is needed to attract the students towards learning.
- II. It helps the student in his/her preparation for a future life.

Options :

- 1. ✖ Only I



2. ✖ Only II
3. ✔ Both I and II
4. ✖ Neither I nor II

Question Number : 130 Question Id : 99836739556 Question Type : MCQ Option Shuffling : Yes Display Question Number : Yes  
Single Line Question Option : No Option Orientation : Vertical

Correct Marks : 1 Wrong Marks : 0.25

शिक्षण की प्रोजेक्ट विधि का/के क्या लाभ है/हैं?

- I. प्रोजेक्ट क्रियाकलापों के लिए रुचि तथा प्रेरणा स्वतः उत्पन्न किये जाते हैं तथा विद्यार्थियों को अधिगम के प्रति मोहित करने के लिए किसी बाह्य बल या अनुनय-विनय की आवश्यकता नहीं पड़ती है।
- II. यह विद्यार्थियों को उनके भविष्य के जीवन की तयारी में मदद करती है।

Options :

1. ✖ केवल I
2. ✖ केवल II
3. ✔ I तथा II दोनों
4. ✖ ना ही I ना ही II

Question Number : 131 Question Id : 99836739557 Question Type : MCQ Option Shuffling : Yes Display Question Number : Yes  
Single Line Question Option : No Option Orientation : Vertical

Correct Marks : 1 Wrong Marks : 0.25

Which type of intelligence according to the Gardener makes it possible for individuals to visualize, transform and use spatial information?

Options :

1. ✖ Linguistic
2. ✔ Visual spatial
3. ✖ Logic mathematics
4. ✖ Bodily kinaesthetic

Question Number : 131 Question Id : 99836739557 Question Type : MCQ Option Shuffling : Yes Display Question Number : Yes  
Single Line Question Option : No Option Orientation : Vertical

Correct Marks : 1 Wrong Marks : 0.25

गार्डनर के अनुसार किस प्रकार की बुद्धिमत्ता व्यक्तियों के लिए स्थानिक सूचना को उपयोग, परिवर्तित तथा दृश्यांकित करना संभव बनाती है?

Options :

1. ✖ भाषा
2. ✔ दृष्टि-स्थानिक
3. ✖ गणितीय तर्क
4. ✖ शारीरिक गतिशीलता

Question Number : 132 Question Id : 99836739558 Question Type : MCQ Option Shuffling : Yes Display Question Number : Yes  
Single Line Question Option : No Option Orientation : Vertical

Correct Marks : 1 Wrong Marks : 0.25

In which approach to learning, teachers are also co-learners with the students?

Options :

1. ✖ Learner centred approach
2. ✔ Learning centred approach
3. ✖ Cooperative learning approach
4. ✖ Collaborative learning approach

Question Number : 132 Question Id : 99836739558 Question Type : MCQ Option Shuffling : Yes Display Question Number : Yes  
Single Line Question Option : No Option Orientation : Vertical

Correct Marks : 1 Wrong Marks : 0.25

अधिगम के किस उपागम में, अध्यापक भी विद्यार्थियों के साथ सह-शिक्षार्थी होते हैं?

Options :

1. ✖ विद्यार्थी केंद्रित उपागम
2. ✔ अधिगम केंद्रित उपागम
3. ✖ सहकारी अधिगम उपागम
4. ✖ सहयोगात्मक अधिगम उपागम

Question Number : 133 Question Id : 99836739559 Question Type : MCQ Option Shuffling : Yes Display Question Number : Yes  
Single Line Question Option : No Option Orientation : Vertical

Correct Marks : 1 Wrong Marks : 0.25

Which of the following cooperative learning activities and models are used by teachers in classroom?

- I. Group investigations
- II. Jigsaw
- III. Student teams achievement divisions

Options :

1. ✖ I and II
2. ✖ II and III
3. ✖ I and III
4. ✔ I, II and III

Question Number : 133 Question Id : 99836739559 Question Type : MCQ Option Shuffling : Yes Display Question Number : Yes  
Single Line Question Option : No Option Orientation : Vertical

Correct Marks : 1 Wrong Marks : 0.25

कक्षा में अध्यापकों द्वारा निम्नलिखित में से कौन सी सहकारी अधिगम क्रियाकलापों तथा मॉडल का उपयोग किया जाता है?

- I. सामूहिक अन्वेषण
- II. जिगसॉ
- III. विद्यार्थी टीम का उपलब्धि विभाजन

Options :

1. ✖ I तथा II
2. ✖ II तथा III
3. ✖ I तथा III
4. ✔ I, II तथा III

Question Number : 134 Question Id : 99836739560 Question Type : MCQ Option Shuffling : Yes Display Question Number : Yes  
Single Line Question Option : No Option Orientation : Vertical

Correct Marks : 1 Wrong Marks : 0.25

\_\_\_\_\_ refers to methodologies and environments in which learners engage in a common task where each individual finds out and is accountable to each other.

Options :

1. ✔ Collaborative learning
2. ✖ Co-operative learning
3. ✖ Learner centred learning
4. ✖ Learning centred learning

Question Number : 134 Question Id : 99836739560 Question Type : MCQ Option Shuffling : Yes Display Question Number : Yes  
Single Line Question Option : No Option Orientation : Vertical

Correct Marks : 1 Wrong Marks : 0.25

----- विधि तथा वातावरण को संदर्भित करता है जिसमें शिक्षार्थी एक उभयनिष्ठ कार्य में संलग्न होते हैं जहां प्रत्येक विद्यार्थी अन्वेषण करता है तथा एक दूसरे के प्रति जवाबदेह होता है

Options :

1. ☒ सहयोगात्मक अधिगम
2. ☐ सहकारी अधिगम
3. ☐ शिक्षार्थी केंद्रित अधिगम
4. ☐ अधिगम केंद्रित अधिगम

Question Number : 135 Question Id : 99836739561 Question Type : MCQ Option Shuffling : Yes Display Question Number : Yes  
Single Line Question Option : No Option Orientation : Vertical

Correct Marks : 1 Wrong Marks : 0.25

----- are "tight-ship" classrooms where the teacher maintains a high degree of structure, manages routines tightly and uses very few instructional strategies.

Options :

1. ☒ Orderly restrictive learning environment
2. ☐ Orderly enabling learning environment
3. ☐ Adequate classroom environment
4. ☐ Dysfunctional classroom environment

Question Number : 135 Question Id : 99836739561 Question Type : MCQ Option Shuffling : Yes Display Question Number : Yes  
Single Line Question Option : No Option Orientation : Vertical

Correct Marks : 1 Wrong Marks : 0.25

----- "टाइट-शिप" कक्षा होती है जहां शिक्षक उच्च कोटि की संरचना बनाए रखता है, नियमों का कठोरता से पालन करता है तथा बहुत कम अनुदेशात्मक युक्तियों का उपयोग करता है।

Options :

1. ☒ व्यवस्थित नियंत्रित अधिगम वातावरण
2. ☐ व्यवस्थित मित्रवत अधिगम वातावरण
3. ☐ पर्याप्त कक्षा वातावरण
4. ☐ दृष्टिक्रिया कक्षा वातावरण

Question Number : 136 Question Id : 99836739562 Question Type : MCQ Option Shuffling : Yes Display Question Number : Yes  
Single Line Question Option : No Option Orientation : Vertical

Correct Marks : 1 Wrong Marks : 0.25

----- is the amount of time students actually work on any assigned activity like working on written assignments.

Options :

1. ☒ Engaged time
2. ☐ Classroom time
3. ☐ Activity time
4. ☐ Learning time

Question Number : 136 Question Id : 99836739562 Question Type : MCQ Option Shuffling : Yes Display Question Number : Yes  
Single Line Question Option : No Option Orientation : Vertical

Correct Marks : 1 Wrong Marks : 0.25

----- वह समय परिमाण है जब विद्यार्थी वास्तव में किसी आवंटित गतिविधि पर कार्य करता है जैसे किसी लिखित नियत कार्य पर कार्य करना

Options :

1. ☒ संलग्न समय
2. ☐ कक्षा का समय

3. ✖ क्रियाकलाप समय
4. ✖ अधिगम समय

Question Number : 137 Question Id : 99836739563 Question Type : MCQ Option Shuffling : Yes Display Question Number : Yes  
Single Line Question Option : No Option Orientation : Vertical

Correct Marks : 1 Wrong Marks : 0.25

Language can be considered as \_\_\_\_\_.

- I. as a means of communication
- II. as a pairing of grammar and a dictionary
- III. only as a knowledge to get a job

Options :

1. ✖ Only I
2. ✖ I and III
3. ✔ I and II
4. ✖ I, II and III

Question Number : 137 Question Id : 99836739563 Question Type : MCQ Option Shuffling : Yes Display Question Number : Yes  
Single Line Question Option : No Option Orientation : Vertical

Correct Marks : 1 Wrong Marks : 0.25

भाषा को \_\_\_\_\_ माना जा सकता है।

- I. संचार के साधन के रूप में
- II. व्याकरण और शब्दकोश की जोड़ी के रूप में
- III. केवल नौकरी पाने के लिए केवल ज्ञान के रूप में

Options :

1. ✖ केवल I
2. ✖ I तथा III
3. ✔ I तथा II
4. ✖ I, II तथा III

Question Number : 138 Question Id : 99836739564 Question Type : MCQ Option Shuffling : Yes Display Question Number : Yes  
Single Line Question Option : No Option Orientation : Vertical

Correct Marks : 1 Wrong Marks : 0.25

We speak differently to different persons about one subject. Such as, we do not talk to our parents about what happened in school, the same way as we speak to our friends. Which aspect of language play a part here?

Options :

1. ✖ Psychological aspect
2. ✔ Social aspect
3. ✖ Structural aspect
4. ✖ Environmental aspect

Question Number : 138 Question Id : 99836739564 Question Type : MCQ Option Shuffling : Yes Display Question Number : Yes  
Single Line Question Option : No Option Orientation : Vertical

Correct Marks : 1 Wrong Marks : 0.25

हम एक विषय के बारे में अलग-अलग व्यक्तियों से अलग-अलग बात करते हैं। जैसे, स्कूल में क्या हुआ था उस पर हम अपने माता-पिता से उस तरीके में बात नहीं करते हैं, जिस तरीके से हम अपने दोस्तों से बात करते हैं। भाषा का कौन सा पहलू यहाँ एक भूमिका निभाता है?

Options :

1. ✖ मनोवैज्ञानिक पहलू
2. ✔ सामाजिक पहलू

3. ✖ संरचनात्मक पहलू
4. ✖ पर्यावरणीय पहलू

Question Number : 139 Question Id : 99836739565 Question Type : MCQ Option Shuffling : Yes Display Question Number : Yes  
Single Line Question Option : No Option Orientation : Vertical

Correct Marks : 1 Wrong Marks : 0.25

Which of the following statements support the positive attitude in society for diversity in language?

- I. Naga people of same subgroup speak to each other in their mother tongue whereas they use Nagameez while speaking to someone outside their community.
- II. People in Goa fighting over the existence of Marathi and Konkani.
- III. Struggle between Marathi and Kannada in Belgaon.

Options :

1. ✔ Only I
2. ✖ Only III
3. ✖ Both II and III
4. ✖ Both I and II

Question Number : 139 Question Id : 99836739565 Question Type : MCQ Option Shuffling : Yes Display Question Number : Yes  
Single Line Question Option : No Option Orientation : Vertical

Correct Marks : 1 Wrong Marks : 0.25

निम्नलिखित में से कौन सा कथन भाषा में विविधता के लिए समाज में सकारात्मक दृष्टिकोण का समर्थन करता है?

- I. एक ही उपसमूह के नागा लोग अपनी मातृभाषा में एक दूसरे से बात करते हैं, जबकि वे अपने समुदाय के बाहर किसी से बात करते समय नागमेज़ का उपयोग करते हैं।
- II. गोवा में लोग मराठी और कोंकणी के अस्तित्व पर लड़ रहे हैं।
- III. बेलगाँव में मराठी और कन्नड़ के बीच संघर्ष।

Options :

1. ✔ केवल I
2. ✖ केवल III
3. ✖ II तथा III दोनों
4. ✖ I तथा II दोनों

Question Number : 140 Question Id : 99836739566 Question Type : MCQ Option Shuffling : Yes Display Question Number : Yes  
Single Line Question Option : No Option Orientation : Vertical

Correct Marks : 1 Wrong Marks : 0.25

How many steps are there in the process of counting?

Options :

1. ✖ Three
2. ✖ One
3. ✖ Four
4. ✔ Two

Question Number : 140 Question Id : 99836739566 Question Type : MCQ Option Shuffling : Yes Display Question Number : Yes  
Single Line Question Option : No Option Orientation : Vertical

Correct Marks : 1 Wrong Marks : 0.25

गिनने की प्रक्रिया में कितने चरण होते हैं?

Options :

1. ✖ तीन
2. ✖ एक

3. ✖ चार
4. ✔ दो

	Discipline3
Group Number :	8
Group Id :	9983671228
Group Maximum Duration :	0
Group Minimum Duration :	0
Revisit allowed for view? :	No
Revisit allowed for edit? :	No
Break time:	0
Group Marks:	20
Revisit allowed for group Instructions? :	Yes
Maximum Instruction Time:	0
Minimum Instruction Time:	0

	Discipline3
Section Id :	9983671627
Section Number :	1
Section type :	Online
Mandatory or Optional:	Mandatory
Number of Questions:	20
Number of Questions to be attempted:	20
Section Marks:	20
Display Number Panel:	Yes
Group All Questions:	No

Sub-Section Number:	1
Sub-Section Id:	9983672025
Question Shuffling Allowed :	Yes

Question Number : 141 Question Id : 99836739567 Question Type : MCQ Option Shuffling : Yes Display Question Number : Yes  
Single Line Question Option : No Option Orientation : Vertical

Correct Marks : 1 Wrong Marks : 0.25

\_\_\_\_\_ means utilization of available conditions and resources to the fullest extent which is never included in the school mathematics curriculum.

Options :

1. ✖ Estimation and approximation
2. ✖ Representation
3. ✖ Making connection
4. ✔ Optimization

Question Number : 141 Question Id : 99836739567 Question Type : MCQ Option Shuffling : Yes Display Question Number : Yes  
Single Line Question Option : No Option Orientation : Vertical

Correct Marks : 1 Wrong Marks : 0.25

\_\_\_\_\_ का अर्थ है उपलब्ध परिस्थितियों तथा संसाधनों का पूर्णतम उपयोग जो विद्यालय के गणित के पाठ्यक्रम में कभी शामिल नहीं किया गया है।

Options :

1. ✖ अनुमान तथा सन्निकटन
2. ✖ निरूपण
3. ✖ संबंध बनाना
4. ✔ इष्टतमीकरण

Question Number : 142 Question Id : 99836739568 Question Type : MCQ Option Shuffling : Yes Display Question Number : Yes  
Single Line Question Option : No Option Orientation : Vertical

Correct Marks : 1 Wrong Marks : 0.25

Which of the following statement defines Intuitive thinking?

- I. Learning by experimenting with concrete materials, through experiencing ideas in various concrete ways
- II. Being able to reason with ideas without needing concrete material

Options :

1. ✔ Only I
2. ✖ Only II
3. ✖ Both I and II
4. ✖ Neither I nor II

Question Number : 142 Question Id : 99836739568 Question Type : MCQ Option Shuffling : Yes Display Question Number : Yes  
Single Line Question Option : No Option Orientation : Vertical

Correct Marks : 1 Wrong Marks : 0.25

निम्नलिखित में से कौन सा कथन अन्तः प्रज्ञात्मक चिंतन को परिभाषित करता है?

- I. विभिन्न मूर्त तरीकों में विचारों के अनुभव के माध्यम से मूर्त सामग्री के साथ प्रयोग करने के द्वारा अधिगम करना
- II. मूर्त सामग्री की आवश्यकता के बिना विचारों के साथ तर्क करने के योग्य होना

Options :

1. ✔ केवल I
2. ✖ केवल II
3. ✖ I तथा II दोनों
4. ✖ ना ही I ना ही II

Question Number : 143 Question Id : 99836739569 Question Type : MCQ Option Shuffling : Yes Display Question Number : Yes  
Single Line Question Option : No Option Orientation : Vertical

Correct Marks : 1 Wrong Marks : 0.25

Which nature of mathematics deals with accuracy and exactness, and leaves no scope for doubt and ambiguity?

Options :

1. ✖ Intrinsic Interest
2. ✖ Logic
3. ✔ Precision
4. ✖ Creativity

Question Number : 143 Question Id : 99836739569 Question Type : MCQ Option Shuffling : Yes Display Question Number : Yes  
Single Line Question Option : No Option Orientation : Vertical

Correct Marks : 1 Wrong Marks : 0.25

गणित की कौन सी प्रकृति सुस्पष्टता तथा परिशुद्धता से संबंधित है, तथा संदेह तथा अस्पष्टता के लिए कोई गुंजाइश नहीं छोड़ती है?

Options :

1. ✖ आंतरिक अभिरुचि
2. ✖ तर्क

3. ✓ सटीकता
4. ✗ रचनात्मकता

Question Number : 144 Question Id : 99836739570 Question Type : MCQ Option Shuffling : Yes Display Question Number : Yes  
Single Line Question Option : No Option Orientation : Vertical

Correct Marks : 1 Wrong Marks : 0.25

Which of the following ways of learning can a teacher facilitate in the classroom situations?

- I. Manipulation of objects  
II. Placing tasks in meaningful contexts  
III. Representation in multiple ways

Options :

1. ✗ II and III
2. ✗ Only III
3. ✗ I and III
4. ✓ I, II and III

Question Number : 144 Question Id : 99836739570 Question Type : MCQ Option Shuffling : Yes Display Question Number : Yes  
Single Line Question Option : No Option Orientation : Vertical

Correct Marks : 1 Wrong Marks : 0.25

निम्नलिखित में से अधिगम का कौन सा तरीका शिक्षक कक्षा की परिस्थितियों में उपयोग कर सकता है?

- I. वस्तुओं का व्यवस्थितकरण  
II. अर्थपूर्ण स्थितियों में कार्य करना  
III. विभिन्न तरीकों से निरूपण

Options :

1. ✗ II तथा III
2. ✗ केवल III
3. ✗ I तथा III
4. ✓ I, II तथा III

Question Number : 145 Question Id : 99836739571 Question Type : MCQ Option Shuffling : Yes Display Question Number : Yes  
Single Line Question Option : No Option Orientation : Vertical

Correct Marks : 1 Wrong Marks : 0.25

Which of the following is/are the basic groups of mathematical concepts that are essential in all topics and also included in mathematics curriculum at the elementary school level?

- I. Number and operation on numbers  
II. Spatial thinking

Options :

1. ✗ Only I
2. ✗ Only II
3. ✓ Both I and II
4. ✗ Neither I nor II

Question Number : 145 Question Id : 99836739571 Question Type : MCQ Option Shuffling : Yes Display Question Number : Yes  
Single Line Question Option : No Option Orientation : Vertical

Correct Marks : 1 Wrong Marks : 0.25



निम्नलिखित में से कौन सा/से गणितीय अवधारणाओं के मूल समूह हैं जो सभी विषयों में आवश्यक हैं तथा प्राथमिक विद्यालय स्तर पर गणित के पाठ्यक्रम में भी शामिल हैं?

- I. संख्या तथा संख्याओं पर संक्रियाएँ
- II. स्थानिक चिंतन

Options :

- 1. ✖ केवल I
- 2. ✖ केवल II
- 3. ✔ I तथा II दोनों
- 4. ✖ ना ही I ना ही II

Question Number : 146 Question Id : 99836739572 Question Type : MCQ Option Shuffling : Yes Display Question Number : Yes  
Single Line Question Option : No Option Orientation : Vertical

Correct Marks : 1 Wrong Marks : 0.25

Which of the following, teaching-learning process in mathematics at the elementary level are not attractive?

- I. Emphasis on rote learning
- II. Development of understanding, application and skill are ignored

Options :

- 1. ✖ Only I
- 2. ✖ Only II
- 3. ✔ Both I and II
- 4. ✖ Neither I nor II

Question Number : 146 Question Id : 99836739572 Question Type : MCQ Option Shuffling : Yes Display Question Number : Yes  
Single Line Question Option : No Option Orientation : Vertical

Correct Marks : 1 Wrong Marks : 0.25

निम्नलिखित में से किसके कारण प्राथमिक स्तर पर गणित में शिक्षण-धिगम प्रक्रिया आकर्षक नहीं होती है?

- I. रटने पर बल दिया जाता है
- II. समझ, अनुप्रयोग तथा कौशल के विकास पर ध्यान नहीं जाता है

Options :

- 1. ✖ केवल I
- 2. ✖ केवल II
- 3. ✔ I तथा II दोनों
- 4. ✖ ना ही I ना ही II

Question Number : 147 Question Id : 99836739573 Question Type : MCQ Option Shuffling : Yes Display Question Number : Yes  
Single Line Question Option : No Option Orientation : Vertical

Correct Marks : 1 Wrong Marks : 0.25

According to George Polya, how many kinds of aims are there in mathematics for school education?

Options :

- 1. ✖ Three
- 2. ✖ Four
- 3. ✖ Five
- 4. ✔ Two

Question Number : 147 Question Id : 99836739573 Question Type : MCQ Option Shuffling : Yes Display Question Number : Yes  
Single Line Question Option : No Option Orientation : Vertical

Correct Marks : 1 Wrong Marks : 0.25

जॉर्ज पोल्या के अनुसार, विद्यालयी शिक्षा के लिए गणित में कितने प्रकार के उद्देश्य हैं?

Options :

1. ✖ तीन
2. ✖ चार
3. ✖ पाँच
4. ✔ दो

Question Number : 148 Question Id : 99836739574 Question Type : MCQ Option Shuffling : Yes Display Question Number : Yes  
Single Line Question Option : No Option Orientation : Vertical

Correct Marks : 1 Wrong Marks : 0.25

"A problem that is posed represents an outpost to be taken, a simple engagement in our conquest of the unknown." Who said this statement?

Options :

1. ✖ George Polya
2. ✔ N. J. Fine
3. ✖ Richard Skemp
4. ✖ Jean Piaget

Question Number : 148 Question Id : 99836739574 Question Type : MCQ Option Shuffling : Yes Display Question Number : Yes  
Single Line Question Option : No Option Orientation : Vertical

Correct Marks : 1 Wrong Marks : 0.25

"एक समस्या जिसे प्रस्तुत किया गया है एक चौकी को दर्शाती है जहाँ एक साधारण युद्ध के द्वारा अज्ञात को जीतने के पश्चात पहुँचना है।" यह कथन किस ने कहा था?

Options :

1. ✖ जॉर्ज पोल्या
2. ✔ एन. जे. फाइन
3. ✖ रिचर्ड स्केम्प
4. ✖ जीन पिएगेट

Question Number : 149 Question Id : 99836739575 Question Type : MCQ Option Shuffling : Yes Display Question Number : Yes  
Single Line Question Option : No Option Orientation : Vertical

Correct Marks : 1 Wrong Marks : 0.25

The logic which uses known results, definitions and rules of inference to prove something is called \_\_\_\_\_.

- I. Deductive logic
- II. Inductive logic

Options :

1. ✔ Only I
2. ✖ Only II
3. ✖ Both I and II
4. ✖ Neither I nor II

Question Number : 149 Question Id : 99836739575 Question Type : MCQ Option Shuffling : Yes Display Question Number : Yes  
Single Line Question Option : No Option Orientation : Vertical

Correct Marks : 1 Wrong Marks : 0.25

वह तर्क, जो किसी कथन की सत्यता को साबित करने के लिए ज्ञात परिणामों, परिभाषाओं तथा निष्कर्ष के नियमों का उपयोग करता है, \_\_\_\_\_ कहलाता है।

- I. निगमनिक तर्क
- II. आगमनात्मक तर्क

Options :

1. ✓ केवल I
2. ✗ केवल II
3. ✗ I तथा II दोनों
4. ✗ ना ही I ना ही II

Question Number : 150 Question Id : 99836739576 Question Type : MCQ Option Shuffling : Yes Display Question Number : Yes  
Single Line Question Option : No Option Orientation : Vertical

Correct Marks : 1 Wrong Marks : 0.25

Find the part of the given sentence that has an error in it. If there is no error, choose 'No error'.

It helped her (1) / to got rid of (2) / her superstitious belief (3) / No error (4)

Options :

1. ✗ It helped her
2. ✓ to got rid of
3. ✗ her superstitious belief
4. ✗ No error

Question Number : 150 Question Id : 99836739576 Question Type : MCQ Option Shuffling : Yes Display Question Number : Yes  
Single Line Question Option : No Option Orientation : Vertical

Correct Marks : 1 Wrong Marks : 0.25

Find the part of the given sentence that has an error in it. If there is no error, choose 'No error'.

It helped her (1) / to got rid of (2) / her superstitious belief (3) / No error (4)

Options :

1. ✗ It helped her
2. ✓ to got rid of
3. ✗ her superstitious belief
4. ✗ No error

Question Number : 151 Question Id : 99836739577 Question Type : MCQ Option Shuffling : Yes Display Question Number : Yes  
Single Line Question Option : No Option Orientation : Vertical

Correct Marks : 1 Wrong Marks : 0.25

Choose the word that is opposite in meaning to the given word.

Proficient

Options :

1. ✗ able
2. ✗ fit
3. ✓ incompetent
4. ✗ competent

Question Number : 151 Question Id : 99836739577 Question Type : MCQ Option Shuffling : Yes Display Question Number : Yes  
Single Line Question Option : No Option Orientation : Vertical

Correct Marks : 1 Wrong Marks : 0.25

Choose the word that is opposite in meaning to the given word.

Proficient

Options :

1. ✗ able
2. ✗ fit

3. ✓ incompetent

4. ✗ competent

Question Number : 152 Question Id : 99836739578 Question Type : MCQ Option Shuffling : Yes Display Question Number : Yes  
Single Line Question Option : No Option Orientation : Vertical

Correct Marks : 1 Wrong Marks : 0.25

Choose the word that is opposite in meaning to the given word.

Brutal

Options :

1. ✗ unwilling

2. ✗ sorrow

3. ✓ humane

4. ✗ rich

Question Number : 152 Question Id : 99836739578 Question Type : MCQ Option Shuffling : Yes Display Question Number : Yes  
Single Line Question Option : No Option Orientation : Vertical

Correct Marks : 1 Wrong Marks : 0.25

Choose the word that is opposite in meaning to the given word.

Brutal

Options :

1. ✗ unwilling

2. ✗ sorrow

3. ✓ humane

4. ✗ rich

Question Number : 153 Question Id : 99836739579 Question Type : MCQ Option Shuffling : Yes Display Question Number : Yes  
Single Line Question Option : No Option Orientation : Vertical

Correct Marks : 1 Wrong Marks : 0.25

Choose the word that means the same as the given word.

Active

Options :

1. ✗ slothful

2. ✗ indolent

3. ✗ lethargic

4. ✓ energetic

Question Number : 153 Question Id : 99836739579 Question Type : MCQ Option Shuffling : Yes Display Question Number : Yes  
Single Line Question Option : No Option Orientation : Vertical

Correct Marks : 1 Wrong Marks : 0.25

Choose the word that means the same as the given word.

Active

Options :

1. ✗ slothful

2. ✗ indolent

3. ✗ lethargic

4. ✓ energetic

Question Number : 154 Question Id : 99836739580 Question Type : MCQ Option Shuffling : Yes Display Question Number : Yes  
Single Line Question Option : No Option Orientation : Vertical

Correct Marks : 1 Wrong Marks : 0.25

Choose the word that can substitute the given sentence.

One who believes in one God

Options :

1. ✖ aristocracy
2. ✖ referendum
3. ✖ blaspheme
4. ✔ monotheist

Question Number : 154 Question Id : 99836739580 Question Type : MCQ Option Shuffling : Yes Display Question Number : Yes  
Single Line Question Option : No Option Orientation : Vertical

Correct Marks : 1 Wrong Marks : 0.25

Choose the word that can substitute the given sentence.

One who believes in one God

Options :

1. ✖ aristocracy
2. ✖ referendum
3. ✖ blaspheme
4. ✔ monotheist

Question Number : 155 Question Id : 99836739581 Question Type : MCQ Option Shuffling : Yes Display Question Number : Yes  
Single Line Question Option : No Option Orientation : Vertical

Correct Marks : 1 Wrong Marks : 0.25

Choose the word that can substitute the given sentence.

One who attends to the teeth

Options :

1. ✖ oculist
2. ✖ undertaker
3. ✔ dentist
4. ✖ mercer

Question Number : 155 Question Id : 99836739581 Question Type : MCQ Option Shuffling : Yes Display Question Number : Yes  
Single Line Question Option : No Option Orientation : Vertical

Correct Marks : 1 Wrong Marks : 0.25

Choose the word that can substitute the given sentence.

One who attends to the teeth

Options :

1. ✖ oculist
2. ✖ undertaker
3. ✔ dentist
4. ✖ mercer

Question Number : 156 Question Id : 99836739582 Question Type : MCQ Option Shuffling : Yes Display Question Number : Yes  
Single Line Question Option : No Option Orientation : Vertical

**Correct Marks : 1 Wrong Marks : 0.25**

In the following question, out of the given four alternatives, select the alternative which best expresses the meaning of the Idiom/Phrase.

To be all ears

**Options :**

1. ✖ transfer
2. ✖ serve as contribution for
3. ✖ escape punishment
4. ✔ to listen eagerly or curiously

**Question Number : 156 Question Id : 99836739582 Question Type : MCQ Option Shuffling : Yes Display Question Number : Yes**  
**Single Line Question Option : No Option Orientation : Vertical**

**Correct Marks : 1 Wrong Marks : 0.25**

In the following question, out of the given four alternatives, select the alternative which best expresses the meaning of the Idiom/Phrase.

To be all ears

**Options :**

1. ✖ transfer
2. ✖ serve as contribution for
3. ✖ escape punishment
4. ✔ to listen eagerly or curiously

**Question Number : 157 Question Id : 99836739583 Question Type : MCQ Option Shuffling : Yes Display Question Number : Yes**  
**Single Line Question Option : No Option Orientation : Vertical**

**Correct Marks : 1 Wrong Marks : 0.25**

A sentence has been given with a blank to be filled with an appropriate word. Choose the correct alternative.

A lot of people \_\_\_\_\_ turned up for the show.

**Options :**

1. ✖ has
2. ✖ was
3. ✖ is
4. ✔ have

**Question Number : 157 Question Id : 99836739583 Question Type : MCQ Option Shuffling : Yes Display Question Number : Yes**  
**Single Line Question Option : No Option Orientation : Vertical**

**Correct Marks : 1 Wrong Marks : 0.25**

A sentence has been given with a blank to be filled with an appropriate word. Choose the correct alternative.

A lot of people \_\_\_\_\_ turned up for the show.

**Options :**

1. ✖ has
2. ✖ was
3. ✖ is
4. ✔ have

**Question Number : 158 Question Id : 99836739584 Question Type : MCQ Option Shuffling : Yes Display Question Number : Yes**  
**Single Line Question Option : No Option Orientation : Vertical**

**Correct Marks : 1 Wrong Marks : 0.25**

Which of the following is the first stage of Kohlberg's six stages of moral development?

Options :

1. ✓ Obedience and Punishment
2. ✗ Good Interpersonal Relationships
3. ✗ Social contract and Individual rights
4. ✗ Maintaining the social order

Question Number : 158 Question Id : 99836739584 Question Type : MCQ Option Shuffling : Yes Display Question Number : Yes  
Single Line Question Option : No Option Orientation : Vertical

Correct Marks : 1 Wrong Marks : 0.25

कोहलबर्ग के नैतिक विकास के छह चरणों में से पहला चरण निम्नलिखित में से कौन सा है?

Options :

1. ✓ आज्ञाकारिता और दंड
2. ✗ अच्छे पारस्परिक संबंध
3. ✗ सामाजिक अनुबंध और व्यक्तिगत अधिकार
4. ✗ सामाजिक व्यवस्था बनाए रखना

Question Number : 159 Question Id : 99836739585 Question Type : MCQ Option Shuffling : Yes Display Question Number : Yes  
Single Line Question Option : No Option Orientation : Vertical

Correct Marks : 1 Wrong Marks : 0.25

One of the John B. Watson's major practical innovations was a method for deconditioning which of the following?

- I. Love
- II. Fear

Options :

1. ✗ Only I
2. ✓ Only II
3. ✗ Both I and II
4. ✗ Neither I nor II

Question Number : 159 Question Id : 99836739585 Question Type : MCQ Option Shuffling : Yes Display Question Number : Yes  
Single Line Question Option : No Option Orientation : Vertical

Correct Marks : 1 Wrong Marks : 0.25

जॉन बी. वॉटसन के प्रमुख व्यावहारिक नवाचारों में से एक, निम्नलिखित में से किस की डिकंडीशनिंग के लिए एक विधि थी?

- I. प्यार
- II. डर

Options :

1. ✗ केवल I
2. ✓ केवल II
3. ✗ I तथा II दोनों
4. ✗ ना ही I ना ही II

Question Number : 160 Question Id : 99836739586 Question Type : MCQ Option Shuffling : Yes Display Question Number : Yes  
Single Line Question Option : No Option Orientation : Vertical

Correct Marks : 1 Wrong Marks : 0.25

Young children approach simple or difficult tasks both with the same unbridled enthusiasm. They act as if they can remember everything. In contemporary terms, they lack \_\_\_\_\_ .

- I. metacreative awareness
- II. metacognitive awareness

Options :

- 1. ✖ Only I
- 2. ✔ Only II
- 3. ✖ Both I and II
- 4. ✖ Neither I nor II

Question Number : 160 Question Id : 99836739586 Question Type : MCQ Option Shuffling : Yes Display Question Number : Yes  
Single Line Question Option : No Option Orientation : Vertical

Correct Marks : 1 Wrong Marks : 0.25

छोटे बच्चे सरल या कठिन कार्य दोनों को समान बेलगाम उत्साह के साथ करते हैं। वे ऐसा कार्य करते हैं मानो वे सब कुछ याद कर सकते हैं। समकालीन संदर्भ में, उनके पास \_\_\_\_\_ का अभाव है।

- I. मेटाक्रिएटिव जागरूकता
- II. मेटा कोगनिटिव जागरूकता

Options :

- 1. ✖ केवल I
- 2. ✔ केवल II
- 3. ✖ I तथा II दोनों
- 4. ✖ ना ही I ना ही II

#### Discipline4

Group Number :	9
Group Id :	9983671229
Group Maximum Duration :	0
Group Minimum Duration :	0
Revisit allowed for view? :	No
Revisit allowed for edit? :	No
Break time:	0
Group Marks:	20
Revisit allowed for group Instructions? :	Yes
Maximum Instruction Time:	0
Minimum Instruction Time:	0

#### Discipline4

Section Id :	9983671628
Section Number :	1
Section type :	Online
Mandatory or Optional:	Mandatory
Number of Questions:	20
Number of Questions to be attempted:	20
Section Marks:	20
Display Number Panel:	Yes
Group All Questions:	No



Sub-Section Id:

9983672026

Question Shuffling Allowed :

Yes

Question Number : 161 Question Id : 99836739587 Question Type : MCQ Option Shuffling : Yes Display Question Number : Yes  
Single Line Question Option : No Option Orientation : Vertical

Correct Marks : 1 Wrong Marks : 0.25

Which of the following combination of Erikson's General Stage and age related to it is not correct?

Options :

1. ✖ Industry versus inferiority : Competence - 6 years to 11 years
2. ✖ Ego Integrity versus despair : Wisdom - Old age
3. ✖ Trust versus mistrust : Hope - Birth to 1 year
4. ✔ Initiative versus guilt : Purpose - Adulthood

Question Number : 161 Question Id : 99836739587 Question Type : MCQ Option Shuffling : Yes Display Question Number : Yes  
Single Line Question Option : No Option Orientation : Vertical

Correct Marks : 1 Wrong Marks : 0.25

एरिकसन के सामान्य चरण और इससे संबंधित आयु का निम्नलिखित में से कौन सा संयोजन सही नहीं है?

Options :

1. ✖ उद्योग बनाम हीनता: योग्यता - 6 वर्ष से 11 वर्ष
2. ✖ अहंकार अखंडता बनाम निराशा: बुद्धिमत्ता - वृद्धावस्था
3. ✖ विश्वास बनाम अविश्वास: आशा - जन्म से 1 वर्ष
4. ✔ पहल बनाम अपराध: उद्देश्य - वयस्कता

Question Number : 162 Question Id : 99836739588 Question Type : MCQ Option Shuffling : Yes Display Question Number : Yes  
Single Line Question Option : No Option Orientation : Vertical

Correct Marks : 1 Wrong Marks : 0.25

Which of the following is/are characteristic(s) of EVS?

- I. EVS is a composite area
- II. EVS is contextual
- III. EVS mostly concerns on theoretical ideas
- IV. EVS is learner centered

Options :

1. ✔ I, II and IV
2. ✖ I, III and IV
3. ✖ II, III and IV
4. ✖ I, II, III and IV

Question Number : 162 Question Id : 99836739588 Question Type : MCQ Option Shuffling : Yes Display Question Number : Yes  
Single Line Question Option : No Option Orientation : Vertical

Correct Marks : 1 Wrong Marks : 0.25

निम्नलिखित में से कौन सी इ. वी. एस. की विशेषता/ए है/हैं?

- I. इ. वी. एस. एक संयुक्त क्षेत्र है
- II. इ. वी. एस. प्रासंगिक है
- III. इ. वी. एस. ज्यादातर सैद्धांतिक विचारों पर ध्यान देती है
- IV. इ. वी. एस. शिक्षार्थी केंद्रित है

Options :

1. ✔ I, II तथा IV
2. ✖ I, III तथा IV
3. ✖ II, III तथा IV

4. ✖ I, II, III तथा IV

Question Number : 163 Question Id : 99836739589 Question Type : MCQ Option Shuffling : Yes Display Question Number : Yes  
Single Line Question Option : No Option Orientation : Vertical

Correct Marks : 1 Wrong Marks : 0.25

Which of the following is/are example(s) of activities which helps in making an EVS class interesting?

- I. Indulging students in dumb charades
- II. Asking the students to observe their surrounding and note the features of things associated with EVS
- III. Asking the students to copy information in their notebooks after collecting information from their EVS textbooks
- IV. Asking students to indulge in drawing

Options :

- 1. ✖ I, II and III
- 2. ✔ I, II and IV
- 3. ✖ II, III and IV
- 4. ✖ I, II, III and IV

Question Number : 163 Question Id : 99836739589 Question Type : MCQ Option Shuffling : Yes Display Question Number : Yes  
Single Line Question Option : No Option Orientation : Vertical

Correct Marks : 1 Wrong Marks : 0.25

निम्नलिखित में से कौन सा/से उन कार्यकलापों का/के उदाहरण है/हैं जो . इ. वी. एस. की कक्षा को रोचक बनाने में मदद करते हैं?

- I. छात्रों को मूक पहेली में लिप्त करना
- II. छात्रों को अपने आस-पास का प्रक्षेपण करने तथा इ. वी. एस. से जुड़ी चीजों की विशेषताओं पर ध्यान देने के लिए कहना
- III. छात्रों को इ. वी. एस. की पाठ्यपुस्तकों से जानकारी प्राप्त करके कॉपी में लिखने के लिए कहना
- IV. छात्रों को चित्रकारी में लिप्त रहने के लिए कहना

Options :

- 1. ✖ I, II तथा III
- 2. ✔ I, II तथा IV
- 3. ✖ II, III तथा IV
- 4. ✖ I, II, III तथा IV

Question Number : 164 Question Id : 99836739590 Question Type : MCQ Option Shuffling : Yes Display Question Number : Yes  
Single Line Question Option : No Option Orientation : Vertical

Correct Marks : 1 Wrong Marks : 0.25

Which of the following statements is/are correct regarding scope of teaching – learning EVS at primary stage according to National Curriculum Framework (NCF) 2005?

- I. Teaching – learning of EVS is visualised as including children's interaction with real life situations through actual engagement, reflections on day to day activities.
- II. EVS has to raise awareness and understanding of children about their environment.
- III. EVS aims to expose student to the real-life world, natural and social, in which they live.

Options :

- 1. ✔ I, II and III
- 2. ✖ Both I and II
- 3. ✖ Both II and III
- 4. ✖ Only I

Question Number : 164 Question Id : 99836739590 Question Type : MCQ Option Shuffling : Yes Display Question Number : Yes  
Single Line Question Option : No Option Orientation : Vertical

Correct Marks : 1 Wrong Marks : 0.25

राष्ट्रीय पाठ्यचर्या की रूपरेखा (एन. सी. एफ.) 2005 के अनुसार प्राथमिक चरण में ई.वी.एस. शिक्षण-अधिगम के दायरे के बारे में निम्नलिखित में से कौन सा/से कथन सही है/हैं?

- I. ई.वी.एस. के शिक्षण-अधिगम की वास्तविक जुड़ाव के माध्यम से बच्चों की वास्तविक जीवन की स्थितियों के साथ अन्तःक्रिया, दिन प्रतिदिन की गतिविधियों पर विचार के रूप में कल्पना की जाती है।
- II. ई.वी.एस. को बच्चों की उनके पर्यावरण के बारे में जागरूकता और समझ बढ़ानी होती है।
- III. ई.वी.एस. का उद्देश्य छात्र को वास्तविक जीवन की दुनिया, प्राकृतिक और सामाजिक, जिसमें वे रहते हैं, में उजागर करना है।

Options :

- 1. ✓ I, II तथा III
- 2. ✗ I तथा II दोनों
- 3. ✗ II तथा III दोनों
- 4. ✗ केवल I

Question Number : 165 Question Id : 99836739591 Question Type : MCQ Option Shuffling : Yes Display Question Number : Yes  
Single Line Question Option : No Option Orientation : Vertical

Correct Marks : 1 Wrong Marks : 0.25

Which of the following is/are tools and techniques for assessing learning in EVS?

- I. Essay Tests
- II. Performance Tests
- III. Discussions
- IV. Quizzers

Options :

- 1. ✗ I, II and III
- 2. ✗ II, III and IV
- 3. ✗ I, III and IV
- 4. ✓ I, II, III and IV

Question Number : 165 Question Id : 99836739591 Question Type : MCQ Option Shuffling : Yes Display Question Number : Yes  
Single Line Question Option : No Option Orientation : Vertical

Correct Marks : 1 Wrong Marks : 0.25

निम्नलिखित में से कौन सी तकनीक ई.वी.एस. में अधिगम का मूल्यांकन करने के लिए है/हैं?

- I. निबंध परीक्षा
- II. कार्य-निष्पादन परीक्षा
- III. विचार-विमर्श
- IV. परीक्षक

Options :

- 1. ✗ I, II तथा III
- 2. ✗ II, III तथा IV
- 3. ✗ I, III तथा IV
- 4. ✓ I, II, III तथा IV

Question Number : 166 Question Id : 99836739592 Question Type : MCQ Option Shuffling : Yes Display Question Number : Yes  
Single Line Question Option : No Option Orientation : Vertical

Correct Marks : 1 Wrong Marks : 0.25

Which of the following are merits of Project method as a teaching - learning method of EVS?

- I. The experience is real life based and hence lasts longer with the learners.
- II. It is democratic and scientific in nature.
- III. This method provides challenging yet encouraging learning environment.

Options :

- 1. ✗ Both I and II

2. ✖ Both II and III
3. ✖ Both I and III
4. ✔ I, II and III

Question Number : 166 Question Id : 99836739592 Question Type : MCQ Option Shuffling : Yes Display Question Number : Yes  
Single Line Question Option : No Option Orientation : Vertical

Correct Marks : 1 Wrong Marks : 0.25

निम्नलिखित में से कौन से ई. वी. एस. के शिक्षण-अधिगम पद्धति के रूप में परियोजना पद्धति के गुण है?

- I. अनुभव वास्तविक जीवन पर आधारित है तथा इसलिए शिक्षार्थियों के साथ अधिक समय तक रहता है।  
II. यह प्रकृति में प्रजातंत्रवादी तथा विज्ञान सम्बन्धी है।  
III. यह तरीका चुनौतीपूर्ण जरूर है लेकिन सीखने का प्रोत्साहित वातावरण प्रदान करता है।

Options :

1. ✖ I तथा II दोनों
2. ✖ II तथा III दोनों
3. ✖ I तथा III दोनों
4. ✔ I, II तथा III

Question Number : 167 Question Id : 99836739593 Question Type : MCQ Option Shuffling : Yes Display Question Number : Yes  
Single Line Question Option : No Option Orientation : Vertical

Correct Marks : 1 Wrong Marks : 0.25

Which of the following approach is based on letters and sounds?

Options :

1. ✔ Phonics
2. ✖ Whole sentence reading
3. ✖ Look and say
4. ✖ Language experience approach

Question Number : 167 Question Id : 99836739593 Question Type : MCQ Option Shuffling : Yes Display Question Number : Yes  
Single Line Question Option : No Option Orientation : Vertical

Correct Marks : 1 Wrong Marks : 0.25

निम्नलिखित में से कौन सा उपागम अक्षरों और ध्वनियों पर आधारित है?

Options :

1. ✔ फोनिक्स
2. ✖ पूरा वाक्य पढ़ने
3. ✖ देखने तथा कहने
4. ✖ भाषा अनुभव उपागम

Question Number : 168 Question Id : 99836739594 Question Type : MCQ Option Shuffling : Yes Display Question Number : Yes  
Single Line Question Option : No Option Orientation : Vertical

Correct Marks : 1 Wrong Marks : 0.25

Which of the following can be the tools of the trade?

- I. Paper dolls  
II. Puppets  
III. Picture cards

Options :

1. ✖ Only I
2. ✖ II and III
3. ✖ Only II

4. ✓ I, II and III

Question Number : 168 Question Id : 99836739594 Question Type : MCQ Option Shuffling : Yes Display Question Number : Yes  
Single Line Question Option : No Option Orientation : Vertical

Correct Marks : 1 Wrong Marks : 0.25

निम्नलिखित में से कौन सा/से व्यापार का/के उपकरण हो सकता/सकते हैं/हैं?

- I. कागज़ वाली गुड़िया
- II. कठपुतलियाँ
- III. पिक्चर कार्ड

Options :

- 1. ✗ केवल I
- 2. ✗ II तथा III
- 3. ✗ केवल II
- 4. ✓ I, II तथा III

Question Number : 169 Question Id : 99836739595 Question Type : MCQ Option Shuffling : Yes Display Question Number : Yes  
Single Line Question Option : No Option Orientation : Vertical

Correct Marks : 1 Wrong Marks : 0.25

What does NBT stand for?

Options :

- 1. ✓ National Book Trust
- 2. ✗ National Balance Trust
- 3. ✗ Non Balance Trust
- 4. ✗ National Biography Trust

Question Number : 169 Question Id : 99836739595 Question Type : MCQ Option Shuffling : Yes Display Question Number : Yes  
Single Line Question Option : No Option Orientation : Vertical

Correct Marks : 1 Wrong Marks : 0.25

एन बी टी का असंक्षिप्त रूप क्या है?

Options :

- 1. ✓ नेशनल बुक ट्रस्ट
- 2. ✗ नेशनल बैलेंस ट्रस्ट
- 3. ✗ नॉन बैलेंस ट्रस्ट
- 4. ✗ नेशनल बायोग्राफी ट्रस्ट

Question Number : 170 Question Id : 99836739596 Question Type : MCQ Option Shuffling : Yes Display Question Number : Yes  
Single Line Question Option : No Option Orientation : Vertical

Correct Marks : 1 Wrong Marks : 0.25

Which of the following statements is/are true?

- I. Language/content comes under cultural aspect.
- II. Global issues falls under psychological aspect.

Options :

- 1. ✓ Only I
- 2. ✗ Only II
- 3. ✗ Both I and II
- 4. ✗ Neither I nor II

Question Number : 170 Question Id : 99836739596 Question Type : MCQ Option Shuffling : Yes Display Question Number : Yes  
Single Line Question Option : No Option Orientation : Vertical

Correct Marks : 1 Wrong Marks : 0.25

निम्नलिखित में से कौन सा/से कथन सही है/हैं?

- I. भाषा/विषयवस्तु सांस्कृतिक पहलू के अंतर्गत आते हैं।
- II. वैश्विक मुद्दे मनोवैज्ञानिक पहलू के अंतर्गत आते हैं।

Options :

- 1. ✓ केवल I
- 2. ✗ केवल II
- 3. ✗ I तथा II दोनों
- 4. ✗ न ही I और न ही II

Question Number : 171 Question Id : 99836739597 Question Type : MCQ Option Shuffling : Yes Display Question Number : Yes  
Single Line Question Option : No Option Orientation : Vertical

Correct Marks : 1 Wrong Marks : 0.25

Which of the following is a way to improve storytelling skills?

- I. Familiarise physically with the book and illustrations.
- II. Read the story well to know the content well and the meaning of any new words.

Options :

- 1. ✗ Only I
- 2. ✗ Only II
- 3. ✓ Both I and II
- 4. ✗ Neither I nor II

Question Number : 171 Question Id : 99836739597 Question Type : MCQ Option Shuffling : Yes Display Question Number : Yes  
Single Line Question Option : No Option Orientation : Vertical

Correct Marks : 1 Wrong Marks : 0.25

निम्नलिखित में से कौन सा कहानी सुनाने के कौशल में सुधार करने का एक तरीका है?

- I. पुस्तक तथा उदाहरणों (व्याख्या) के साथ भौतिक रूप से परिचित होना।
- II. विषयवस्तु को अच्छी तरह से जानने के लिए तथा किसी नए शब्द का अर्थ जानने के लिए कहानी को अच्छी तरह से पढ़ें।

Options :

- 1. ✗ केवल I
- 2. ✗ केवल II
- 3. ✓ I तथा II दोनों
- 4. ✗ न ही I और न ही II

Question Number : 172 Question Id : 99836739598 Question Type : MCQ Option Shuffling : Yes Display Question Number : Yes  
Single Line Question Option : No Option Orientation : Vertical

Correct Marks : 1 Wrong Marks : 0.25

What areas are observed in listening while making an observation sheet?

Options :

- 1. ✓ Infers meaning
- 2. ✗ How a student's hands are kept while the story is read aloud.
- 3. ✗ Pronounces intelligibly
- 4. ✗ Usage of classroom language

Question Number : 172 Question Id : 99836739598 Question Type : MCQ Option Shuffling : Yes Display Question Number : Yes  
Single Line Question Option : No Option Orientation : Vertical

Correct Marks : 1 Wrong Marks : 0.25

एक ऑब्जरवेशन शीट बनाते समय, श्रवण करने में किन क्षेत्रों को प्रेक्षित किया जाता है?

Options :

1. ✓ अर्थ को साबित करना
2. ✗ कहानी को जोर से पढ़ने के दौरान एक छात्र का हाथ कैसे रखा जाता है
3. ✗ बुद्धिमानी से उच्चारण करना
4. ✗ कक्षा की भाषा का उपयोग

Question Number : 173 Question Id : 99836739599 Question Type : MCQ Option Shuffling : Yes Display Question Number : Yes  
Single Line Question Option : No Option Orientation : Vertical

Correct Marks : 1 Wrong Marks : 0.25

What are the various tasks that listeners complete while listening?

- I. Listen and perform actions
- II. Listen and draw/colour

Options :

1. ✗ Only I
2. ✗ Only II
3. ✓ Both I and II
4. ✗ Neither I nor II

Question Number : 173 Question Id : 99836739599 Question Type : MCQ Option Shuffling : Yes Display Question Number : Yes  
Single Line Question Option : No Option Orientation : Vertical

Correct Marks : 1 Wrong Marks : 0.25

श्रवण करते समय श्रोता कौन-कौन से विभिन्न कार्य पुरे करते है?

- I. सुनते है तथा क्रिया करते है
- II. सुनते है तथा चित्र बनाते / रंग भरते है

Options :

1. ✗ केवल I
2. ✗ केवल II
3. ✓ I तथा II दोनों
4. ✗ न ही I और न ही II

Question Number : 174 Question Id : 99836739600 Question Type : MCQ Option Shuffling : Yes Display Question Number : Yes  
Single Line Question Option : No Option Orientation : Vertical

Correct Marks : 1 Wrong Marks : 0.25

What does 'Reading a clock face to tell the time' mean?

Options :

1. ✗ Learning to recognise words and match words that rhyme
2. ✗ Learning to recognise the written form of words and their meaning
3. ✓ Reinforcing mathematical concepts of telling the time
4. ✗ Reading sentences aloud using the appropriate stress and notation

Question Number : 174 Question Id : 99836739600 Question Type : MCQ Option Shuffling : Yes Display Question Number : Yes  
Single Line Question Option : No Option Orientation : Vertical

Correct Marks : 1 Wrong Marks : 0.25

समय बताने के लिए एक घड़ी के चेहरे को पढ़ने से क्या मतलब है?

Options :

1. ✗ शब्दों को पहचानना सीखना तथा जो शब्द तुकबंदी करते है का मेल कराना

2. ✖ शब्दों के लिखित रूप और उनके अर्थ को पहचानना सीखना
3. ✔ समय बताने की गणितीय अवधारणाओं को फिर से लागू करना
4. ✖ उचित तनाव तथा लय का उपयोग करके वाक्यों को ऊँची आवाज़ में पढ़ना

Question Number : 175 Question Id : 99836739601 Question Type : MCQ Option Shuffling : Yes Display Question Number : Yes  
Single Line Question Option : No Option Orientation : Vertical

Correct Marks : 1 Wrong Marks : 0.25

Groups of learning strategies that are more task-specific are called \_\_\_\_\_.

Options :

1. ✖ Metacognitive
2. ✔ Cognitive
3. ✖ Positive attitude
4. ✖ Drafting

Question Number : 175 Question Id : 99836739601 Question Type : MCQ Option Shuffling : Yes Display Question Number : Yes  
Single Line Question Option : No Option Orientation : Vertical

Correct Marks : 1 Wrong Marks : 0.25

सीखने की रणनीतियाँ, जो अधिक कार्य-विशिष्ट हैं, के समूहों को \_\_\_\_\_ कहा जाता है।

Options :

1. ✖ मेटाकोगनिटिव
2. ✔ संज्ञानात्मक
3. ✖ सकारात्मक अभिवृत्ति
4. ✖ आलेखन (ड्राफ्टिंग)

Question Number : 176 Question Id : 99836739602 Question Type : MCQ Option Shuffling : Yes Display Question Number : Yes  
Single Line Question Option : No Option Orientation : Vertical

Correct Marks : 1 Wrong Marks : 0.25

Which of the following is a role that a teacher has to play?

- I. Behavioural role
- II. Procedural role

Options :

1. ✖ Only I
2. ✖ Only II
3. ✔ Both I and II
4. ✖ Neither I nor II

Question Number : 176 Question Id : 99836739602 Question Type : MCQ Option Shuffling : Yes Display Question Number : Yes  
Single Line Question Option : No Option Orientation : Vertical

Correct Marks : 1 Wrong Marks : 0.25

एक शिक्षक को निम्नलिखित में से कौन सी एक भूमिका निभानी होती है?

- I. व्यवहारिक भूमिका
- II. प्रक्रियात्मक भूमिका

Options :

1. ✖ केवल I
2. ✖ केवल II
3. ✔ I तथा II दोनों
4. ✖ न ही I और न ही II



Question Number : 177 Question Id : 99836739603 Question Type : MCQ Option Shuffling : Yes Display Question Number : Yes  
Single Line Question Option : No Option Orientation : Vertical

Correct Marks : 1 Wrong Marks : 0.25

Which of the following is a visual support?

- I. Puppets
- II. Flashcards and games

Options :

- 1. ✖ Only I
- 2. ✖ Only II
- 3. ✔ Both I and II
- 4. ✖ Neither I nor II

Question Number : 177 Question Id : 99836739603 Question Type : MCQ Option Shuffling : Yes Display Question Number : Yes  
Single Line Question Option : No Option Orientation : Vertical

Correct Marks : 1 Wrong Marks : 0.25

निम्नलिखित में से कौन सा एक दृश्य समर्थन है?

- I. कठपुतलियाँ
- II. फ़्लैशकार्ड तथा खेल

Options :

- 1. ✖ केवल I
- 2. ✖ केवल II
- 3. ✔ I तथा II दोनों
- 4. ✖ न ही I और न ही II

Question Number : 178 Question Id : 99836739604 Question Type : MCQ Option Shuffling : Yes Display Question Number : Yes  
Single Line Question Option : No Option Orientation : Vertical

Correct Marks : 1 Wrong Marks : 0.25

What do you mean by authoring programmes?

Options :

- 1. ✔ A programme that allows the teacher to create his/her own exercise
- 2. ✖ Allows pupils to practice their writing skills and take pride in the presentation of their work
- 3. ✖ To research topics for project work arising out of story-based lessons
- 4. ✖ Environment where all children are welcome, and help each other etc.

Question Number : 178 Question Id : 99836739604 Question Type : MCQ Option Shuffling : Yes Display Question Number : Yes  
Single Line Question Option : No Option Orientation : Vertical

Correct Marks : 1 Wrong Marks : 0.25

संलेखन प्रोग्राम से आपका क्या अभिप्राय है?

Options :

- 1. ✔ एक प्रोग्राम जो शिक्षक को अपना खुद का अभ्यास बनाने की अनुमति देता है
- 2. ✖ विद्यार्थियों को अपने लेखन कौशल का अभ्यास करने और अपने काम की प्रस्तुति पर गर्व करने की अनुमति देता है
- 3. ✖ कहानी-आधारित पाठों से उत्पन्न होने वाले प्रोजेक्ट कार्य के लिए विषयो पर शोध
- 4. ✖ पर्यावरण जहाँ सभी बच्चों का स्वागत है, और एक दूसरे की मदद करते हैं आदि

Question Number : 179 Question Id : 99836739605 Question Type : MCQ Option Shuffling : Yes Display Question Number : Yes  
Single Line Question Option : No Option Orientation : Vertical

Correct Marks : 1 Wrong Marks : 0.25

'Explain the purpose of the task' comes under which stage of productive computer session?

Options :

1. ✓ Stage 1
2. ✗ Stage 2
3. ✗ Stage 3
4. ✗ Stage 4

Question Number : 179 Question Id : 99836739605 Question Type : MCQ Option Shuffling : Yes Display Question Number : Yes  
Single Line Question Option : No Option Orientation : Vertical

Correct Marks : 1 Wrong Marks : 0.25

कार्य का उद्देश्य स्पष्ट करना उपयोगी कंप्यूटर सत्र के किस चरण के अंतर्गत आता है?

Options :

1. ✓ चरण 1
2. ✗ चरण 2
3. ✗ चरण 3
4. ✗ चरण 4

Question Number : 180 Question Id : 99836739606 Question Type : MCQ Option Shuffling : Yes Display Question Number : Yes  
Single Line Question Option : No Option Orientation : Vertical

Correct Marks : 1 Wrong Marks : 0.25

Which skill is focused in 'sorting'?

Options :

1. ✗ Listening
2. ✗ Drawing
3. ✗ Singing
4. ✓ Developing vocabulary

Question Number : 180 Question Id : 99836739606 Question Type : MCQ Option Shuffling : Yes Display Question Number : Yes  
Single Line Question Option : No Option Orientation : Vertical

Correct Marks : 1 Wrong Marks : 0.25

निम्नलिखित में से कौन से कौशल पर 'सॉर्टिंग' में ध्यान केंद्रित किया जाता है?

Options :

1. ✗ श्रवण करना
2. ✗ चित्रकारी
3. ✗ गायन
4. ✓ शब्दावली का विकास करने

Discipline5

Group Number :	10
Group Id :	9983671230
Group Maximum Duration :	0
Group Minimum Duration :	120
Revisit allowed for view? :	No
Revisit allowed for edit? :	No
Break time:	0
Group Marks:	20
Revisit allowed for group Instructions? :	Yes
Maximum Instruction Time:	0

Minimum Instruction Time:

0

Discipline5

Section Id :	9983671629
Section Number :	1
Section type :	Online
Mandatory or Optional:	Mandatory
Number of Questions:	20
Number of Questions to be attempted:	20
Section Marks:	20
Display Number Panel:	Yes
Group All Questions:	No

Sub-Section Number:	1
Sub-Section Id:	9983672027
Question Shuffling Allowed :	Yes

Question Number : 181 Question Id : 99836739607 Question Type : MCQ Option Shuffling : Yes Display Question Number : Yes  
Single Line Question Option : No Option Orientation : Vertical

Correct Marks : 1 Wrong Marks : 0.25

Which of these activities is used with drawings?

Options :

- ✖ Listen and guess
- ✔ Listen and label
- ✖ Listen and repeat
- ✖ Listen and predict

Question Number : 181 Question Id : 99836739607 Question Type : MCQ Option Shuffling : Yes Display Question Number : Yes  
Single Line Question Option : No Option Orientation : Vertical

Correct Marks : 1 Wrong Marks : 0.25

निम्नलिखित में से चित्रकारी के साथ किस गतिविधि का उपयोग किया जाता है?

Options :

- ✖ सुनो और अनुमान लगाओ
- ✔ सुनो और लेबल करो
- ✖ सुनो और दोहराओ
- ✖ सुनो तथा भविष्यवाणी करो

Question Number : 182 Question Id : 99836739608 Question Type : MCQ Option Shuffling : Yes Display Question Number : Yes  
Single Line Question Option : No Option Orientation : Vertical

Correct Marks : 1 Wrong Marks : 0.25

Which of the following learning objective(s) can be included in the lesson plan prepared for teaching 'Diversity and unity in India' at class V1 level?

Options :

- ✖ Chart for the development of early civilizations in the context of their cultural diversity
- ✖ Explain the nature of social science in learning about world history
- ✔ Find out the location of diversity features in Indian socio-cultural map
- ✖ Justify how diversity in the world influence the culture and identity of people

Question Number : 182 Question Id : 99836739608 Question Type : MCQ Option Shuffling : Yes Display Question Number : Yes  
Single Line Question Option : No Option Orientation : Vertical

Correct Marks : 1 Wrong Marks : 0.25

निम्नलिखित में से कौन सा अधिगम उद्देश्य कक्षा V1 के स्तर पर 'भारत में विविधता तथा एकता' पढ़ाने के लिए निर्मित पाठ्य योजना में शामिल किया जा सकता है?

Options :

1. ✖ सांस्कृतिक विविधता के संदर्भ में प्रारंभिक सभ्यताओं के विकास के लिए चार्ट
2. ✖ विश्व इतिहास के बारे में जानने के लिए सामाजिक विज्ञान की प्रकृति की व्याख्या करें
3. ✔ भारतीय सामाजिक-सांस्कृतिक मानचित्र में विविधता विशेषताओं के स्थान का पता लगाना
4. ✖ सिद्ध करें की विश्व में विविधता संस्कृति तथा लोगों की पहचान को कैसे प्रभावित करती है

Question Number : 183 Question Id : 99836739609 Question Type : MCQ Option Shuffling : Yes Display Question Number : Yes  
Single Line Question Option : No Option Orientation : Vertical

Correct Marks : 1 Wrong Marks : 0.25

Which of the following is an effective activity while teaching political science through the strategy of role play in a class?

Options :

1. ✖ Asking the students to prepare a play based on any current political issue
2. ✔ Asking the students to play the role of a Panchayat President who is addressing the members of Gram Sabha
3. ✖ Asking the students to write a play based on the topics of political science
4. ✖ Asking the students to watch a dramatized play based on politics

Question Number : 183 Question Id : 99836739609 Question Type : MCQ Option Shuffling : Yes Display Question Number : Yes  
Single Line Question Option : No Option Orientation : Vertical

Correct Marks : 1 Wrong Marks : 0.25

कक्षा में वार्तालाप की कार्यनीति के माध्यम से राजनीतिक विज्ञान पढ़ाने के दौरान निम्नलिखित में से कौन सी एक प्रभावशाली क्रियाकलाप है?

Options :

1. ✖ छात्रों को किसी भी वर्तमान राजनीतिक मुद्दे पर आधारित एक नाटक तैयार करने के लिए कहना
2. ✔ छात्रों को एक पंचायत अध्यक्ष की भूमिका निभाने के लिए कहना जो ग्राम सभा के सदस्यों को संबोधित कर रहा हो
3. ✖ छात्रों को राजनीतिक विज्ञान के विषय पर आधारित एक नाटक लिखने के लिए कहना
4. ✖ छात्रों को राजनीति पर आधारित एक नाटकीकृत नाटक देखने के लिए कहना

Question Number : 184 Question Id : 99836739610 Question Type : MCQ Option Shuffling : Yes Display Question Number : Yes  
Single Line Question Option : No Option Orientation : Vertical

Correct Marks : 1 Wrong Marks : 0.25

Which of the following is/are approach(es) adopted by social scientists in understanding sociology?

- I. Comparative Approach
- II. Functionalist Approach
- III. Historical Approach
- IV. Statistical Approach

Options :

1. ✖ I, II and III
2. ✖ II, III and IV
3. ✖ I, III and IV
4. ✔ I, II, III and IV

Question Number : 184 Question Id : 99836739610 Question Type : MCQ Option Shuffling : Yes Display Question Number : Yes  
Single Line Question Option : No Option Orientation : Vertical

Correct Marks : 1 Wrong Marks : 0.25

समाजशास्त्र को समझने में समाज वैज्ञानिकों द्वारा अपनाया/अपनाए/गए उपागम निम्नलिखित में से कौन सा/से है/हैं?

- I. तुलनात्मक उपागम
- II. प्रकार्यवादी उपागम
- III. ऐतिहासिक उपागम
- IV. सांख्यिकीय उपागम

Options :

- 1. ✖ I,II तथा III
- 2. ✖ II,III तथा IV
- 3. ✖ I,III तथा IV
- 4. ✔ I,II,III तथा IV

Question Number : 185 Question Id : 99836739611 Question Type : MCQ Option Shuffling : Yes Display Question Number : Yes  
Single Line Question Option : No Option Orientation : Vertical

Correct Marks : 1 Wrong Marks : 0.25

Which of the following work(s) of students can be taken into account for portfolio assessment?

- I. List of story books read by the child
- II. Collection of leaves, textiles etc.
- III. Samples of child's self assessment sheets

Options :

- 1. ✖ Only I
- 2. ✖ Only II
- 3. ✖ Both I and III
- 4. ✔ I, II and III

Question Number : 185 Question Id : 99836739611 Question Type : MCQ Option Shuffling : Yes Display Question Number : Yes  
Single Line Question Option : No Option Orientation : Vertical

Correct Marks : 1 Wrong Marks : 0.25

पोर्टफोलियो मूल्यांकन के लिए निम्नलिखित में से छात्रों का/के कौन सा/से कार्य / कार्यों को काम में लिया जा सकता है?

- I. बच्चे द्वारा पढ़ी गई कहानी की पुस्तकों की सूची
- II. पत्तियों, वस्त्रों आदि का संग्रह
- III. बच्चों की स्वतः मूल्यांकन शीट के नमूने

Options :

- 1. ✖ केवल I
- 2. ✖ केवल II
- 3. ✖ I तथा III दोनों
- 4. ✔ I, II तथा III

Question Number : 186 Question Id : 99836739612 Question Type : MCQ Option Shuffling : Yes Display Question Number : Yes  
Single Line Question Option : No Option Orientation : Vertical

Correct Marks : 1 Wrong Marks : 0.25

Which of the following is NOT a type of model as a learning resource in social science?

Options :

- 1. ✖ Working model
- 2. ✖ Sectional model
- 3. ✔ Physical model
- 4. ✖ Simple model

Question Number : 186 Question Id : 99836739612 Question Type : MCQ Option Shuffling : Yes Display Question Number : Yes  
Single Line Question Option : No Option Orientation : Vertical

Correct Marks : 1 Wrong Marks : 0.25

निम्नलिखित में से कौन सा सामाजिक विज्ञान में अधिगम संसाधन के रूप में आदर्श का एक प्रकार नहीं है?

Options :

1. ✖ वर्किंग आदर्श
2. ✖ अनुभागीय आदर्श
3. ✔ भौतिक आदर्श
4. ✖ सरल आदर्श

Question Number : 187 Question Id : 99836739613 Question Type : MCQ Option Shuffling : Yes Display Question Number : Yes  
Single Line Question Option : No Option Orientation : Vertical

Correct Marks : 1 Wrong Marks : 0.25

In a mixture of 50 litres, milk and water are in the ratio of 4 : 1 respectively. How much more milk should be added in the mixture so that the ratio of milk and water will become 9 : 1 respectively?

Options :

1. ✖ 8 litres
2. ✖ 40 litres
3. ✔ 50 litres
4. ✖ 70 litres

Question Number : 187 Question Id : 99836739613 Question Type : MCQ Option Shuffling : Yes Display Question Number : Yes  
Single Line Question Option : No Option Orientation : Vertical

Correct Marks : 1 Wrong Marks : 0.25

50 लीटर के एक मिश्रण में दूध तथा पानी क्रमशः 4 : 1 के अनुपात में है। इस मिश्रण में कितना दूध और मिलाया जाना चाहिए ताकि दूध तथा पानी का अनुपात क्रमशः 9 : 1 हो जाए?

Options :

1. ✖ 8 लीटर
2. ✖ 40 लीटर
3. ✔ 50 लीटर
4. ✖ 70 लीटर

Question Number : 188 Question Id : 99836739614 Question Type : MCQ Option Shuffling : Yes Display Question Number : Yes  
Single Line Question Option : No Option Orientation : Vertical

Correct Marks : 1 Wrong Marks : 0.25

Cost price of 3 pens and 4 books is Rs. 95. Cost price of 5 pens and 2 books is Rs. 65. What is the cost price of one book?

Options :

1. ✖ Rs. 15
2. ✖ Rs. 25
3. ✖ Rs. 10
4. ✔ Rs. 20

Question Number : 188 Question Id : 99836739614 Question Type : MCQ Option Shuffling : Yes Display Question Number : Yes  
Single Line Question Option : No Option Orientation : Vertical

Correct Marks : 1 Wrong Marks : 0.25

3 पेन तथा 4 किताब का क्रय मूल्य 95 रुपये है। 5 पेन तथा 2 किताब का क्रय मूल्य 65 रुपये है। एक किताब का क्रय मूल्य क्या है?

Options :

1. ✖ 15 रुपये
2. ✖ 25 रुपये

3. ✖ 10 रुपये

4. ✔ 20 रुपये

Question Number : 189 Question Id : 99836739615 Question Type : MCQ Option Shuffling : Yes Display Question Number : Yes  
Single Line Question Option : No Option Orientation : Vertical

Correct Marks : 1 Wrong Marks : 0.25

Highest common factor of two mutually prime numbers is \_\_\_\_\_.

Options :

1. ✖ their product

2. ✖ 0

3. ✔ 1

4. ✖ their sum

Question Number : 189 Question Id : 99836739615 Question Type : MCQ Option Shuffling : Yes Display Question Number : Yes  
Single Line Question Option : No Option Orientation : Vertical

Correct Marks : 1 Wrong Marks : 0.25

दो परस्पर अभाज्य संख्याओं का महत्तम समापवर्तक \_\_\_\_\_ होता है।

Options :

1. ✖ उनका गुणनफल

2. ✖ 0

3. ✔ 1

4. ✖ उनका योग

Question Number : 190 Question Id : 99836739616 Question Type : MCQ Option Shuffling : Yes Display Question Number : Yes  
Single Line Question Option : No Option Orientation : Vertical

Correct Marks : 1 Wrong Marks : 0.25

Which of the following statements is/are not correct?

Options :

1. ✖ A quadrilateral with all sides of equal length and all angles right angles is called square

2. ✖ A quadrilateral with all 4 sides of equal length is called rhombus

3. ✖ A quadrilateral with all 4 angles to be right angles is a rectangle

4. ✔ A parallelogram with one angle right angle cannot be said as a rectangle

Question Number : 190 Question Id : 99836739616 Question Type : MCQ Option Shuffling : Yes Display Question Number : Yes  
Single Line Question Option : No Option Orientation : Vertical

Correct Marks : 1 Wrong Marks : 0.25

निम्नलिखित में से कौन सा/से कथन सही नहीं है/हैं?

Options :

1. ✖ समान लंबाई की भुजाओं तथा सभी कोण समकोण वाले एक चतुर्भुज को वर्ग कहा जाता है

2. ✖ एक चतुर्भुज जिसकी सभी चारों भुजाएँ समान लंबाई की होती हैं को एक सम चतुर्भुज कहा जाता है

3. ✖ एक चतुर्भुज जिसके सभी कोण समकोण हैं, आयत होता है

4. ✔ एक सामांतर चतुर्भुज जिसका एक कोण समकोण है, को आयत नहीं कहा जा सकता है

Question Number : 191 Question Id : 99836739617 Question Type : MCQ Option Shuffling : Yes Display Question Number : Yes  
Single Line Question Option : No Option Orientation : Vertical

Correct Marks : 1 Wrong Marks : 0.25

One solar day is equal to how many hours?

Options :

1. ✔ 24

2. ✖ 18
3. ✖ 22
4. ✖ 20

Question Number : 191 Question Id : 99836739617 Question Type : MCQ Option Shuffling : Yes Display Question Number : Yes  
Single Line Question Option : No Option Orientation : Vertical

Correct Marks : 1 Wrong Marks : 0.25

एक सोलर दिन कितने घंटों के बराबर होता है?

Options :

1. ✔ 24
2. ✖ 18
3. ✖ 22
4. ✖ 20

Question Number : 192 Question Id : 99836739618 Question Type : MCQ Option Shuffling : Yes Display Question Number : Yes  
Single Line Question Option : No Option Orientation : Vertical

Correct Marks : 1 Wrong Marks : 0.25

A symbol having a fixed numerical value is called a \_\_\_\_\_ .

Options :

1. ✖ Variable
2. ✔ Constant
3. ✖ Theorem
4. ✖ Expression

Question Number : 192 Question Id : 99836739618 Question Type : MCQ Option Shuffling : Yes Display Question Number : Yes  
Single Line Question Option : No Option Orientation : Vertical

Correct Marks : 1 Wrong Marks : 0.25

एक निश्चित संख्यात्मक मान वाले प्रतीक चिह्न को एक \_\_\_\_\_ कहा जाता है।

Options :

1. ✖ चर
2. ✔ स्थिरांक
3. ✖ प्रमेय
4. ✖ अभिव्यक्ति

Question Number : 193 Question Id : 99836739619 Question Type : MCQ Option Shuffling : Yes Display Question Number : Yes  
Single Line Question Option : No Option Orientation : Vertical

Correct Marks : 1 Wrong Marks : 0.25

\_\_\_\_\_ is the activity of breaking an observation or theory down into simpler concepts in order to understand it.

Options :

1. ✖ evolution
2. ✔ analysis
3. ✖ creationism
4. ✖ reductionism

Question Number : 193 Question Id : 99836739619 Question Type : MCQ Option Shuffling : Yes Display Question Number : Yes  
Single Line Question Option : No Option Orientation : Vertical

Correct Marks : 1 Wrong Marks : 0.25

\_\_\_\_\_ किसी अवलोकन या सिद्धांत को समझने के लिए सरल अवधारणाओं में तोड़ने की गतिविधि है।

Options :



1. ✖ विकास
2. ✔ विश्लेषण
3. ✖ सृष्टिवाद
4. ✖ कटोतिवाद

Question Number : 194 Question Id : 99836739620 Question Type : MCQ Option Shuffling : Yes Display Question Number : Yes  
Single Line Question Option : No Option Orientation : Vertical

Correct Marks : 1 Wrong Marks : 0.25

Which of the following condition must be satisfied by a hypothesis in order to be scientific?

- I. It should be consistent with the evidence.
- II. It should be testable by supporting it with relevant data.

Options :

1. ✖ Only I
2. ✖ Only II
3. ✔ Both I and II
4. ✖ Neither I nor II

Question Number : 194 Question Id : 99836739620 Question Type : MCQ Option Shuffling : Yes Display Question Number : Yes  
Single Line Question Option : No Option Orientation : Vertical

Correct Marks : 1 Wrong Marks : 0.25

निम्नलिखित में से कौन सी स्थिति विज्ञान सम्बंधि होने के लिए एक परिकल्पना द्वारा संतुष्ट होनी चाहिए?

- I. यह सबूत के अनुरूप होनी चाहिए
- II. यह प्रासंगिक डेटा के साथ समर्थन के द्वारा परीक्षण योग्य होना चाहिए

Options :

1. ✖ केवल I
2. ✖ केवल II
3. ✔ I तथा II दोनों
4. ✖ ना ही I ना ही II

Question Number : 195 Question Id : 99836739621 Question Type : MCQ Option Shuffling : Yes Display Question Number : Yes  
Single Line Question Option : No Option Orientation : Vertical

Correct Marks : 1 Wrong Marks : 0.25

\_\_\_\_\_ is a type of teaching that encourages students to take a more active role in their learning process by answering a series of questions or solving problems designed to introduce a general concept.

Options :

1. ✖ Expository approach
2. ✖ Discovery approach
3. ✔ Inquiry approach
4. ✖ Lecture method

Question Number : 195 Question Id : 99836739621 Question Type : MCQ Option Shuffling : Yes Display Question Number : Yes  
Single Line Question Option : No Option Orientation : Vertical

Correct Marks : 1 Wrong Marks : 0.25

\_\_\_\_\_ एक प्रकार का शिक्षण है जो छात्रों को एक सामान्य अवधारणा को पेश करने के लिए डिज़ाइन की गयी समस्याओं को हल करने या प्रश्नों की एक श्रृंखला का जवाब देने के द्वारा अपनी अधिगम की प्रक्रिया में अधिक सक्रिय भूमिका निभाने के लिए प्रोत्साहित करता है।

Options :

1. ✖ एक्सपोजिटरी उपागम
2. ✖ अनवेषण उपागम

3. ✓ पूछताछ उपागम
4. ✗ व्याख्यान पद्धति

Question Number : 196 Question Id : 99836739622 Question Type : MCQ Option Shuffling : Yes Display Question Number : Yes  
Single Line Question Option : No Option Orientation : Vertical

Correct Marks : 1 Wrong Marks : 0.25

Which of the following statements regarding fair testing investigation method used by a teacher in science classroom is/are correct?

- I. They are concerned with observing and exploring relations between variables.  
II. The emphasis is on pupils to identify one (or more) independent variable(s) to be manipulated independently of other factors.

Options :

1. ✗ Only I
2. ✗ Only II
3. ✓ Both I and II
4. ✗ Neither I nor II

Question Number : 196 Question Id : 99836739622 Question Type : MCQ Option Shuffling : Yes Display Question Number : Yes  
Single Line Question Option : No Option Orientation : Vertical

Correct Marks : 1 Wrong Marks : 0.25

विज्ञान कक्षा में शिक्षक द्वारा उपयोग की जाने वाली निष्पक्ष परीक्षण जांच पद्धति के बारे में निम्नलिखित में से कौन सा/से कथन सही है/हैं?

- I. वे चरों के बीच संबंधों को देखने और उनकी खोज करने से संबंधित हैं।  
II. अन्य कारकों से स्वतंत्र रूप से हेरफेर करने के लिए एक या अधिक स्वतंत्र चरों की पहचान करने के लिए विद्यार्थियों पर जोर दिया जाता है।

Options :

1. ✗ केवल I
2. ✗ केवल II
3. ✓ I तथा II दोनों
4. ✗ ना ही I ना ही II

Question Number : 197 Question Id : 99836739623 Question Type : MCQ Option Shuffling : Yes Display Question Number : Yes  
Single Line Question Option : No Option Orientation : Vertical

Correct Marks : 1 Wrong Marks : 0.25

Which of the following statements regarding lesson plan developed by a teacher is/are correct?

- I. It reflects interests and heads of students.  
II. It correlates with the teacher's philosophy of education.

Options :

1. ✗ Only I
2. ✗ Only II
3. ✓ Both I and II
4. ✗ Neither I nor II

Question Number : 197 Question Id : 99836739623 Question Type : MCQ Option Shuffling : Yes Display Question Number : Yes  
Single Line Question Option : No Option Orientation : Vertical

Correct Marks : 1 Wrong Marks : 0.25

शिक्षक द्वारा विकसित पाठ्य योजना के बारे में निम्नलिखित में से कौन सा/से कथन सही है/हैं?

- I. यह छात्रों के हितों और प्रमुखों को दर्शाता है।  
II. यह शिक्षक के शिक्षा के दर्शन शास्त्र से सहसंबंधित है।

Options :

1. ✖ केवल I
2. ✖ केवल II
3. ✔ I तथा II दोनों
4. ✖ ना ही I ना ही II

Question Number : 198 Question Id : 99836739624 Question Type : MCQ Option Shuffling : Yes Display Question Number : Yes  
Single Line Question Option : No Option Orientation : Vertical

Correct Marks : 1 Wrong Marks : 0.25

Which of the following assessment methods can be used to obtain a balanced picture of the child's progress in science?

- I. Teacher observation
- II. Concept mapping
- III. Performance on teacher-designed tasks

Options :

1. ✖ Both I and II
2. ✖ Both II and III
3. ✖ Both I and III
4. ✔ I, II and III

Question Number : 198 Question Id : 99836739624 Question Type : MCQ Option Shuffling : Yes Display Question Number : Yes  
Single Line Question Option : No Option Orientation : Vertical

Correct Marks : 1 Wrong Marks : 0.25

विज्ञान में बच्चे की प्रगति की संतुलित तस्वीर प्राप्त करने के लिए निम्नलिखित में से कौन सी मूल्यांकन पद्धति का उपयोग किया जा सकता है?

- I. शिक्षक प्रक्षेपण
- II. अवधारणा मानचित्रण
- III. शिक्षक द्वारा डिज़ाइन किए गए कार्यों पर प्रदर्शन

Options :

1. ✖ I तथा II दोनों
2. ✖ II तथा III दोनों
3. ✖ I तथा III दोनों
4. ✔ I, II तथा III

Question Number : 199 Question Id : 99836739625 Question Type : MCQ Option Shuffling : Yes Display Question Number : Yes  
Single Line Question Option : No Option Orientation : Vertical

Correct Marks : 1 Wrong Marks : 0.25

Which of the following is/are correct about term 'special educational needs'?

- I. Solely pertains to children with disabilities
- II. For childrens with individual educational need

Options :

1. ✖ Only I
2. ✔ Only II
3. ✖ Both I and II
4. ✖ Neither I nor II

Question Number : 199 Question Id : 99836739625 Question Type : MCQ Option Shuffling : Yes Display Question Number : Yes  
Single Line Question Option : No Option Orientation : Vertical

Correct Marks : 1 Wrong Marks : 0.25

निम्नलिखित में से कौन सा/से 'विशेष शैक्षिक आवश्यकताओं' के बारे में सही है/हैं?

- I. केवल विकलांग बच्चों से संबंधित है
- II. व्यक्तिगत शैक्षिक आवश्यकता वाले बच्चों के लिए

Options :

- 1. ✗ केवल I
- 2. ✓ केवल II
- 3. ✗ I तथा II दोनों
- 4. ✗ ना ही I ना ही II

Question Number : 200 Question Id : 99836739626 Question Type : MCQ Option Shuffling : Yes Display Question Number : Yes  
Single Line Question Option : No Option Orientation : Vertical

Correct Marks : 1 Wrong Marks : 0.25

Inclusion means the process of \_\_\_\_\_ .

Options :

- 1. ✓ educating children with SEN alongside their peers in mainstream schools
- 2. ✗ educating children with SEN in mainstream schools but in different classes
- 3. ✗ educating children with SEN in special schools with different curriculum
- 4. ✗ educating children with SEN with same curriculum in special schools

Question Number : 200 Question Id : 99836739626 Question Type : MCQ Option Shuffling : Yes Display Question Number : Yes  
Single Line Question Option : No Option Orientation : Vertical

Correct Marks : 1 Wrong Marks : 0.25

समावेश का अर्थ है \_\_\_\_\_ की प्रक्रिया।

Options :

- 1. ✓ एस. ई. एन. वाले बच्चों को मुख्यधारा के स्कूलों में अपने साथियों के साथ शिक्षित करने
- 2. ✗ एस. ई. एन. वाले बच्चों को मुख्यधारा के स्कूलों में लेकिन विभिन्न कक्षाओं में शिक्षित करने
- 3. ✗ एस. ई. एन. वाले बच्चों को अलग पाठ्यक्रम के साथ विशेष स्कूलों में शिक्षित करने
- 4. ✗ एस. ई. एन. वाले बच्चों को विशेष स्कूलों में समान पाठ्यक्रम के साथ शिक्षित करने